

شكراً لتحميلك هذا الملف من موقع المناهج السعودية



ورقة عمل درس الزوايا محلولة

[موقع المناهج](#) ← [المناهج السعودية](#) ← [الصف الرابع](#) ← [رياضيات](#) ← [الفصل الثاني](#) ← [الملف](#)

تاريخ نشر الملف على موقع المناهج: 02:19:47 2024-02-07

التواصل الاجتماعي بحسب الصف الرابع



المزيد من الملفات بحسب الصف الرابع والمادة رياضيات في الفصل الثاني

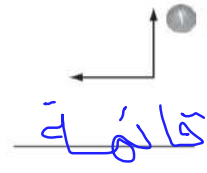
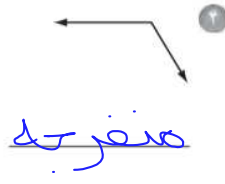
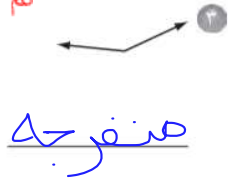
نموذج وورد لاختبار نهائي 1445هـ	1
أسئلة مراجعة نهائية غير محلولة	2
شرح درس التماثل الدوراني	3
ورقة تدريبات درس المثلث	4
اختبارات الفصول 5 و6 و7 و8	5

ورقة عمل - الزوايا - الصف الرابع ابتدائي

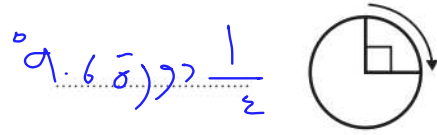
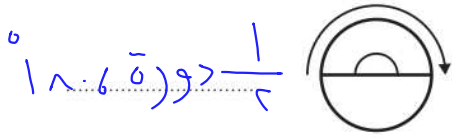
الاسم: الفصل:

صنّف كلّ زاوية فيما يلي إلى قائمة أو حادة أو منفرجة:

تم الحل بواسطة: غيثة عطاء..
@cloud_s86

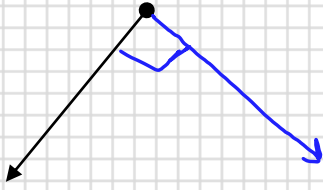


اكتب قياس كلّ زاوية بالدرجات، وبالدرجات:

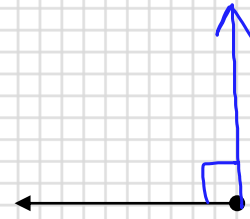


ارسم الزاوية المطلوبة:-

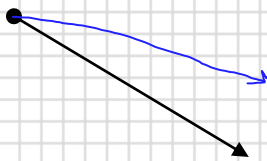
ارسم زاوية قائمة



ارسم زاوية قائمة



ارسم زاوية حادة



ارسم زاوية منفرجة

