

تم تحميل هذا الملف من موقع المناهج السعودية



الملف اختبار ثاني للفترة الأولى

[موقع المناهج](#) ← [المناهج السعودية](#) ← [الصف الرابع](#) ← [رياضيات](#) ← [الفصل الثالث](#)

الملف اختبار ثاني للفترة الأولى

[موقع المناهج](#) ← [المناهج السعودية](#) ← [الصف الرابع](#) ← [رياضيات](#) ← [الفصل الثالث](#)

المزيد من الملفات بحسب الصف الرابع والمادة رياضيات في الفصل الثالث

ورقة عمل وحدات الكتلة في النظام المتري	1
واجب وحدات السعة والكتلة	2
دفتر الرياضيات للفصل الثالث	3
اختبار الفصل التاسع القياس	4
أوراق عمل فصل القياس	5

اسم الطالبة: الصف الرابع (.....)

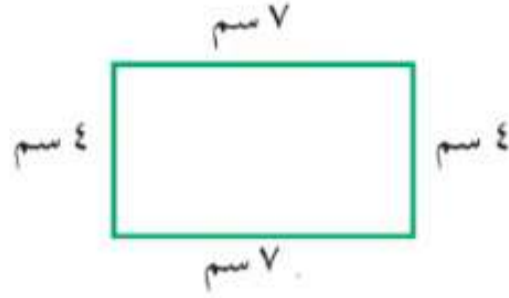
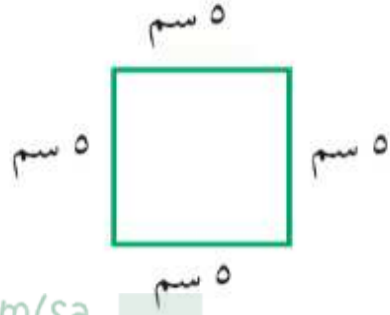
٢٠

السؤال الأول: اختر الإجابة الصحيحة لكل مما بوضع دائرة عليها:

١	أفضل تقدير لطول القارب :	أ	٦سم	ب	٢م	ج	٦ملم	د	٥كلم
٢	افضل تقدير لطول مدرج طائرات	أ	٥ملم	ب	٥كلم	ج	٥م	د	٥٠سم
٣	الوحدة المناسبة لقياس طول كتاب مدرسي	أ	سم	ب	ملم	ج	كلم	د	م
٤	الكيلو متر وحدة مناسبة لقياس ...	أ	طول نملة	ب	المسافة من الخرج للرياض	ج	طول قلم سبورة	د	طول غرفة
٥	التقدير المناسب لكتلة حبة الفراولة	أ	٢٥جم	ب	٥٠كجم	ج	٥سم	د	٥٠٠٠ملم
٦	٣ ذكر قاسم انه شرب ٣ لتر من الماء بعد مباراة كرة القدم هل هذا معقول؟	أ	نعم معقول	ب	لا غير معقول				
٧	مستطيل طوله ٧م وعرضه ٥م فما مساحة المستطيل ؟	أ	٨متر مربع	ب	٣٥متر مربع	ج	١٦متر مربع	د	١٢متر مربع
٨	أيهما أكبر ، كتلة كيلوجرام من القطن أم كيلو جرام من الحديد؟	أ	الحديد	ب	القطن	ج	متساويان	د	لا يوجد إجابة
٩	لوحة مربعة الشكل طول ضلعها ٩سم فما مساحتها ؟	أ	٩سم مربع	ب	٨١سم مربع	ج	١٨سم	د	٣٦سم مربع
١٠	أي الوحدات التالية الأفضل لقياس كتلة سيارة؟	أ	الليتر	ب	الكيلو جرام	ج	الجرام	د	المتر

السؤال الثاني:

أوجدني محيط كل شكل

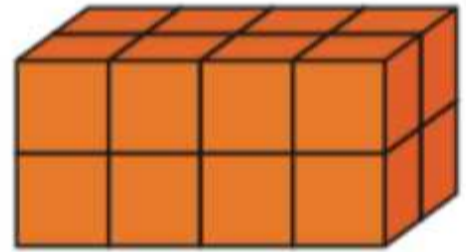


almanahj.com/sa

المنهاج السعودية

السؤال الثالث:

أوجدني حجم المجسم التالي



السؤال الرابع:

ما طول الفترة الزمنية من الساعة ٤:١٥ مساءً وحتى الساعة ٥:٣٠ مساءً؟

السؤال الخامس:

اكتب الكسر الذي يمثل الجزء المظلل

