

تم تحميل هذا الملف من موقع المناهج السعودية



الملف أسئلة مراجعة عامة

[موقع المناهج](#) ⇨ [المناهج السعودية](#) ⇨ [الصف الرابع](#) ⇨ [رياضيات](#) ⇨ [الفصل الثاني](#)

الملف أسئلة مراجعة عامة

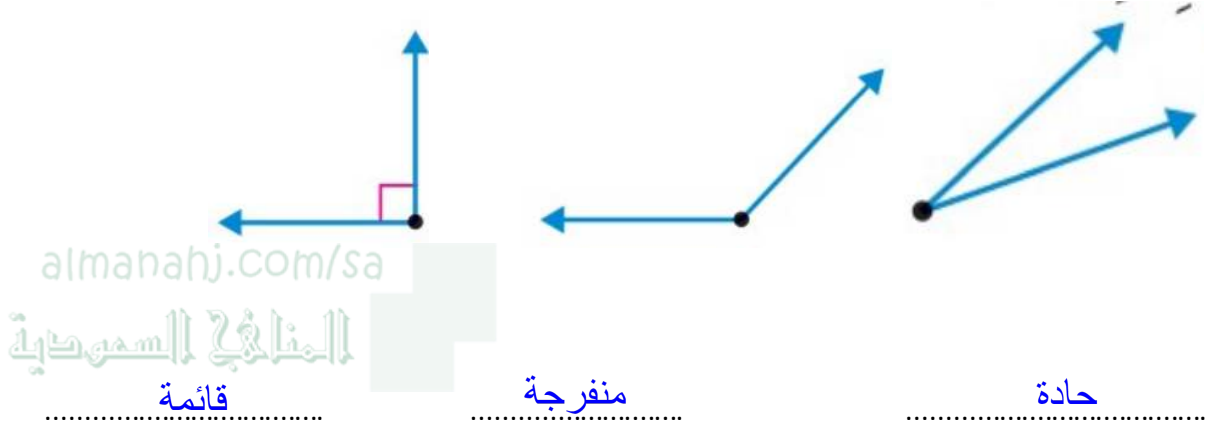
[موقع المناهج](#) ⇨ [المناهج السعودية](#) ⇨ [الصف الرابع](#) ⇨ [رياضيات](#) ⇨ [الفصل الثاني](#)

المزيد من الملفات بحسب الصف الرابع والمادة رياضيات في الفصل الثاني

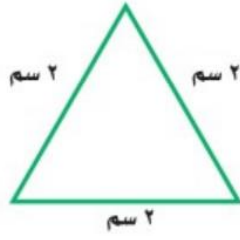
| | |
|----------------------------------------------|---|
| تحميل كتاب الرياضيات | 1 |
| الكسور الاعتيادية | 2 |
| الأسئلة المفسوحة للصف الرابع | 3 |
| دليل اختبارات TIMSS | 4 |
| دليل التقويم | 5 |

اسئلة مراجعة الرياضيات

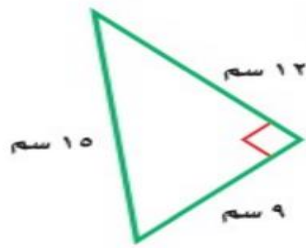
س ١ / صنفى الزوايا إلى حادة قائمة منفرجة ؟



س 2 / صنفى المثلث بحسب الأضلاع والزوايا:

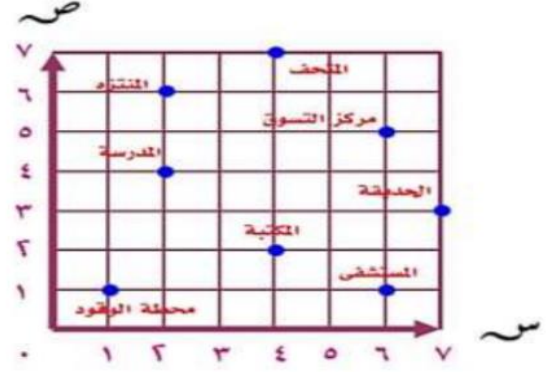


المثلث متطابق الأضلاع
المثلث حاد الزوايا



المثلث مختلف الأضلاع
المثلث قائم الزوايا

س 3 / حدي الموقع الذي يقع عند كل زوج مرتب:



محطة الوقود (1,1)
المدرسة (4,2)

الزوج المرتب (٤ ، ٢) يمثل موقع...المكتبة.....:

الزوج المرتب (٧ ، ٣) يمثل موقع...الحديقة.....:

س 4 / حدي الموقع الذي يقع عند كل زوج مرتب :



الدفاع المدني (9,9)

محطة الحافلات (2,3)

الزوج المرتب (١ ، ٦) يمثل موقع...المستشفى.....:

الزوج المرتب (٨ ، ٣) يمثل موقع...المجمع التجاري.....:

س5/ قومي بحل هذه المسألة باستخدام الخطوات الأربعة:

يلزم ٤ أكواب من الدقيق لصنع طبق من الكعك ويلزم نصف هذا العدد لصنع فطيرة جبن فكم كوبا من الدقيق يلزم لصنع ٧ فطائر؟

almanahj.com/sa

المنهج السموية

| | |
|-----------------------------------------------------------------------------------|-------|
| المعطيات: | افهم |
| * يلزم 4 أكواب من الدقيق لصنع طبق من الكعك * يلزم نصف هذا العدد لصنع فطيرة جبن | |
| المطلوب: | |
| كم كوب من الدقيق يلزم لصنع 7 فطائر | |
| استخدم عملية الضرب | اخطط |
| $14 = 7 \times 2$ كوب | احل |
| $14 = 7 + 7$ | اتحقق |

س 6 / قومي بحل هذه المسألة بإستخدام الخطوات الأربعة:

إذا علمت أن ٤ ديبه تأكل ٢٠٠٠ نملة في اليوم فما عدد النمل الذي يأكله دبان في اليوم ؟

| | |
|---------------------------------------------------------------------|-------|
| المعطيات: | افهم |
| 4 ديبه تأكل 2000 نملة في اليوم almanahj.com/sa المنهج السموية | |
| المطلوب: | |
| ما عدد النمل الذي يأكله دبان في اليوم ؟ | |
| استخدم عملية القسمة | اخطط |
| $1000 = 2 \div 2000$ | احل |
| $2000 = 1000 + 1000$ | اتحقق |

س 7 / أوجد ناتج مايلي:

| | |
|--------------------------------------------------------------------------------------------------------------------------------------------|-------------------------------------------------------------------------------------------------------------------------------------------|
| $\begin{array}{r} 1 \\ 52 \\ \times 47 \\ \hline 364 \\ 2080 \\ \hline 2444 \end{array} +$ <p>almanahj.com/sa المنهج السعودية</p> | $\begin{array}{r} 1 \\ 2 \\ 35 \\ \times 24 \\ \hline 140 \\ 700 \\ \hline 840 \end{array} +$ |
| $\begin{array}{r} 123 \\ 4 \overline{) 492} \\ \underline{4} \\ 09 \\ \underline{8} \\ 12 \\ \underline{12} \\ 00 \end{array}$ | $\begin{array}{r} 143 \\ 2 \overline{) 286} \\ \underline{2} \\ 08 \\ \underline{8} \\ 06 \\ \underline{6} \\ 00 \end{array}$ |

مع تمنياتي لكن بالتوفيق والنجاح ♥♥

أ / نورة العقيل