

شكراً لتحميلك هذا الملف من موقع المناهج السعودية



أوراق عمل الأسبوع الثامن

[موقع المناهج](#) ⇨ [المناهج السعودية](#) ⇨ [الصف الرابع](#) ⇨ [رياضيات](#) ⇨ [الفصل الثالث](#) ⇨ [الملف](#)

تاريخ نشر الملف على موقع المناهج: 2023-10-14 04:47:13

التواصل الاجتماعي بحسب الصف الرابع

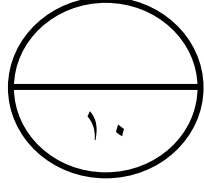


المزيد من الملفات بحسب الصف الرابع والمادة رياضيات في الفصل الثالث

تحضير دروس كامل المنهج	1
نماذج اختبارات نهائية مع نماذج الإجابة	2
نموذج اختبار نهائي الدور الأول	3
أسئلة اختبار مهاراتي	4
اختبار الفصل الثاني عشر جمع الكسور العشرية وطرحها	5

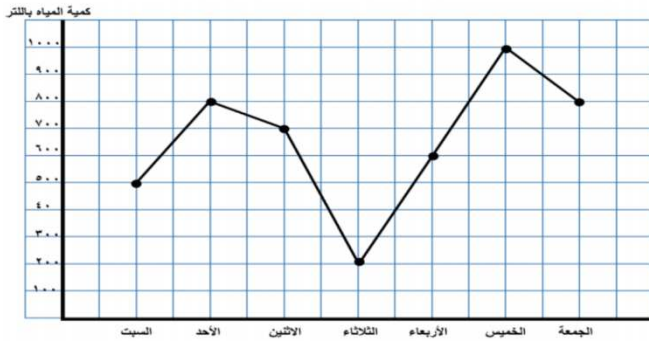
اسم الطالب /

ورقة عمل الفصل الدراسي الأول (الأسبوع الثامن) للصف الرابع الابتدائي للعام الدراسي ١٤٤٥ هـ



المهارات
التمثيل بالخطوط
التمثيل بالقطاعات الدائرية
الاحتمال

١ (قام أحمد بقياس كمية المياه في الخزان على مدار أسبوع فكانت كما في المخطط المجاور استخدم هذا التمثيل للإجابة على الأسئلة التالية :



أ (ما كمية المياه في يوم الخميس

ب (ما اليوم الذي كانت في كمية المياه أقل

ج (ما الفرق بين كمية المياه يوم الجمعة ويوم السبت

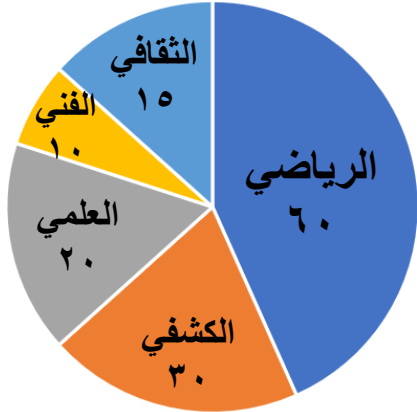
٢ (يبين التمثيل بالقطاعات الدائرية في الشكل المجاور النشاط المفضل عند طلاب المدرسة :

أ (ما النشاط الأكثر تفضلا لدى الطلاب ؟

ب (ما النشاط الأقل تفضيلا لدى الطلاب ؟

ج (كم عدد الطلاب الذين يفضلون النشاط الكشفي و الفني معا ؟

د (كم عدد طلاب المدرسة ؟



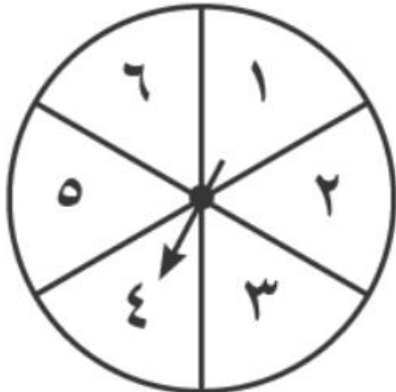
٣ (صف احتمال كل ناتج فيما يلي مستعملا :
مؤكد ، أكثر احتمال ، متساوي الإمكانية ، أقل احتمال ، مستحيل

أ (وقوف المؤشر عند عدد زوجي

ب (وقوف المؤشر عند العدد ٢

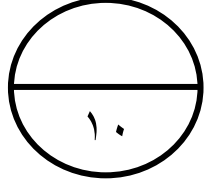
ج (وقوف المؤشر عند العدد ٧

د (وقوف المؤشر عند العدد ١ أو ٢ أو ٣ أو ٤ أو ٥ أو ٦



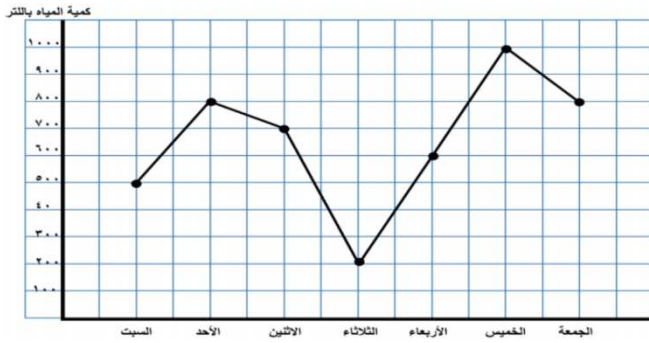
اسم الطالب /

ورقة عمل الفصل الدراسي الأول (الأسبوع الثامن) للصف الرابع الابتدائي للعام الدراسي ١٤٤٥ هـ



المهارات
التمثيل بالخطوط
التمثيل بالقطاعات الدائرية
الاحتمال

١ (قام أحمد بقياس كمية المياه في الخزان على مدار أسبوع فكانت كما في المخطط المجاور استخدم هذا التمثيل للإجابة على الأسئلة التالية :



أ (ما كمية المياه في يوم الخميس

ب (ما اليوم الذي كانت في كمية المياه أقل

ج (ما الفرق بين كمية المياه يوم الجمعة ويوم السبت

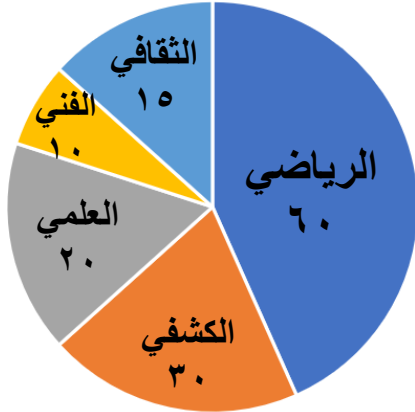
٢ (يبين التمثيل بالقطاعات الدائرية في الشكل المجاور النشاط المفضل عند طلاب المدرسة :

أ (ما النشاط الأكثر تفضلا لدى الطلاب ؟

ب (ما النشاط الأقل تفضيلا لدى الطلاب ؟

ج (كم عدد الطلاب الذين يفضلون النشاط الكشفي و الفني معا ؟

د (كم عدد طلاب المدرسة ؟



٣ (صف احتمال كل ناتج فيما يلي مستعملا :
مؤكد ، أكثر احتمال ، متساوي الإمكانية ، أقل احتمال ، مستحيل

أ (وقوف المؤشر عند عدد زوجي

ب (وقوف المؤشر عند العدد ٢

ج (وقوف المؤشر عند العدد ٧

د (وقوف المؤشر عند العدد ١ أو ٢ أو ٣ أو ٤ أو ٥ أو ٦

