

تم تحميل هذا الملف من موقع المناهج السعودية



نموذج اختبار نهائي الدور الأول مع نموذج الإجابة

موقع المناهج ← المناهج السعودية ← الصف الرابع ← رياضيات ← الفصل الثاني ← اختبارات ← الملف

تاريخ إضافة الملف على موقع المناهج: 19:03:49 2025-01-30

ملفات اكتب للمعلم اكتب للطالب | اختبارات الكترونية | اختبارات | حلول | عروض بوربوينت | أوراق عمل
منهج انجليزي | ملخصات وتقارير | مذكرات وبنوك | الامتحان النهائي للمدرس

المزيد من مادة
رياضيات:

التواصل الاجتماعي بحسب الصف الرابع



صفحة المناهج
السعودية على
فيسبوك

الرياضيات

اللغة الانجليزية

اللغة العربية

التربية الاسلامية

المواد على تلغرام

المزيد من الملفات بحسب الصف الرابع والمادة رياضيات في الفصل الثاني

تقييم درسي الزوايا والقسمة

1

اختبار في رسم المستقيمت وأنواع الزوايا

2

حل ورقة عمل درس الأشكال الثلاثية الأبعاد

3

ورقة عمل درس الأشكال الثلاثية الأبعاد

4

الإجابة على أسئلة اختبار الفصل الخامس الضرب في عدد من رقم واحد

5

اختبار الفصل الدراسي الثاني (الدور الأول) للعام الدراسي ١٤٤٦ هـ

الاسم / الفصل رقم الجلوس

السؤال الأول	السؤال الثاني	السؤال الثالث	المجموع	اسم المصحح	اسم المراجع	اسم المدقق
١٦	١٠	١٤	٤٠			
الدرجة النهائية كتابة						

١٦

السؤال الأول : اختر الإجابة الصحيحة فيما يلي :

١- العدد الذي يعتبر من قواسم العدد ٢٠ هو

أ ٣ ب ٥ ج ٧ د ٩

٢- المضاعفات الأربعة الأولى للعدد ٧ هي :

أ ١، ٧، ١٤، ٢٠ ب ٧، ١٤، ٢١، ٢٨ ج ٧، ١٤، ٢٠، ٢٤ د ١٤، ٢١، ٢٨، ٣٠

٣- ناتج ضرب العددين (٨ × ٨٠٠) ذهنيًا يساوي ؟

أ ٦٤٠٠ ب ١٦٠٠ ج ١٥٠٠ د ٢٥٠٠

٤- تقدير ناتج ضرب ٤ × ١٧٩ يساوي :

أ ٨٠٠ ب ٦٠٠ ج ٤٠٠ د ٢٠٠

٥- أي مسائل الضرب التالية لا تحتاج إلى إعادة تجميع :

أ ٤٤ × ٣ ب ٣٣ × ٣ ج ٥٥ × ٥ د ١٢ × ٦

٦- العدد الذي يجعل الجملة العددية التالية (٢٧٠٠ ÷ ٣ =) صحيحة هو

أ ٩٠ ب ٩٠٠ ج ٩٠٠٠ د ٩

٧- تقدير ناتج قسمة ١٦٤٤ ÷ ٥ يساوي ؟

أ ٢٠٠ ب ٣٠٠ ج ٤٠٠ د ٥٠٠

٨- ناتج قسمة ١٧ ÷ ٢ = :

أ ٨ والباقي ١ ب ٦ والباقي ٢ ج ٨ د ٧



٩- المجسم الذي يصنع باستعمال دائرتين ومستطيل هو :

أ	هرم	ب	مخروط	ج	اسطوانة	د	مكعب
---	-----	---	-------	---	---------	---	------

١٠- الزاوية القائمة قياسها يساوي :

أ	٧٠°	ب	٨٠°	ج	٩٠°	د	١٠٠°
---	-----	---	-----	---	-----	---	------

١١- تسمى الزاوية المجاورة ، زاوية ؟



أ	حادّة	ب	مستقيمة	ج	قائمة	د	منفرجة
---	-------	---	---------	---	-------	---	--------

١٢- عدد الأوجة والرؤوس في المجسم المجاور هي :



أ	٣ أوجه ، ٣ رؤوس	ب	٥ أوجه ، ٣ رؤوس	ج	٥ أوجه ، ٥ رؤوس	د	٤ أوجه ، ٤ رؤوس
---	-----------------	---	-----------------	---	-----------------	---	-----------------

١٣- قياس الزاوية المجاورة بالدورات يساوي :



أ	دورة كاملة	ب	دورة $\frac{3}{4}$	ج	دورة $\frac{1}{4}$	د	دورة $\frac{1}{2}$
---	------------	---	--------------------	---	--------------------	---	--------------------

١٤- الشكل الثنائي الأبعاد المجاور يسمى :



أ	ثماني	ب	سداسي	ج	خماسي	د	رباعي
---	-------	---	-------	---	-------	---	-------

١٥- الشكل الذي ليس له تماثل دوراني هو :

أ		ب		ج		د	
---	--	---	--	---	--	---	--

١٦- الشكل الثلاثي الأبعاد الذي له المنظر الأمامي المجاور هو :



أ		ب		ج		د	
---	--	---	--	---	--	---	--

السؤال الثاني : أ) ضع علامة (✓) أمام العبارة الصحيحة وعلامة (X) أمام العبارة الخاطئة فيما يلي :

١- إذا كان $30 = 6 \times 5$ فإن $300 = 60 \times 50$

٢- المقسوم عليه في الجملة العددية التالية ($900 = 7 \div 6300$) هو ٧

٣- العدد ٤ له قاسمان فقط

٤- الزاوية الحادة قياسها أكبر من (صفر) وأقل من 90°

٥- يسمى المثلث مختلف الأضلاع إذا كانت كل أضلاعه مختلفة .



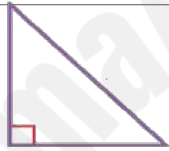
السؤال الثاني (ب) صل بين العمود (أ) بما يناسبه من العمود (ب) بوضع الرقم أمامه فيما يلي :

(ب)	(أ)
	كرة ١
	هرم ثلاثي ٢
	مستقيمان متوازيان ٣
	منشور رباعي ٤
	مستقيمان متعامدان ٥

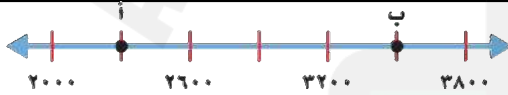
السؤال الثالث : أجب عن المطلوب فيما يلي :

(أ) صنف المثلثات من حيث الزوايا (حاد الزاوية ، قائم الزاوية ، منفرج الزاوية)

٣

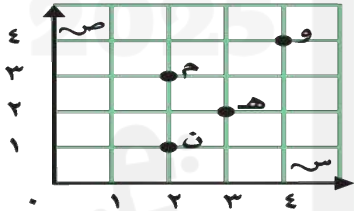


١



(ب) ما النقطة التي تمثل العدد (٢٣٠٠) على خط الأعداد

٤



(ج) من خلال قراءتك للرسم المجاور أجب عما يلي :

- ١- ما الحرف الذي يقع عند الزوج المرتب (٣ ، ٢)
- ٢- ما الحرف الذي يقع عند الزوج المرتب (٤ ، ٤)
- ٣- حدد الزوج المرتب الذي يقع عند حرف (ن) (.....،.....)
- ٤- حدد الزوج المرتب الذي يقع عند حرف (هـ) (.....،.....)

٤

$$\begin{array}{r} \\ 2 \end{array} \overline{) 846}$$

$$\begin{array}{r} 2 \quad 3 \\ 4 \quad 1 \quad \times \\ \hline \end{array}$$

(د) أوجد ناتج مايلي :

٢

(هـ) أراد شخص شراء ثلاث هدايا بالسعر نفسه إذا أعطى البائع ١٠٠ ريال وكان الباقي ريال واحد فكم سعر الهدية الواحدة؟

.....
.....

انتهت الأسئلة

مع أطيب الأمنيات لكم بالتوفيق والنجاح

مديرة المدرسة:

معلمة المارة:

نموذج الإجابة

المادة / رياضيات
الصف / الرابع الابتدائي
الزمن / ساعتان
الفترة / الأولى

المملكة العربية السعودية
وزارة التعليم
إدارة التعليم
مدرسة

وزارة التعليم
Ministry of Education

اختبار الفصل الدراسي الثاني (الدور الأول) للعام الدراسي ١٤٤٦ هـ

الاسم / الفصل رقم الجلوس

السؤال الأول	السؤال الثاني	السؤال الثالث	المجموع	اسم المصحح	اسم المراجع	اسم المدقق
١٦	١٠	١٤	٤٠			
						الدرجة النهائية كتابة

١٦

السؤال الأول : اختر الإجابة الصحيحة فيما يلي :

١- العدد الذي يعتبر من قواسم العدد ٢٠ هو

أ ٣ ب ٥ ج ٧ د ٩

٢- المضاعفات الأربعة الأولى للعدد ٧ هي :

أ ٢٠، ١٤، ٧، ١ ب ٢٨، ٢١، ١٤، ٧ ج ٢٤، ٢٠، ١٤، ٧ د ٣٠، ٢٨، ٢١، ١٤

٣- ناتج ضرب العددين (٨ × ٨٠٠) ذهنيًا يساوي ؟

أ ٦٤٠٠ ب ١٦٠٠ ج ١٥٠٠ د ٢٥٠٠

٤- تقدير ناتج ضرب ٤ × ١٧٩ يساوي :

أ ٨٠٠ ب ٦٠٠ ج ٤٠٠ د ٢٠٠

٥- أي مسائل الضرب التالية لا تحتاج إلى إعادة تجميع :

أ ٤٤ × ٣ ب ٣٣ × ٣ ج ٥٥ × ٥ د ١٢ × ٦

٦- العدد الذي يجعل الجملة العددية التالية (٢٧٠٠ ÷ ٣ =) صحيحة هو

أ ٩٠ ب ٩٠٠ ج ٩٠٠٠ د ٩

٧- تقدير ناتج قسمة ١٦٤٤ ÷ ٥ يساوي ؟

أ ٢٠٠ ب ٣٠٠ ج ٤٠٠ د ٥٠٠

٨- ناتج قسمة ١٧ ÷ ٢ = :

أ ٨ والباقي ١ ب ٦ والباقي ٢ ج ٨ د ٧



٩- المجسم الذي يصنع باستعمال دائرتين ومستطيل هو :

أ	هرم	ب	مخروط	ج <input checked="" type="checkbox"/>	اسطوانة	د	مكعب
---	-----	---	-------	---------------------------------------	---------	---	------

١٠ - الزاوية القائمة قياسها يساوي :

أ	70°	ب	80°	ج <input checked="" type="checkbox"/>	90°	د	100°
---	------------	---	------------	---------------------------------------	------------	---	-------------

١١ - تسمى الزاوية المجاورة ، زاوية ؟



أ	حادة	ب	مستقيمة	ج	قائمة	د	منفرجة <input checked="" type="checkbox"/>
---	------	---	---------	---	-------	---	--------------------------------------------

١٢ - عدد الأوجة والرؤوس في المجسم المجاور هي :



أ	٣ أوجه ، ٣ رؤوس	ب	٥ أوجه ، ٣ رؤوس	ج	٥ أوجه ، ٥ رؤوس <input checked="" type="checkbox"/>	د	٤ أوجه ، ٤ رؤوس
---	-----------------	---	-----------------	---	-----------------------------------------------------	---	-----------------

١٣ - قياس الزاوية المجاورة بالدورات يساوي :



أ	دورة كاملة	ب	دورة $\frac{3}{4}$	ج <input checked="" type="checkbox"/>	دورة $\frac{1}{3}$	د	دورة $\frac{1}{4}$
---	------------	---	--------------------	---------------------------------------	--------------------	---	--------------------

١٤ - الشكل الثنائي الأبعاد المجاور يسمى :



أ	ثماني	ب	سداسي	ج <input checked="" type="checkbox"/>	خماسي	د	رباعي
---	-------	---	-------	---------------------------------------	-------	---	-------

١٥ - الشكل الذي ليس له تماثل دوراني هو :

أ		ب		ج <input checked="" type="checkbox"/>		د	
---	--	---	--	---------------------------------------	--	---	--

١٦ - الشكل الثلاثي الأبعاد الذي له المنظر الأمامي المجاور هو :



أ		ب		ج <input checked="" type="checkbox"/>		د	
---	--	---	--	---------------------------------------	--	---	--

السؤال الثاني : أ) ضع علامة (✓) أمام العبارة الصحيحة وعلامة (X) أمام العبارة الخاطئة فيما يلي :

<input checked="" type="checkbox"/>	١- إذا كان $30 = 6 \times 5$ فإن $300 = 60 \times 50$
<input checked="" type="checkbox"/>	٢- المقسوم عليه في الجملة العددية التالية ($900 = 7 \div 6300$) هو ٧
<input checked="" type="checkbox"/>	٣- العدد ٤ له قاسمان فقط
<input checked="" type="checkbox"/>	٤- الزاوية الحادة قياسها أكبر من (صفر) وأقل من 90°
<input checked="" type="checkbox"/>	٥- يسمى المثلث مختلف الأضلاع إذا كانت كل أضلاعه مختلفة .



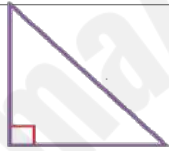
السؤال الثاني (ب) صل بين العمود (أ) بما يناسبه من العمود (ب) بوضع الرقم أمامه فيما يلي :

(ب)		(أ)	
	٥	كرة	١
	٤	هرم ثلاثي	٢
	٢	مستقيمان متوازيان	٣
	٣	منشور رباعي	٤
	١	مستقيمان متعامدان	٥

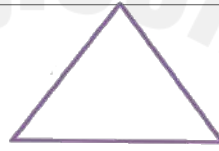
السؤال الثالث : أجب عن المطلوب فيما يلي :

(أ) صنف المثلثات من حيث الزوايا (حاد الزوايا ، قائم الزوايا ، منفرج الزوايا)

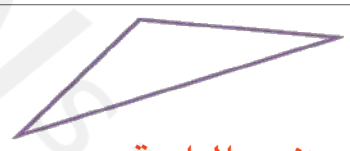
٣



قائم الزاوية



حاد الزوايا



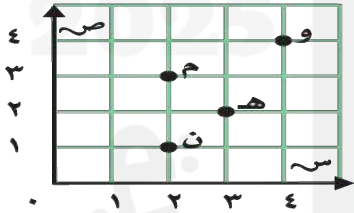
منفرج الزاوية

١



(ب) ما النقطة التي تمثل العدد (٢٣٠٠) على خط الأعداد أ.....

٤



(ج) من خلال قراءتك للرسم المجاور أجب عما يلي :
 ١- ما الحرف الذي يقع عند الزوج المرتب (٣ ، ٢) ... م
 ٢- ما الحرف الذي يقع عند الزوج المرتب (٤ ، ٤) ... و
 ٣- حدد الزوج المرتب الذي يقع عند حرف (ن) (١ ، ٢)
 ٤- حدد الزوج المرتب الذي يقع عند حرف (هـ) (٢ ، ٣)

٤

$$\begin{array}{r} 423 \\ 2 \overline{) 846} \\ \underline{4} \\ 4 \\ \underline{4} \\ 0 \end{array}$$

(د) أوجد ناتج مايلي :

$$\begin{array}{r} 1 \\ 2 \quad 3 \\ 4 \quad 1 \quad x \\ \hline 2 \quad 3 \\ 9 \quad 2 \quad 0 \\ \hline 9 \quad 4 \quad 3 \end{array}$$

٢

(هـ) أراد شخص شراء ثلاث هدايا بسعر نفسه إذا أعطى البائع ١٠٠ ريال وكان الباقي ريال واحد فكم سعر الهدية الواحدة؟

..... ١٠٠ تقسيم ٣ = ٣٣ والباقي ١

انتهت الأسئلة

مع أطيب الأمنيات لكم بالتوفيق والنجاح

مديرة المدرسة:

معلمة المادة: