

شكراً لتحميلك هذا الملف من موقع المناهج السعودية



## اختبار الفصل التاسع القياس

[موقع المناهج](#) ← [المناهج السعودية](#) ← [الصف الرابع](#) ← [رياضيات](#) ← [الفصل الثالث](#) ← [الملف](#)

## التواصل الاجتماعي بحسب الصف الرابع

### روابط مواد الصف الرابع على تلغرام

[الرياضيات](#)

[اللغة الانجليزية](#)

[اللغة العربية](#)

[التربية الاسلامية](#)

## المزيد من الملفات بحسب الصف الرابع والمادة رياضيات في الفصل الثالث

[تحضير دروس كامل المنهج](#)

1

[نماذج اختبارات نهائية مع نماذج الإجابة](#)

2

[نموذج اختبار نهائي الدور الأول](#)

3

[أسئلة اختبار مهاراتي](#)


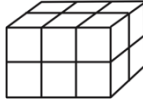

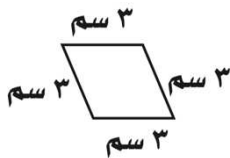
4

[اختبار الفصل الثاني عشر جمع الكسور العشرية وطرحها](#)

5

الاسم	.....	الصف	الرابع /....	اختبار الفصل التاسع ( القياس )
-------	-------	------	--------------	--------------------------------

س١ / اختار الإجابة الصحيحة لكل مما يلي :

١.	أفضل تقدير لطول الحافلة هو:	أ	١ متر	ب	١٠ أمتار	ج	١٠ سنتيمترات	د	١٠ كيلومترات
٢.	أي مما يلي يعد طوله يساوي ١٠ سنتيمترات؟	أ	الشجرة	ب	النافذة	ج	الإصبع	د	الخروف
٣.	أي مما يلي يعد التقدير الأنسب لقياس سعة الشكل المجاور؟								
٤.	الوحدة المناسبة لقياس سعة حوض السباحة	أ	٢ مللتر	ب	٢ لتر	ج	٢٠٠ مللتر	د	٢٠٠ لتر
٥.	أي الوحدات التالية تعد الأفضل لقياس كتلة قطعة شوكولاتة؟	أ	لتر	ب	الجرام	ج	الكيلوجرام	د	المتر
٦.	ما حجم الجسم في الشكل المجاور؟								
٧.	كم تكون الساعة بعد ساعة وعشر دقائق؟	أ	١٠:٣٠	ب	١١:٣٠	ج	١١:٢٠	د	١١:٠٠
٨.	ما مساحة الشكل المجاور؟								
		أ	١٤ وحدة مربعة	ب	١٢ وحدة مربعة	ج	١٦ وحدة مربعة	د	١٣ وحدة مربعة
	س٢ ( أوجد محيط الشكل المجاور؟								
	س٣ ( اشترى محمود سجادة لغرفته طولها ٥ م و عرضها ٤ م ، فما مساحتها؟								