


شكراً لتحميلك هذا الملف من موقع المناهج السعودية



اختبار تشخيصي لمستوى الطلاب في المهارات المستهدفة

[موقع المناهج](#) ← [المناهج السعودية](#) ← [الصف الرابع](#) ← [رياضيات](#) ← [الفصل الثالث](#) ← [الملف](#)

التواصل الاجتماعي بحسب الصف الرابع



روابط مواد الصف الرابع على تلغرام

[الرياضيات](#)

[اللغة الانجليزية](#)

[اللغة العربية](#)

[التربية الاسلامية](#)

المزيد من الملفات بحسب الصف الرابع والمادة رياضيات في الفصل الثالث

<a href="#">تحضير دروس كامل المنهج</a>	1
<a href="#">نماذج اختبارات نهائية مع نماذج الإجابة</a>	2
<a href="#">نموذج اختبار نهائي الدور الأول</a>	3
<a href="#">أسئلة اختبار مهاراتي</a>	4
<a href="#">اختبار الفصل الثاني عشر جمع الكسور العشرية وطرحها</a>	5

تشخيص مستوى الطالبات في المهارات المستهدفة للصف الرابع الابتدائي  
الفصل:  
الاسم:

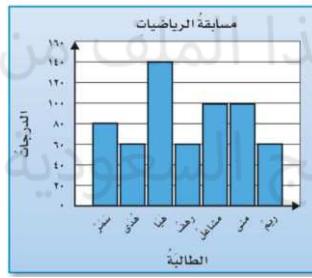
السؤال الأول: الصيغة اللفظية لمليونان وست مئة وسبعة عشر ألفاً تكتب بالصيغة اللفظية كالتالي:

الهدف الأول /قراءة الأعداد وكتابتها ضمن الملايين بطرق مختلفة وترتيبها

- ٢٦١٧٠٠٠  
 ٢٦١٧٠٠  
 ٢٦٧١٠٠  
 ٢٦٧١٠٠٠

الهدف الثاني/ تمثيل البيانات بالنقاط والأعمدة وتفسيرها

السؤال الثاني: من التمثيل البياني المجاور تزيد درجة هيا على درجة سمر بـ:



- ٦٠  
 ١٤٠  
 ٨٠  
 ٤٠

الهدف الثالث/ استعمال عمليات الجمع والطرح والضرب والقسمة لإنشاء جدول أو إكماله

السؤال الثالث: قاعدة الدالة التي يمثلها الجدول المجاور:

القاعدة:	
المخرجة □	المدخلة △
٣٣	٤٤
٢٢	٣٣
١١	٢٢
٠	١١

- = ١٠ - △  
 □ = ١١ - △  
 □ = ١١ + △  
 □ = ١٠ + △

الهدف الرابع/ ضرب عدد من ثلاثة أرقام في عدد من رقمين

السؤال الرابع: ناتج الضرب  $\begin{array}{r} 35 \\ 24 \times \end{array}$  يساوي:

- ٥٩  
 ٨٤٠  
 ٦٢٠  
 ٦٩

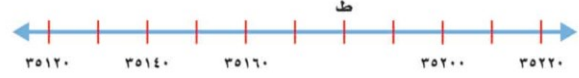
السؤال الخامس: بلغ استهلاك عائلة بدر للمياه ٧٨٩ لترًا في ٣ أيام. إذا كانت العائلة تستهلك الكمية نفسها

الهدف الخامس/ إيجاد ناتج القسمة من ثلاثة أرقام

يوميًا، فكم لترًا تستهلك في اليوم الواحد؟

- ٦٢٣ لترًا  
 ٣٦٢ لترًا  
 ٢٦٣ لترًا  
 ٣٢٦ لترًا

السؤال السادس: من الرسم النقطة ط =



الهدف السادس/ تمثيل النقاط على خط الأعداد  
والمستوى الإحداثي

- 35160 ○  
35170 ○  
35180 ○  
35190 ○

السؤال السابع: نام خالد عند الساعة ٩:١٥، واستيقظ في الساعة ٥:٣٠ صباحاً. فإن طول الفترة الزمنية

التي نامها خالد هي:

الهدف السابع/ إيجاد الزمن المنقضي وطول  
الفترة الزمنية في موقف حياتي

٨ ساعات ○

٨ ساعات و ١٥ دقيقة ○


٤ ساعات و ١٥ دقيقة ○

٤ ساعات و ٣٠ دقيقة ○

تحميل هذا الملف من  
موقع المناهج السعودية

السؤال الثامن: الكسر العشري الذي يعبر عن الجزء المظلل في الشكل المجاور.

الهدف الثامن/ قراءة الكسور العشرية وطرحها



٠,٩ ○

٠,١ ○

٠,٨ ○

٠,٥ ○

alManahj.com/sa

السؤال التاسع: ناتج جمع

$$\begin{array}{r} ٠,٧ \\ + ٠,٢ \\ \hline \end{array}$$

الهدف التاسع/ جمع الكسور العشرية وطرحها

٠,١٤ ○

٠,٩ ○

٠,٥ ○

٠,٦ ○

السؤال العاشر: في مزرعة والد فاطمة طيور وخراف عددها معاً ٢٠، وعدد

الهدف العاشر/ حل المسائل باستعمال التخمين والتحقق

أرجلها ٦٤. فما عدد كل من الطيور والخراف في المزرعة؟

عدد الطيور ٨ وعدد الخراف ١٢ ○

عدد الطيور ١٢ وعدد الخراف ٨ ○

عدد الطيور ١٠ وعدد الخراف ١٠ ○

عدد الطيور ٩ وعدد الخراف ١١ ○

انتهت الأسئلة