

تم تحميل هذا الملف من موقع المناهج السعودية



الملف ورقة عمل وحدات الكتلة في النظام المتري

[موقع المناهج](#) ← [المناهج السعودية](#) ← [الصف الرابع](#) ← [رياضيات](#) ← [الفصل الثالث](#)

الملف ورقة عمل وحدات الكتلة في النظام المتري

[موقع المناهج](#) ← [المناهج السعودية](#) ← [الصف الرابع](#) ← [رياضيات](#) ← [الفصل الثالث](#)

المزيد من الملفات بحسب الصف الرابع والمادة رياضيات في الفصل الثالث

ورقة عمل: وحدات الكتلة في النظام المتري

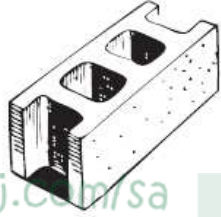
الاسم :

الصف : الرابع

التاريخ

١٤٤٣ / / هـ

اختر التقدير الأنسب لكتلة كل مما يأتي:



٢




١

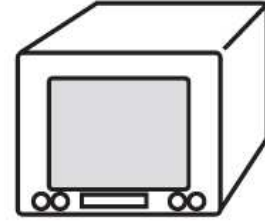
almanahj.com/sa
المنهج السعودية
٣ جم أم ٣ كجم

.....

٢٥٠ جم أم ٢٥٠ كجم



٤



٣

.....
٤٥ جم أم ٤٥ كجم

.....

٢٠ جم أم ٢٠ كجم

٥ إذا كانت كتلة حبة فول هي ٥، فما الوحدة المترية التي استعملت لقياس كتلتها؟

.....

٦ إذا كانت كتلة طفل ١٠، فما الوحدة المترية التي استعملت في قياس كتلته؟

.....