

تم تحميل هذا الملف من موقع المناهج السعودية



اختبار نهائي الدور الأول 1446هـ

موقع المناهج ← المناهج السعودية ← الصف الرابع ← علوم ← الفصل الثاني ← اختبارات ← الملف

تاريخ إضافة الملف على موقع المناهج: 2025-01-20 04:05:52

ملفات اكتب للمعلم اكتب للطالب | اختبارات الكترونية | اختبارات | حلول | عروض بوربوينت | أوراق عمل
منهج انجليزي | ملخصات وتقارير | مذكرات وبنوك | الامتحان النهائي للمدرس

المزيد من مادة
علوم:

التواصل الاجتماعي بحسب الصف الرابع



صفحة المناهج
السعودية على
فيسبوك

الرياضيات

اللغة الانجليزية

اللغة العربية

التربية الاسلامية

المواد على تلغرام

المزيد من الملفات بحسب الصف الرابع والمادة علوم في الفصل الثاني

شرح وعرض الدرس الثاني النظام الشمسي

1

ملخص مفيد لدروس المنهج

2

عرض بوربوينت لدرس الكسوف والخسوف


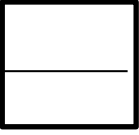
3

ملخص شامل لدروس الفصل الثاني

4

تعزيز مهارات الدرس الرابع الغذاء والتغذية

5



السؤال الأول :

(أ) اكتب اسم المصطلح العلمي المناسب من بين الأقواس أمام الجمل التالية :

المصطلحات / (المحور، -المناعة، - المعدن، - الكوكب، - المرض) :-

- 1- حالة غير طبيعية تؤثر على جسم المخلوق الحي (.....)
- 2- جسم كروي كبير يدور حول الشمس (.....)
- 3- مادة صلبة غير حية تشكل الصخور (.....)
- 4- قدرة الجسم على التصدي لمسببات الأمراض (.....)
- 5- خط حقيقي أو وهمي يدور حوله الجسم (.....)

(ب) عددي اثنان فقط من كل من :

- 1- العادات الصحية التي تجنبنا الأمراض؟ و.....
- 2- الكواكب الصخرية ؟ و.....
- 3- أنواع الصخور ؟ و.....
- 4- مصادر الماء ؟ و.....

(ج) اقرأ الصور التالية :

ثم نصنف الأمراض التالية إلى (معدية - غير معدية) :-

فطريات القدم الرياضية



.....

الزكام وكورونا



.....

السمنة



.....

طالبتي الجميلة اقلبي الصفحة


السؤال الثاني :



(.....)	1- يشكل الماء ثلثي جسم الإنسان
(.....)	2- عدد كواكب المجموعة الشمسية ثمانية كواكب
(.....)	3- تلقي الأرض بظلها على القمر عند حدوث كسوف الشمس
(.....)	4- الإكثار من تناول الدهون والسكريات والغازات غذاء صحي متوازن
(.....)	5- اللون والقساوة والبريق من الخصائص التي تميز التربة
(.....)	6- يستغرق دوران الأرض حول الشمس ٢٤ ساعة سنة كاملة وتسبب الفصول الأربعة

(أ) ضعي علامة (√) أمام العبارات الصحيحة وعلامة (x) أمام العبارات الخاطئة :

(ب) ما أوجه الشبه والاختلاف بين الأرض والشمس؟



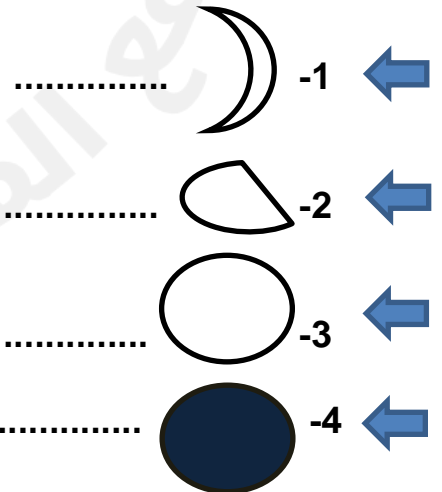
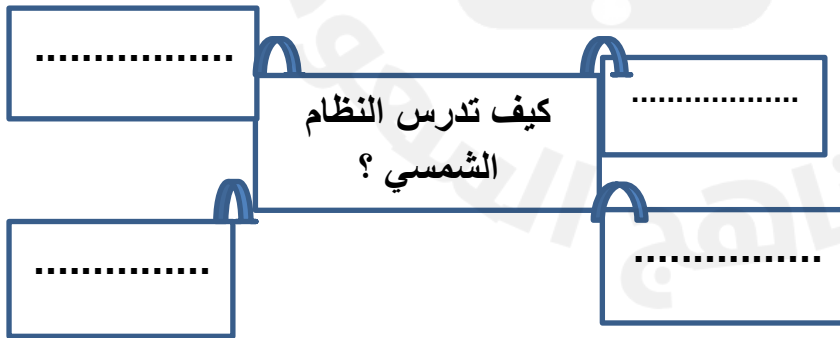
الشمس	الأرض	أوجه المقارنة
.....	التشابه
.....	الاختلاف

(ج) تتبعي المخططات التالية ومن ثم أكملی المطلوب :





2 - كيف تدرس النظام الشمسي ؟

1- أطوار القمر التي تظهر في الشكل:



طالبتى الجميلة اقلبي الصفحة



السؤال الثالث

(أ) اختاري الإجابة الصحيحة بوضع دائرة عليها:

1- نحصل على الفيتامينات من مصادرها . :

(أ. الفواكه -- ب. الزبدة -- ج. اللحوم -- د. الزيت)

2- أكبر الكواكب في المجموعة الشمسية .. :

(أ. المريخ -- ب. المشتري -- ج. زحل -- د. الأرض)

3- ما الخلايا المسؤولة عن حماية الجسم ومهاجمة مسببات الأمراض؟...:

(أ. خلايا الدم البيضاء -- ب. الصفائح الدموية -- ج. البلازما -- د. خلايا الدم الحمراء)

4- أين أجد معظم الماء العذب ؟

(أ. في البحيرات والأنهار -- ب. القمم الجليدية والكتل الثلجية -- ج. الغلاف الجوي -- د. تحت سطح الأرض)

5- إذا كان طول ظلك أقل من طولك الحقيقي، وذلك أثناء سيرك في الحديقة نهارا فإن الوقت تقريبا يكون :

(أ. الظهر -- ب. بعد العصر -- ج. في الصباح الباكر -- د. بعد شروق الشمس قليلا)

6- من الأمثلة على الصخور المتحولة ...:

(أ. الكوارتز -- ب. الرخام -- ج. الزجاج البركاني -- د. الحجر الرملي)

(ب) ضعي الرقم المناسب من العمود (أ) مع ما يناسبه أمام العمود (ب) .:

(ب)		(أ)
استجابة سريعة وتدوم مدة طويلة	1 البروتينات
عن طريق التطعيم وأخذ اللقاح وتدوم مدة قصيرة	2 الهرم الغذائي
تساعد على النمو وتعويض الخلايا التالفة	3 الدهون
دليل يحدد حاجات الفرد الغذائية التي يجب أن يتناولها	4 المناعة الطبيعية
تزود الجسم بالطاقة وتمنحه الدفاء	5 المناعة الاصطناعية

(ج) 1- عللي السبب في تعاقب الليل والنهار؟

ا انتهت الأسئلة وفقك الله 😊
.. معلمة المادة.

