

تم تحميل هذا الملف من موقع المناهج السعودية



الملف اختبار الفترة الأولى

[موقع المناهج](#) ← [المناهج السعودية](#) ← [الصف الرابع](#) ← [رياضيات](#) ← [الفصل الثالث](#)

الملف اختبار الفترة الأولى

[موقع المناهج](#) ← [المناهج السعودية](#) ← [الصف الرابع](#) ← [رياضيات](#) ← [الفصل الثالث](#)

المزيد من الملفات بحسب الصف الرابع والمادة رياضيات في الفصل الثالث

<a href="#">ورقة عمل وحدات الكتلة في النظام المتري</a>	1
<a href="#">واجب وحدات السعة والكتلة</a>	2
<a href="#">دفتر الرياضيات للفصل الثالث</a>	3
<a href="#">اختبار الفصل التاسع القياس</a>	4
<a href="#">أوراق عمل فصل القياس</a>	5

## اختبار الفترة الأولى

الفصل: .....

الاسم: .....

الفصل الدراسي الثالث

الصف الرابع الابتدائي

١٠

السؤال الأول : اختر الإجابة الصحيحة

١. التقدير الأنسب لسعة علبة العصير



١٠٠ اسم

ج

١٠٠ كجم

ج

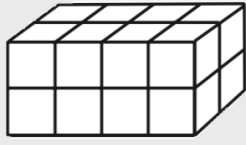
٤٠٠ ل

ب

٤٠٠ مل

أ

٢. ما حجم المجسم في الشكل المجاور؟



٣٢ وحدة  
مكعبة

د

٨ وحدات  
مكعبة

ج

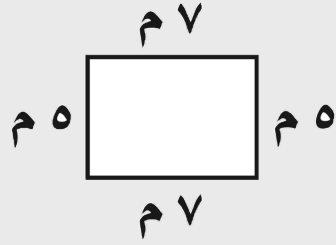
١٦ وحدة  
مكعبة

ب

٤ وحدات مكعبة

أ

٣. أحسب مساحة الشكل التالي؟



١٤ مربع

د

٢٤ مربع

ج

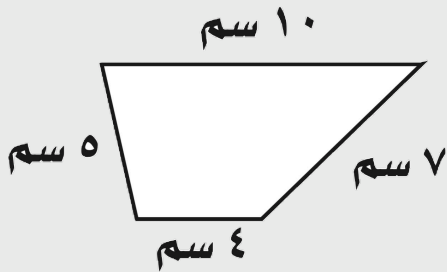
١٢ مربع

ب

٣٥ مربع

أ

٤. أحسب محيط الشكل التالي؟



٧٠ سم

د

٢٠ سم

ج

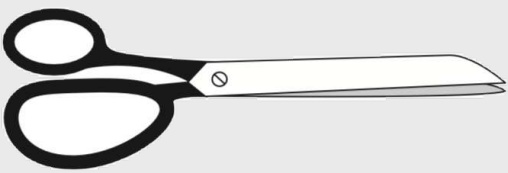
٢٦ سم

ب

٢٨ سم

أ

٥. التقدير الأنسب لكتلة المقص هو.



١٠٠ مل

د

١٠٠ اسم

ج

١٠٠ كجم

ب

١٠٠ جم

أ

٥

## السؤال الثاني :

مالزمن الذي استغرقه النشاط التالي؟

وَقْتُ الْإِنْتِهَاءِ



وَقْتُ الْبَدءِ



almanahj.com/sa  
المنهج السعودية

---



---

٥

## السؤال الثالث :

أكمل الفراغات التالية بالمفردة المناسبة من الصندوق أدناه

المربعة	الكتلة
الحجم	المساحة
المحيط	

١. \_\_\_\_\_ هي وحدات لقياس المساحة.

٢. يُسمَّى الحيزُ الذي يشغله الجسمُ في الفراغِ \_\_\_\_\_ .

٣. \_\_\_\_\_ هو طولُ الخطِّ حولَ الشكلِ أو المنطقةِ.

٤. تُسمَّى كميَّةُ ما في الجسمِ من مادةٍ \_\_\_\_\_ .

٥. \_\_\_\_\_ هي عددُ الوحداتِ المربَّعةِ التي تُغطِّي المنطقةَ أو الشكلَ المستوي.