

تم تحميل هذا الملف من موقع المناهج السعودية



الملف ورقة عمل الفصل الثالث الضرب

[موقع المناهج](#) ⇨ [المناهج السعودية](#) ⇨ [الصف الرابع](#) ⇨ [رياضيات](#) ⇨ [الفصل الأول](#)

الملف ورقة عمل الفصل الثالث الضرب

[موقع المناهج](#) ⇨ [المناهج السعودية](#) ⇨ [الصف الرابع](#) ⇨ [رياضيات](#) ⇨ [الفصل الأول](#)

المزيد من الملفات بحسب الصف الرابع والمادة رياضيات في الفصل الأول

كتاب-الطالب	1
دليل-المعلم	2
تحميل كتاب الطالب	3
دليل التقويم	4
تحضير وحدات	5

ورقة عمل الفصل الثالث (الضرب)

الاسم /

رابع /

السؤال الأول / أجري مسح على عدد من الطلاب حول الفاكهة المفضلة لديهم فكانت على النحو التالي نظم هذه البيانات في لوحة إشارات :

الفاكهة	التكرار

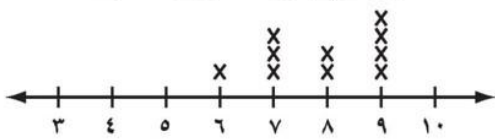
الفاكهة المفضلة لعدد من الطلاب		
التفاح	الموز	التفاح
البرتقال	التفاح	البرتقال
التفاح	الموز	التفاح
الموز	التفاح	الموز
البرتقال	التفاح	البرتقال
البرتقال	البرتقال	البرتقال

السؤال الثاني / يتدرب فهد على حمل الأثقال حيث يكرر تمرينه ١٢ مرة في اليوم فإذا كان يتدرب ٥ أيام في الأسبوع ، فكم يكرر تمرينه في ٤ أسابيع ؟

السؤال الثالث / يوضح التمثيل بالنقاط أدناه عدد

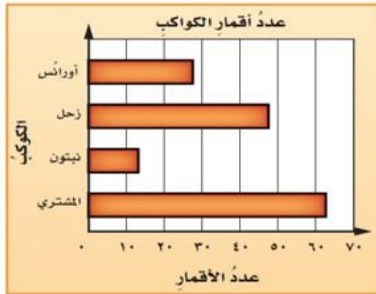
ساعات النوم لعدد من الأشخاص . ما الزمن الذي يقضيه أكبر عدد منهم في النوم ؟

زمن النوم لبعض الأشخاص (بالساعات)




السؤال الرابع / التمثيل بالأعمدة التالي يبين عدد أقمار

بعض الكواكب . أستعمل التمثيل لتحديد كم يزيد عدد أقمار المشتري على عدد أقمار نبتون ؟



السؤال الخامس / مكعب نرد مرقم من ١ إلى ٦ . ما عدد النواتج

الممكنة لتجربة رمي المكعب مرتين ؟



السؤال السادس / صندوق يحتوي على عشر بطاقات مرقمة من ١ إلى ١٠ سحبة بطاقة من الصندوق دون النظر إليها . صف احتمال النواتج استعمل (مؤكد ، أكثر احتمال ، متساوي ، أقل احتمال ، مستحيل) ؟

(ب) ١١

(د) أقل من ١٢

(أ) عدد زوجي

(ج) ٤

(ج) أكبر من ٣