

شكراً لتحميلك هذا الملف من موقع المناهج السعودية



ورقة عمل درس الزوايا

موقع المناهج ← المناهج السعودية ← الصف الرابع ← رياضيات ← الفصل الثاني ← الملف

تاريخ نشر الملف على موقع المناهج: 2024-01-26 01:04:32

التواصل الاجتماعي بحسب الصف الرابع



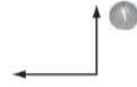
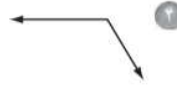
المزيد من الملفات بحسب الصف الرابع والمادة رياضيات في الفصل الثاني

اختبار الفصل السابع القسمة	1
ورقة عمل درس المثلث	2
المهام الأدائية لكامل منهج الفصول الدراسية الثلاثة	3
الدرس الرابع المستقيمت	4
الدرس الثاني الأشكال التنائية الأبعاد	5

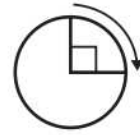
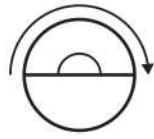
ورقة عمل - الزوايا - الصف الرابع ابتدائي

الاسم: الفصل:

صنّف كلّ زاوية فيما يلي إلى: قائمة أو حادة أو منفرجة:



اكتب قياس كلّ زاوية بالدرجات، وبالمدورات:



ارسم الزاوية المطلوبة:-

ارسم زاوية قائمة



ارسم زاوية قائمة



ارسم زاوية حادة



ارسم زاوية منفرجة

