

تم تحميل هذا الملف من موقع المناهج السعودية



الملف ورقة عمل الأشكال الهندسية

[موقع المناهج](#) ⇨ [المناهج السعودية](#) ⇨ [الصف الرابع](#) ⇨ [رياضيات](#) ⇨ [الفصل الثاني](#)

الملف ورقة عمل الأشكال الهندسية

[موقع المناهج](#) ⇨ [المناهج السعودية](#) ⇨ [الصف الرابع](#) ⇨ [رياضيات](#) ⇨ [الفصل الثاني](#)

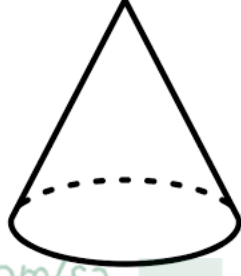
المزيد من الملفات بحسب الصف الرابع والمادة رياضيات في الفصل الثاني

تحميل كتاب الرياضيات	1
الكسور الاعتيادية	2
الأسئلة المفسوحة للصف الرابع	3
دليل اختبارات TIMSS	4
دليل التقويم	5

ورقة عمل

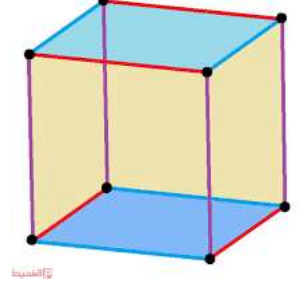
اسم الطالب :

السؤال الأول / اكتب اسم الشكل وعدد الأوجه والرؤوس والاحرف فيما يلي :



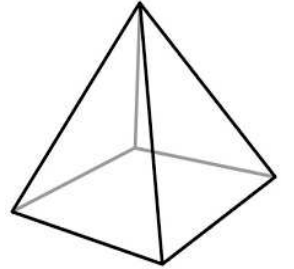
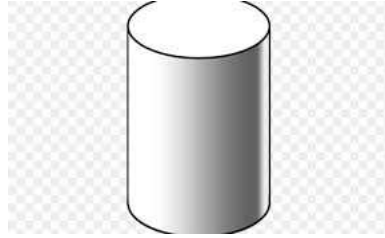
almanahj.com/sa

عدد الأوجه :
عدد الرؤوس :
عدد الاحرف :
اسم الشكل :



عدد الأوجه :
عدد الرؤوس :
عدد الاحرف :
اسم الشكل :

السؤال الثاني / اذكر الشكل التالي هل هو ثلاثي ابعاد او ثنائي ابعاد :



السؤال الثالث : سم الاشكال التالية مضلع او غير مضلع

