

تم تحميل هذا الملف من موقع المناهج السعودية



## مراجعة مهارات الفصل الثالث مقدمة في الأنظمة البيئية

موقع المناهج ← المناهج السعودية ← الصف الرابع ← علوم ← الفصل الأول ← ملفات متنوعة ← الملف

تاريخ إضافة الملف على موقع المناهج: 2024-10-21 11:38:25

ملفات اكتب للمعلم اكتب للطالب الاختبارات الكترونية | اختبارات | حلول | عروض بوربوينت | أوراق عمل  
منهج انجليزي | ملخصات و تقارير | مذكرات و بنوك | الامتحان النهائي للمدرس

المزيد من مادة  
علوم:

## التواصل الاجتماعي بحسب الصف الرابع



صفحة المناهج  
السعودية على  
فيسبوك

الرياضيات

اللغة الانجليزية

اللغة العربية

التربية الاسلامية

المواد على تلغرام

## المزيد من الملفات بحسب الصف الرابع والمادة علوم في الفصل الأول

مراجعة محلولة لمهارات الفصل الثالث مقدمة في الأنظمة البيئية

1

نماذج اختبارات نهائية مع الإجابة

2

اختبار نهاية الفصل 1444هـ

3

مراجعة ختامية محلولة

4

ملخص دروس الفصل الأول

5

## مراجعة مهارات الفصل الثالث مقدمة في الأنظمة البيئية-الصف الرابع

الاسم/.....

الصف/.....

### ضع-ي المصطلحات الآتية أمام ما يناسبها من عبارات:

#### [النظام البيئي-الموطن-المنتجات-التلوث- المنطقة الحيوية-المحللات-التنافس-السلسلة الغذائية]

- ١-...النظام البيئي.. مخلوقات حية وأشياء غير حية يتفاعل بعضها مع بعض في بيئة معينة.
- ٢-...الموطن.....المكان الذي يعيش فيه المخلوق الحي ويحصل منه على الغذاء .
- ٣-... المنطقة الحيوية..... نظام بيئي كبير له نباتته وحيواناته وتربته الخاصة به .
- ٤-...المنتجات..... مخلوقات حية تصنع غذاءها بنفسها مستخدمة طاقة الشمس.
- ٥-...التلوث.....إضافة أشياء ضارة للبيئة .
- ٦-...المحللات.....تقوم بتحليل المواد الميتة للحصول على الطاقة .
- ٧-...السلسلة الغذائية....مسار يوضح كيفية انتقال الطاقة في المخلوقات الحية.
- ٨-...التنافس.....صراع بين المخلوقات الحية على الطعام و الماء.

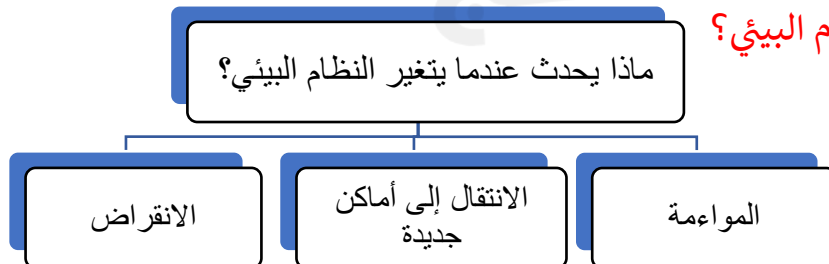
### ضع-ي علامة صح أو خطأ

- ١- المفترس هو الحيوان الذي يتم اصطياده ( خطأ ) .
- ٢- التنافس صراع بين المخلوقات الحية على الطعام والماء والمأوى ( صح ) .
- ٣- تحصل المخلوقات الحية في قمة الهرم على أقل كمية من الطاقة الشمسية ( صح ) .
- ٤- من الظواهر الطبيعية التي تغير النظام البيئي البراكين والزلازل ( صح ) .

### مثل لما يأتي /

الراكون- الدب	حيوان قارت
الطحالب	منتجات في المحيطات
الزرافة	مستهلك آكل أعشاب
إزالة الغابات	كيف يغير الإنسان النظام البيئي؟ ( واحد فقط )
مهاجمة أسراب الجراد النباتات	تغير النظام البيئي بفعل المخلوقات الحية
البراكين والزلازل	تغير النظام البيئي بفعل الظواهر الطبيعية

### ماذا يحدث عندما يتغير النظام البيئي؟



١/ جميع أفراد النوع الواحد التي تعيش في نظام بيئي تمثل.....		
أ- المجتمع الحيوي	ب- الجماعة الحيوية	ج- المنطقة الحيوية
٢/ أي المناطق الحيوية فيها أشجار أكثر؟		
أ- الصحراء	ب- الغابات	ج- المنطقة العشبية
٣/ كل الجماعات التي تعيش في النظام البيئي تكون.....		
أ- المجتمع الحيوي	ب- العلاقات	ج- العوامل اللاحيوية
٤/ المخلوقات الحية التي لا تستطيع صنع غذائها بنفسها تسمى.....		
أ- المنتجات	ب- المستهلكات	ج- الأعشاب
٥/ توضح ترابط سلاسل الغذاء في النظام البيئي		
أ- السلسلة الغذائية	ب- هرم الطاقة	ج- الشبكة الغذائية
٦/ استجابة الحيوان للتغير الحادث في بيئته..		
أ- المواءمة	ب- الانقراض	ج- التغيرات
٧/ أي مما يأتي من العوامل اللاحيوية ؟		
أ- العشب	ب- الطائر	ج- الصخر


أنظر إلى الخريطة المفاهيمية التالية: أي الأنظمة البيئية يمكن وضعه في الفراغ ؟




رتب-ي السلسلة الغذائية الآتية :




٣



١



٢



٤