


شكراً لتحميلك هذا الملف من موقع المناهج السعودية



اختبار الفصل العاشر الكسور

[موقع المناهج](#) ← [المناهج السعودية](#) ← [الصف الرابع](#) ← [رياضيات](#) ← [الفصل الثالث](#) ← [الملف](#)

التواصل الاجتماعي بحسب الصف الرابع



روابط مواد الصف الرابع على تلغرام

[الرياضيات](#)

[اللغة الانجليزية](#)

[اللغة العربية](#)

[التربية الاسلامية](#)

المزيد من الملفات بحسب الصف الرابع والمادة رياضيات في الفصل الثالث

تحضير دروس كامل المنهج	1
نماذج اختبارات نهائية مع نماذج الإجابة	2
نموذج اختبار نهائي الدور الأول	3
أسئلة اختبار مهاراتي	4
اختبار الفصل الثاني عشر جمع الكسور العشرية وطرحها	5

الصف: الرابع ()


الاسم :



س ١ / أجب عن الأسئلة التالية :

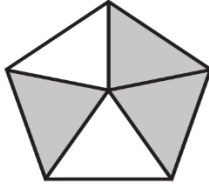
١- كم ستكون الساعة بعد ٣٠ دقيقة ؟

س ٢ / بدأ ثامر رحلة لاداء العمرة في الوقت المحدد أدناه.. وبعد الانتهاء من مناسك عمره بقي بالمسجد الحرام يكمل باقي عباداته حتى الوقت الموضح أمامك .. (أحسب الزمن الذي قضاه داخل المسجد الحرام).

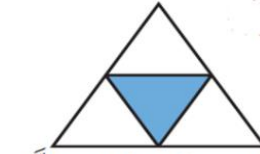


الزمن المنقضي =

س ٣ / اكتب الكسر الذي يمثل الجزء المطلوب تحت كل شكل ممايلي:



الجزء المظلل



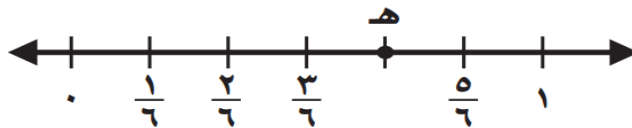
الجزء غير المظلل



الجزء المظلل

س ٤ / مثل الكسر التالي بالرسم $\frac{4}{7}$

س ٥ ما الكسر الذي يمثل النقطة (هـ) على خط الأعداد المرسوم أدناه؟



س١٦ سمّ كسرًا أكبر من $\frac{2}{7}$.

س١٧ اكتب الكسر الذي يمثّل الجزء المظلل في كلّ ممّا يلي، ثمّ أوجد كسرًا مكافئًا له.



تم تحميل هذا الملف من

س١٨ قارن بين الكسور مستعملًا (< أو > أو =): السعودية

$$\frac{2}{3} \bigcirc \frac{2}{5}$$

$$\frac{2}{5} \bigcirc \frac{1}{5}$$

معلم المادة /

انتهت الأسئلة بالتوفيق للجميع