

تم تحميل هذا الملف من موقع المناهج السعودية



الملف نماذج اختبارات نهائية مع نماذج الإجابة

[موقع المناهج](#) ← [المناهج السعودية](#) ← [الصف الرابع](#) ← [علوم](#) ← [الفصل الثالث](#)

المزيد من الملفات بحسب الصف الرابع والمادة علوم في الفصل الثالث

نموذج اختبار نهائي	1
أسئلة مراجعة محلولة	2
نموذج إجابة اختبار نهائي الدوري الأول	3
أسئلة اختبار نهائي	4
ملخص شامل لوحدات المنهج	5

المادة: علوم		المملكة العربية السعودية.
الصف: رابع ابتدائي		وزارة التعليم.
التاريخ: ١٤٤٤/١٢/١ هـ		إدارة تعليم
اليوم: الأثنين		مكتب تعليم
عدد الصفحات: ٣		مدرسة
الزمن: ساعة ونصف.		أسئلة الاختبار النهائي (الفصل الدراسي الثالث) للعام الدراسي ١٤٤٤ هـ

اسم الطالبة:			رقم الجلوس:		
رقم السؤال	الدرجة التي حصلت عليها الطالبة		المصححة	المراجعة	المدققة
	رقمًا	كتابة			
الأول		فقط لا غير			
الثاني		فقط لا غير			
الثالث		فقط لا غير			
المجموع		فقط لا غير			

♥ السؤال الأول (أ) اكتب المصطلح العلمي المناسب أمام العبارات الآتية.

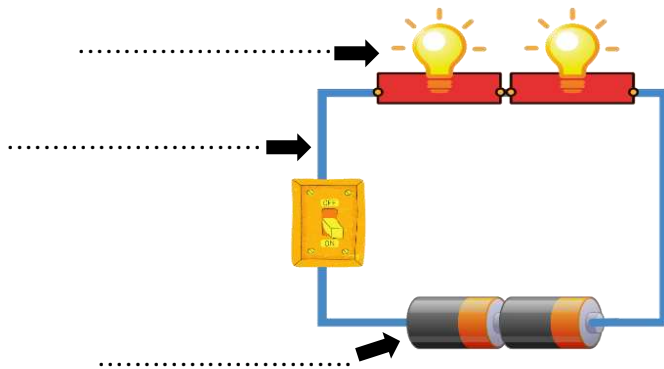
(الطول - السرعة - الحرارة - المغناطيس الكهربائي - الكهرباء الساكنة)

١٠

- عدد وحدات القياس من أحد طرفي الجسم إلى الطرف الآخر.
- المسافة التي يقطعها جسم في زمن معين.
- المغناطيس الناشئ عن مرور تيار كهربائي في سلك يسمى
- انتقال الطاقة الحرارية من الجسم الساخن إلى الجسم البارد.
- تجمع الشحنات الكهربائية على سطح جسم ما.

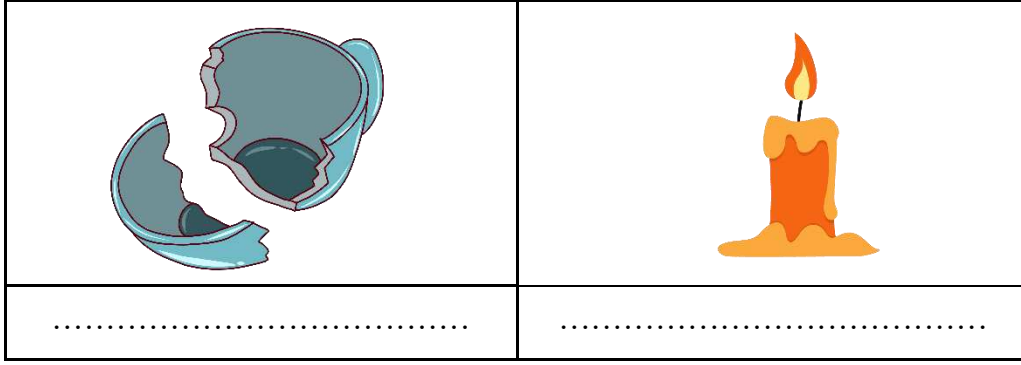
♥ السؤال الأول (ب) أجب حسب المطلوب منك:

١- ما نوع الدائرة الكهربائية التي أمامك؟



٢- سمّي أجزاء الدائرة الكهربائية على الرسم.

♥ السؤال الأول (ج) صنفى التغيرات التي أمامك إلى (تغير كيميائي أو تغير فيزيائي).



٢٠

♥ السؤال الثاني: اختاري الإجابة الصحيحة لكل فقرة من الفقرات التالية.

١- ما الذي يحول الطاقة الكهربائية إلى طاقة حركية؟			
(أ) المروحة الكهربائية	(ب) المولد الكهربائي	(ج) المصباح الكهربائي	(د) المحمصة الكهربائية
٢- الأداة التي تشير إلى جهة القطب الشمالي الأرضي هي:			
(أ) البوصلة	(ب) المحرك الكهربائي	(ج) القطب الجنوبي	(د) القطب الشمالي
٣- معظم أباريق الشاهي تصنع من مواد مثل الألومنيوم والنحاس؛ لأنها جيدة:			
(أ) التوصيل	(ب) العزل	(ج) الإشعاع	(د) بوصفها مصدر حراري
٤- تقاس درجة الحرارة بأداة تسمى:			
(أ) الثرمومتر	(ب) متر	(ج) الميزان	(د) الكأس المدرج
٥- ما القوة المسؤولة عن توقف جسم متحرك عن الحركة؟			
(أ) الاحتكاك	(ب) الدفع	(ج) الجاذبية	(د) القوى المتزنة
٦- قوى غير متساوية تسبب تغير حركة الجسم؟			
(أ) القوى الغير متزنة	(ب) القوى المتزنة	(ج) القوى المتساوية	(د) الجاذبية
٧- (تبلغ سرعة القطار ٣٠٠ كم/س في اتجاه الشرق) هذه العبارة تصف:			
(أ) السرعة المتجهة	(ب) السرعة	(ج) التسارع	(د) الزمن
٨- أي الأشياء التالية له كتلة وحجم؟			
(أ) الكهرباء	(ب) غاز ثاني أكسيد الكربون	(ج) الصوت	(د) الحرارة
٩- كيف يمكن فصل الملح من محلول ماء وملح؟			
(أ) بالتسريب	(ب) بالتبخير	(ج) بالمغناطيس	(د) بالترشيح
١٠- الخاصية التي تتغير اعتماداً على قوة الجذب هي:			
(أ) الطول	(ب) الوزن	(ج) الكتلة	(د) الكثافة

♥ السؤال الثالث: ضع علامة (✓) أمام العبارة الصحيحة و (X) أمام العبارة الخاطئة:

١٠

- | | |
|-----|--|
| () | ١. تقاس الكتلة بوحدة الجرام أو الكيلوجرام. |
| () | ٢. التحول البطيء للسوائل إلى الحالة الغازية يسمى التبخر. |
| () | ٣. السبائك تنتج عن خلط نوعين من العناصر أحدهما على الأقل فلز. |
| () | ٤. لإيجاد مساحة جسم على شكل مستطيل نضرب الطول في العرض. |
| () | ٥. فصل المواد الصلبة عن السوائل باستخدام المرشحات يسمى الترشيح. |
| () | ٦. تنتقل الحرارة في السوائل والغازات بالحمل الحراري. |
| () | ٧. الأقطاب المختلفة بالمغناطيس تتنافر. |
| () | ٨. تغير سرعة الجسم واتجاهه خلال فترة زمنية محددة يسمى قصور ذاتي. |
| () | ٩. كلما زادت المسافة بين الأجسام زادت قوة الجاذبية بينهما. |
| () | ١٠. يتجمد الماء عند درجة حرارة الـ ١٠٠ ⁰ س. |

موقع المناهج السعودية

alManahj.com/sa

انتهت الأسئلة

النجاح لبعث الطلاب الأذكياء، أتمنى لكم كل التوفيق

معلمة المارة: مها المريخ

المادة: علوم	 <p>رؤية 2030 وزارة التعليم</p>	المملكة العربية السعودية.
الصف: رابع ابتدائي		وزارة التعليم.
التاريخ: ١٤٤٤/١٢/١ هـ		إدارة تعليم
اليوم: الأثنين		مكتب تعليم
عدد الصفحات: ٣		مدرسة
الزمن: ساعة ونصف.		أسئلة الاختبار النهائي (الفصل الدراسي الثالث) للعام الدراسي ١٤٤٤ هـ

رقم الجلوس:			اسم الطالبة: <u>منى فوزج الإجماع</u>		
المدقة	المراجعة	المصححة	الدرجة التي حصلت عليها الطالبة		رقم السؤال
			كتابة	رقمًا	
			فقط لا غير	١٠	الأول
			فقط لا غير	٢٠	الثاني
			فقط لا غير	١٠	الثالث
			فقط لا غير	٤٠	المجموع

♥ السؤال الأول (أ) اكتب المصطلح العلمي المناسب أمام العبارات الآتية.

(الطول – السرعة – الحرارة – المغناطيس الكهربائي – الكهرباء الساكنة)

١٠

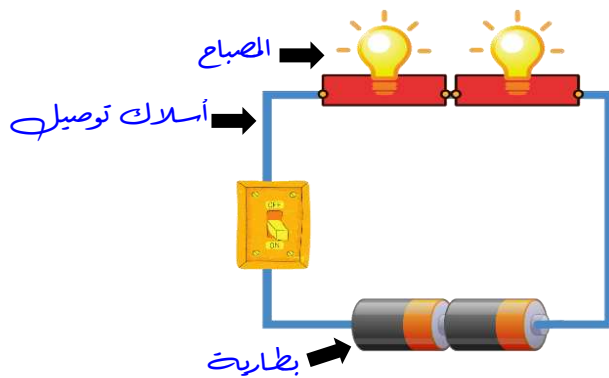
الطول	١. عدد وحدات القياس من أحد طرفي الجسم إلى الطرف الآخر.
السرعة	٢. المسافة التي يقطعها جسم في زمن معين.
المغناطيس الكهربائي	٣. المغناطيس الناشئ عن مرور تيار كهربائي في سلك يسمى
الحرارة	٤. انتقال الطاقة الحرارية من الجسم الساخن إلى الجسم البارد.
الكهرباء الساكنة	٥. تجمع الشحنات الكهربائية على سطح جسم ما.

♥ السؤال الأول (ب) أجب حسب المطلوب منك:

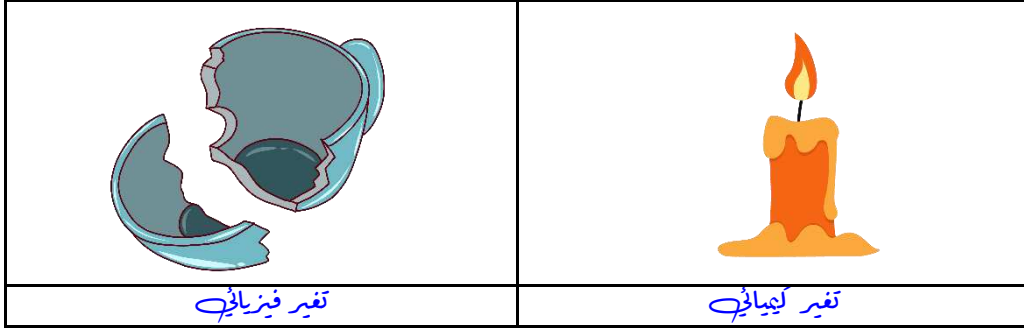
١- ما نوع الدائرة الكهربائية التي أمامك؟

دائرة على التوالي

٢- سمي أجزاء الدائرة الكهربائية على الرسم.



♥ السؤال الأول (ج) صنفى التغيرات التي أمامك إلى (تغير كيميائي أو تغير فيزيائي).



♥ السؤال الثاني: اختاري الإجابة الصحيحة لكل فقرة من الفقرات التالية.

٢٠

١- ما الذي يحول الطاقة الكهربائية إلى طاقة حركية؟

(أ) المروحة الكهربائية (ب) المولد الكهربائي (ج) المصباح الكهربائي (د) المحمصة الكهربائية

٢- الأداة التي تشير إلى جهة القطب الشمالي الأرضي هي:

(أ) البوصلة (ب) المحرك الكهربائي (ج) القطب الجنوبي (د) القطب الشمالي

٣- معظم أباريق الشاهي تصنع من مواد مثل الألومنيوم والنحاس؛ لأنها جيدة:

(أ) التوصيل (ب) العزل (ج) الإشعاع (د) بوصفها مصدر حراري

٤- تقاس درجة الحرارة بأداة تسمى:

(أ) الثرمومتر (ب) متر (ج) الميزان (د) الكأس المدرج

٥- ما القوة المسؤولة عن توقف جسم متحرك عن الحركة؟

(أ) الاحتكاك (ب) الدفع (ج) الجاذبية (د) القوى المتزنة

٦- قوى غير متساوية تسبب تغير حركة الجسم؟

(أ) القوى الغير متزنة (ب) القوى المتزنة (ج) القوى المتساوية (د) الجاذبية

٧- (تبلغ سرعة القطار ٣٠٠ كم/س في اتجاه الشرق) هذه العبارة تصف:

(أ) السرعة المتجهة (ب) السرعة (ج) التسارع (د) الزمن

٨- أي الأشياء التالية له كتلة وحجم؟

(أ) الكهرباء (ب) غاز ثاني أكسيد الكربون (ج) الصوت (د) الحرارة

٩- كيف يمكن فصل الملح من محلول ماء وملح؟

(أ) بالترسيب (ب) بالتبخير (ج) بالمغناطيس (د) بالترشيح

١٠- الخاصية التي تتغير اعتماداً على قوة الجذب هي:

(أ) الطول (ب) الوزن (ج) الكتلة (د) الكثافة

♥ السؤال الثالث: ضع علامة (✓) أمام العبارة الصحيحة و (X) أمام العبارة الخاطئة:

١٠

- | | |
|-----|---|
| (✓) | ١ . تقاس الكتلة بوحدة الجرام أو الكيلوجرام. |
| (✓) | ٢ . التحول البطيء للسوائل إلى الحالة الغازية يسمى التبخر. |
| (✓) | ٣ . السبائك تنتج عن خلط نوعين من العناصر أحدهما على الأقل فلز. |
| (✓) | ٤ . لإيجاد مساحة جسم على شكل مستطيل نضرب الطول في العرض. |
| (✓) | ٥ . فصل المواد الصلبة عن السوائل باستخدام المرشحات يسمى الترشيح. |
| (✓) | ٦ . تنتقل الحرارة في السوائل والغازات بالحمل الحراري. |
| (X) | ٧ . الأقطاب المختلفة بالمغناطيس تتنافر. |
| (X) | ٨ . تغير سرعة الجسم واتجاهه خلال فترة زمنية محددة يسمى قصور ذاتي. |
| (X) | ٩ . كلما زادت المسافة بين الأجسام زادت قوة الجاذبية بينهما. |
| (X) | ١٠ . يتجمد الماء عند درجة حرارة الـ ١٠٠ ⁰ س. |

موقع المناهج السعودية

alManahj.com/sa

انتهت الأسئلة

النجاح لعبة الطلاب الأذكياء، أتمنح لكم كل التوفيق

معلمة المادة: مها المريخ

اسم الطالب/ة:

السؤال الأول:

ا/ ضع/ي المصطلحات التالية في الفراغ المناسب:

(الكهرباء الساكنة - الحرارة - السرعة - المرشح - المادة)

- ١- كل شيء له كتلة ويشغل حيزاً.
- ٢- أداة تستخدم لفصل الأشياء بحسب احجامها.
- ٣- المسافة التي يقطعها جسم في زمن معين.
- ٤- انتقال الطاقة الحرارية من الجسم الساخن الى الجسم البارد.
- ٥- تجمع الشحنات الكهربائية على سطح ما.

ب/ ضع/ي علامة (✓) امام العبارة الصحيحة وعلامة (x) امام العبارة الخاطئة فيما يأتي:

- ١- الترسيب من طرائق فصل مواد المخلوط ()
- ٢- يعد تقطيع الورق من التغيرات الكيميائية ()
- ٣- السبائك ينتج عن خلط نوعين او اكثر من العناصر احدهما على الأقل فلز ()
- ٤- التغير الكيميائي هو الذي لا ينتج عنه مواد جديدة ()
- ٥- قوى متساوية في المقدار ومتعاكسة في الاتجاه هي القوى المتزنة ()
- ٦- قوى تعمل على سحب الاجسام بعضها نحو بعض تسمى الاحتكاك ()
- ٧- جاذبية القمر اقل من جاذبية الأرض ()
- ٨- المواد العازلة هي التي تنقل الحرارة جيداً ()
- ٩- الأقطاب المتشابهة تتنافر ()
- ١٠- يمكن استخدام المنصهرات اكثر من مرة ()

السؤال الثاني:

ا/ ضع/ي الأرقام في العمود (أ) بما يناسبها في العمود (ب) فيما يأتي:

(ب)	(أ)
مثال على التفريغ الكهربائي	١ الصداً
مثال على مادة موصلة	٢ التقطير
وحدة قياس القوة	٣ نيوتن
فصل مكونات المحلول	٤ الحديد
تغير كيميائي	٥ البرق

ب/ ضعي الكلمات التالية بما يناسبها من الصور فيما يأتي:

١٠

(تغير فيزيائي - دائرة توالي - محلول - مغناطيس حلقي - تغير كيميائي)

				
.....

السؤال الثالث:

١٠

اختر/ي الإجابة الصحيحة من بين الأقواس:

١- الخاصية التي تتغير اعتمادا على قوة الجذب هي:			
(أ) الوزن	(ب) الكثافة	(ج) الطول	(د) الكتلة
٢- من دلالات حدوث التغير الفيزيائي:			
(أ) الصدا	(ب) تغير حالة المادة	(ج) تغير الرائحة	(د) تغير اللون
٣- تحول بطيء للمادة من الحالة السائلة الى الغازية دون ان تغلي تسمى			
(أ) الانصهار	(ب) التبريد	(ج) التبخر	(د) التسخين
٤- كل عملية سحب او دفع تسمى.....			
(أ) احتكاك	(ب) تسارع	(ج) سرعة متجهة	(د) قوة
٥- القوة المسؤولة عن توقف جسم متحرك عن الحركة هي			
(أ) الاحتكاك	(ب) الجاذبية	(ج) الدفع	(د) القوة المتزنة
٦- الجسم المتحرك يبقى متحرك والجسم الساكن يبقى ساكن ما لم تؤثر عليه قوة تغير من حالته هي			
(أ) الجاذبية	(ب) القصور الذاتي	(ج) السرعة	(د) القوة
٧- يكون انتقال الطاقة في الفراغ ب.....			
(أ) الحمل الحراري	(ب) التوصيل الحراري	(ج) الاشعاع الحراري	(د) لا شيء مما ذكر
٨- سريان الشحنات الكهربائية تسمى			
(أ) مقاومة	(ب) محرك كهربائي	(ج) مولد كهربائي	(د) تيار كهربائي
٩- تسمى قضيبا المغناطيس ب.....			
(أ) شمال و جنوب	(ب) شرق و غرب	(ج) شمال و شرق	(د) جنوب و غرب
١٠- الأداة التي تشير الى جهة القطب الشمالي الأرضي هي			
(أ) المحرك الكهربائي	(ب) البوصلة	(ج) القطب الشمالي	(د) القطب الجنوبي

مع تمنياتي لكم بالتوفيق والنجاح



الصف: الرابع ابتدائي
المادة: علوم
الزمن: ساعة ونصف
الدور: الاول
المعلمة: بشاير الشمري

الاختبار النهائي لمادة العلوم
للسف الرابع الابتدائي، الفصل الدراسي الثالث لعام ١٤٤٤ هـ

اسم الطالب/ة:

السؤال الأول:

ا/ ضع/ي المصطلحات التالية في الفراغ المناسب:

(الكهرباء الساكنة - الحرارة - السرعة - المرشح - المادة)

- ١- **المادة** كل شيء له كتلة ويشغل حيزاً.
- ٢- **المرشح** أداة تستخدم لفصل الأشياء بحسب احجامها.
- ٣- **السرعة** المسافة التي يقطعها جسم في زمن معين.
- ٤- **الحرارة** انتقال الطاقة الحرارية من الجسم الساخن الى الجسم البارد.
- ٥- **الكهرباء الساكنة** تجمع الشحنات الكهربائية على سطح ما.

ب/ ضع/ي علامة (√) امام العبارة الصحيحة وعلامة (x) امام العبارة الخاطئة فيما يأتي:

- ١- الترسيب من طرائق فصل مواد المخلوط (√)
- ٢- يعد تقطيع الورق من التغيرات الكيميائية (x)
- ٣- السبانك ينتج عن خلط نوعين او اكثر من العناصر احدهما على الأقل فلز (√)
- ٤- التغير الكيميائي هو الذي لا ينتج عنه مواد جديدة (x)
- ٥- قوى متساوية في المقدار ومتعاكسة في الاتجاه هي القوى المتزنة (√)
- ٦- قوى تعمل على سحب الاجسام بعضها نحو بعض تسمى الاحتكاك (x)
- ٧- جاذبية القمر اقل من جاذبية الأرض (√)
- ٨- المواد العازلة هي التي تنقل الحرارة جيداً (x)
- ٩- الأقطاب المتشابهة تتنافر (√)
- ١٠- يمكن استخدام المنصهرات اكثر من مرة (x)

السؤال الثاني:

ا/ ضع/ي الأرقام في العمود (أ) بما يناسبها في العمود (ب) فيما يأتي:

	(أ)	(ب)	
١	الصدأ	٥	مثال على التفريغ الكهربائي
٢	التقطير	٤	مثال على مادة موصلة
٣	نيوتن	٣	وحدة قياس القوة
٤	الحديد	٢	فصل مكونات المحلول
٥	البرق	١	تغير كيميائي

ب/ ضعي الكلمات التالية بما يناسبها من الصور فيما يأتي:

١٠

(تغير فيزيائي - دائرة توالي - محلول - مغناطيس حلقي - تغير كيميائي)

				
تغير فيزيائي....	دائرة توالي....	محلول.....	مغناطيس حلقي....	تغير كيميائي....

السؤال الثالث:

١٠

اختر/ي الإجابة الصحيحة من بين الأقواس:

١- الخاصية التي تتغير اعتمادا على قوة الجذب هي:			
(أ) الوزن	(ب) الكثافة	(ج) الطول	(د) الكتلة
٢- من دلالات حدوث التغير الفيزيائي:			
(أ) الصدا	(ب) تغير حالة المادة	(ج) تغير الرائحة	(د) تغير اللون
٣- تحول بطيء للمادة من الحالة السائلة الى الغازية دون ان تغلي تسمى			
(أ) الانصهار	(ب) التبريد	(ج) التبخر	(د) التسخين
٤- كل عملية سحب او دفع تسمى.....			
(أ) احتكاك	(ب) تسارع	(ج) سرعة متجهة	(د) قوة
٥- القوة المسؤولة عن توقف جسم متحرك عن الحركة هي			
(أ) الاحتكاك	(ب) الجاذبية	(ج) الدفع	(د) القوة المتزنة
٦- الجسم المتحرك يبقى متحرك والجسم الساكن يبقى ساكن مالم تؤثر عليه قوة تغير من حالته هي			
(أ) الجاذبية	(ب) القصور الذاتي	(ج) السرعة	(د) القوة
٧- يكون انتقال الطاقة في الفراغ ب.....			
(أ) الحمل الحراري	(ب) التوصيل الحراري	(ج) الاشعاع الحراري	(د) لا شيء مما ذكر
٨- سريان الشحنات الكهربائية تسمى			
(أ) مقاومة	(ب) محرك كهربائي	(ج) مولد كهربائي	(د) تيار كهربائي
٩- تسمى قضيبا المغناطيس ب.....			
(أ) شمال و جنوب	(ب) شرق و غرب	(ج) شمال و شرق	(د) جنوب و غرب
١٠- الأداة التي تشير الى جهة القطب الشمالي الأرضي هي			
(أ) المحرك الكهربائي	(ب) البوصلة	(ج) القطب الشمالي	(د) القطب الجنوبي

مع تمنياتي لكم بالتوفيق والنجاح

الصف: رابع ابتدائي
اليوم:
التاريخ: / / ١٤٤٤ هـ
الزمن: ساعة ونصف فقط



المملكة العربية السعودية
وزارة التعليم
إدارة تعليم منطقة تبوك

اختبار نهاية الفصل الدراسي الثالث (الدور الأول)

مادة **العلوم** للصف الرابع ابتدائي

للعام الدراسي ١٤٤٤ هـ

اسم الطالبة :
رقم الجلوس :

رقم السؤال	الدرجة رقما	الدرجة كتابة	المصححة	المراجعة	المدققة
السؤال الأول					
السؤال الثاني					
السؤال الثالث					

درجة الاختبار النهائية: فقط لا غير من ٤٠ درجة







النجاح ليس إنجازاً بقدر ما هو قدرة مستمرة على الإنجاز





السؤال الأول: اختاري الإجابة الصحيحة في كلا مما يلي:

١٠



١- الأداة التي تستخدم لقياس الكتلة هي:

أ		ب		ج		د	
---	---	---	---	---	---	---	---





٢- تمثل جسيمات المادة السائلة:

أ		ب		ج		د	
---	---	---	---	---	---	---	---

٣- الأداة المستخدمة لفصل مخلوط من الأرز والدقيق هي:

أ		ب		ج		د	
---	---	---	--	---	---	---	---





٤- أي التغيرات التالية تغير كيميائي:

أ		ب		ج		د	
---	---	---	--	---	---	---	---





٥- وحدة قياس الوزن هي :

أ	الكيلوجرام	ب	نيوتن	ج	لتر	د	متر
---	------------	---	-------	---	-----	---	-----

٦- يمثل تحول الطاقة الكهربائية إلى حركية:

أ		ب		ج		د	
---	---	---	---	---	---	---	---

٧- أي التغيرات التالية تغير فيزيائي:

أ		ب		ج		د	
---	---	---	--	---	---	---	---

٨- ما القوة المسؤولة عن تسارع جسم يسقط نحو الأرض عند افلاته:

أ	الاحتكاك	ب	الجاذبية	ج	القصور الذاتي	د	الدفع
---	----------	---	----------	---	---------------	---	-------

٩- المغناطيسات عندما تكون الأقطاب المتقابلة متشابهة فانها:

أ	تتنافر	ب	تتجاذب	ج	لا تتأثر	د	تهتز
---	--------	---	--------	---	----------	---	------



١٠- ما الذي يقيسه الجهاز المستخدم بالسيارات في الصورة المجاورة

أ	الاحتكاك	ب	الجاذبية	ج	السرعة	د	التسارع
---	----------	---	----------	---	--------	---	---------

أ- ضعي المصطلحات التالية في مكانها المناسب:

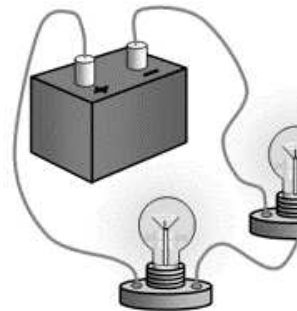
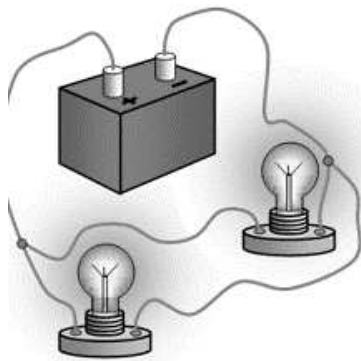
(الكهرباء الساكنة - الحرارة - السرعة - التغير الكيميائي - المخلوط - الكثافة)

- ١- (.....) مقدار الكتلة في وحدة حجم واحد.
- ٢- (.....) تغير ينتج عنه مادة جديدة .
- ٣- (.....) تجمع الشحنات الكهربائية على سطح جسم ما .
- ٤- (.....) المسافة التي يقطعها جسم في زمن معين.
- ٥- (.....) مادتان او اكثر تختلطان معاً بحيث تحافظ كل منهما على خصائصها الاصلية.
- ٦- (.....) انتقال الطاقة الحرارية من الجسم الساخن الى الجسم البارد.

ب- ضعي علامة (✓) او (✗) امام العبارات التالية:

١	تصنع مقابض اواني الطبخ من مواد عازلة.
٢	المادة كل شي له كتلة ويشغل حيزاً.
٣	يسمى المسار الذي تسري الكهرباء فيه بالدائرة الكهربائية.
٤	التبخير هو تحول المادة من الحالة السائلة الى الحالة الصلبة.
٥	يمكن فصل الملح من محلول ماء وملح عن طريق التبخير.
٦	القوى الغير متزنة قوى متساوية في المقدار ومتعاكسة في الاتجاه.
٧	الاسطح الأقل خشونة في صالات التزلج تقلل السرعة.
٨	الأرض محاطة بمجال مغناطيسي غير مرئي.
٩	درجة غليان الماء ٥٠ درجة سلسيوس.
١٠	من دلائل حدوث التغير الكيميائي مشاهدة فقاعات الغاز.
١١	الاحتكاك قوة تعيق حركة الاجسام.
١٢	تقاس القوة بوحدة الجرام.

ج- بيني نوع الدائرة الكهربائية في كلاً مما يلي:



السؤال الثالث:

رقمي العمود الاخر بما يناسبه في العمود الأول:

	
	
	
	
	
	
	
	
	
لتر	

١	وحدة قياس الحجم.
٢	تغير فيزيائي.
٣	مخلوط غير متجانس.
٤	قوى متزنة.
٥	قوى غير متزنة.
٦	سبيكة.
٧	محلول.
٨	كهرباء ساكنة.
٩	مادة عازلة.
١٠	مادة موصلة.

انتهت الاسئلة
دعواتي لكن بالتوفيق والنجاح
العلمة: أمل الزهراني

الصف: رابع ابتدائي
اليوم:
التاريخ: / / ١٤٤٤هـ
الزمن: ساعة ونصف فقط



المملكة العربية السعودية
وزارة التعليم
إدارة تعليم منطقة تبوك

نموذج اجابة

اختبار نهاية الفصل الدراسي الثالث (الدور الأول)

مادة العلوم للصف الرابع ابتدائي

للعام الدراسي ١٤٤٤ هـ

اسم الطالبة :
رقم الجلوس :

رقم السؤال	الدرجة رقما	الدرجة كتابة	المصححة	المراجعة	المدققة
السؤال الأول					
السؤال الثاني					
السؤال الثالث					

درجة الاختبار النهائية: فقط لا غير من ٤٠ درجة







النجاح ليس إنجازاً بقدر ما هو قدرة مستمرة على الإنجاز





السؤال الأول: اختاري الإجابة الصحيحة في كلا مما يلي:

١٠

١- الأداة التي تستخدم لقياس الكتلة هي:

أ		ب		ج		د	
---	---	---	---	---	---	---	---





٢- تمثل جسيمات المادة السائلة:

أ		ب		ج		د	
---	---	---	---	---	---	---	---

٣- الأداة المستخدمة لفصل مخلوط من الأرز والدقيق هي:

أ		ب		ج		د	
---	---	---	--	---	---	---	---





٤- أي التغيرات التالية تغير كيميائي:

أ		ب		ج		د	
---	---	---	--	---	---	---	---





٥- وحدة قياس الوزن هي :

أ	الكيلوجرام	ب	نيوتن	ج	لتر	د	متر
---	------------	---	-------	---	-----	---	-----

٦- يمثل تحول الطاقة الكهربائية إلى حركية:

أ		ب		ج		د	
---	---	---	--	---	---	---	---

٧- أي التغيرات التالية تغير فيزيائي:

أ		ب		ج		د	
---	---	---	--	---	---	---	---

٨- ما القوة المسؤولة عن تسارع جسم يسقط نحو الأرض عند افلاته:

أ	الاحتكاك	ب	الجاذبية	ج	القصور الذاتي	د	الدفع
---	----------	---	----------	---	---------------	---	-------

٩- المغناطيسات عندما تكون الأقطاب المتقابلة متشابهة فانها:

أ	تتنافر	ب	تتجاذب	ج	لا تتأثر	د	تهتز
---	--------	---	--------	---	----------	---	------

١٠- ما الذي يقيسه الجهاز المستخدم بالسيارات في الصورة المجاورة



أ	الاحتكاك	ب	الجاذبية	ج	السرعة	د	التسارع
---	----------	---	----------	---	--------	---	---------

أ- ضعي المصطلحات التالية في مكانها المناسب:

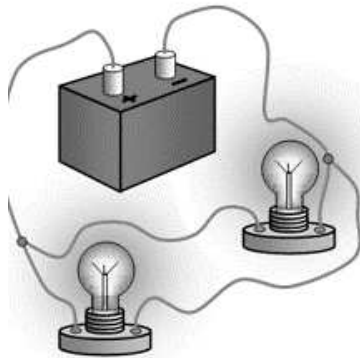
(الكهرباء الساكنة - الحرارة - السرعة - التغير الكيميائي - المخلوط - الكثافة)

- ١- (.....الكثافة.....) مقدار الكتلة في وحدة حجم واحد.
- ٢- (.....التغير الكيميائي.....) تغير ينتج عنه مادة جديدة .
- ٣- (.....الكهرباء الساكنة.....) تجمع الشحنات الكهربائية على سطح جسم ما .
- ٤- (.....السرعة.....) المسافة التي يقطعها جسم في زمن معين.
- ٥- (.....المخلوط.....) مادتان او اكثر تختلطان معاً بحيث تحافظ كل منهما على خصائصها الاصلية.
- ٦- (.....الحرارة.....) انتقال الطاقة الحرارية من الجسم الساخن الى الجسم البارد.

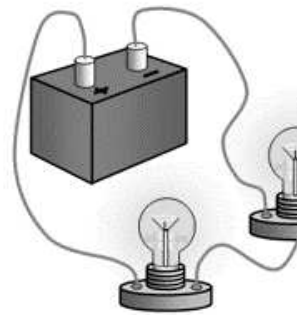
ب- ضعي علامة (✓) او (✗) امام العبارات التالية:

✓	١	تصنع مقابض اواني الطبخ من مواد عازلة.
✓	٢	المادة كل شي له كتلة ويشغل حيزاً.
✓	٣	يسمى المسار الذي تسري الكهرباء فيه بالدائرة الكهربائية.
✗	٤	التبخير هو تحول المادة من الحالة السائلة الى الحالة الصلبة.
✓	٥	يمكن فصل الملح من محلول ماء وملح عن طريق التبخير.
✗	٦	القوى الغير متزنة قوى متساوية في المقدار ومتعاكسة في الاتجاه.
✗	٧	الاسطح الأقل خشونة في صالات التزلج تقلل السرعة.
✓	٨	الأرض محاطة بمجال مغناطيسي غير مرئي.
✗	٩	درجة غليان الماء ٥٠ درجة سلسيوس.
✓	١٠	من دلائل حدوث التغير الكيميائي مشاهدة فقاعات الغاز.
✓	١١	الاحتكاك قوة تعيق حركة الاجسام.
✗	١٢	تقاس القوة بوحد الجرام.

ج- بيئي نوع الدائرة الكهربائية في كلا مما يلي:



.....دائرة على التوازي.....



.....دائرة على التوالي.....

السؤال الثالث:

رقمي العمود الاخر بما يناسبه في العمود الأول:

١٠

	٤
	٦
	٥
	٨
	٣
	٩
	٢
	١٠
	٧
لتر	١

١	وحدة قياس الحجم.
٢	تغير فيزيائي.
٣	مخلوط غير متجانس.
٤	قوى متزنة.
٥	قوى غير متزنة.
٦	سبيكة.
٧	محلول.
٨	كهرباء ساكنة.
٩	مادة عازلة.
١٠	مادة موصلة.

انتهت الاسئلة
دعواتي لكن بالتوفيق والنجاح
العلمة: أمل الزهراني

١. أي الأدوات التالية يمكن استخدامها لقياس الكتلة

- الميزان ذو الكفتين الشريط المترى المتر

٢. التحول من الحالة الصلبة إلى الحالة السائلة

- الإنصهار الغليان التبخر

٣. صفة نستطيع ملاحظتها مثل اللون والشكل

- الخاصة النيوتن الوزن

٤. تنتقل الحرارة بين جسمين متلامسين عن طريق

- الإشعاع الحراري التوصيل الحراري الحمل الحراري

٥. تقاس درجة الحرارة بأداة تسمى

- البارومتر الثرمومتر الأنيمومتر

٦. الوحدة المستخدمة لقياس القوة هي

- المتر النيوتن الكيلوجرام

٧. يمكن فصل الملح من محلول ماء وملح بواسطة

- الترشيح المغناطيس التبخير

٨. القوة المؤثرة في كل من كفتي الميزان

- غير متزنة تسارع متزنة

٩. يفصل نخلوط المكسرات بواسطة

- التبخير المغناطيس اليد

١٠. انتقال الطاقة الحرارية من جسم إلى آخر يسمى

- التوصيل الحراري الطاقة الحرارية الحرارة

ب- أذكر أربعة من خصائص (صفات) المادة ؟ الدرجة: ٤/

(٣)

(٢)

(١)

(٤)

اسم الطالب :		٤٠	المملكة العربية السعودية
رقم الجلوس :			وزارة التعليم
المادة : علوم			إدارة التعليم بمحافظة
الصف : الرابع			مكتب التعليم
الزمن : ساعة ونصف	الدرجة كتابة :	مدرسة	
	توقيعه		اسم المصحح
	توقيعه		اسم المراجع

اختبار مادة العلوم الفصل الدراسي الثالث لعام ١٤٤٤هـ (الدور الأول)

السؤال الأول : ضع علامة (√) أمام العبارة الصحيحة وعلامة (X) أمام العبارة الخاطئة الدرجة: ١٠ /

(X)	المولد الكهربائي يحول الطاقة الكهربائية إلى طاقة حركية	١
(X)	المغناطيس جسم له القدرة على جذب الخشب	٢
(X)	يستخدم المغناطيس لفصل المحاليل	٣
(√)	التغير الفيزيائي لا ينتج عنه مادة جديدة	٤
(√)	تنتقل الحرارة دائماً من الأجسام الأدفأ إلى الأجسام الأبرد	٥
(√)	القمر كتلته أقل من كتلة الأرض وجاذبيته أقل	٦
(√)	المنصهر أداة تساعد على منع حدوث حريق كهربائي	٧
(√)	عندما يكون الجسم ساكناً فإن جميع القوى المؤثرة تكون متوازنة	٨
(√)	يطفو الجسم عندما تكون كثافته أقل من كثافة السائل الموجوده فيه	٩
(√)	الشحنات الكهربائية المختلفة تتجاذب	١٠

السؤال الثاني : أكمل الفراغات بالكلمات المناسبة فيما يأتي الدرجة: ٦ /

المساحة	المادة	الكهرباء الساكنة	الموقع	القوة	المادة العازلة
	المادة كل شيء له كتلته ويشغل حيزاً				
	كل عملية دفع أو سحب تسمى بالقوة				
	مكان وجود الجسم هو الموقع				
	المادة العازلة لا تنقل الحرارة بشكل جيد				
	عدد المربعات التي تغطي سطح جسم ما تعرف بالمساحة				
	الكهرباء الساكنة تجمع الشحنات الكهربائية على سطح جسم ما				

١. أي الأدوات التالية يمكن استخدامها لقياس الكتلة

- الميزان ذو الكفتين الشريط المتري المتر

٢. التحول من الحالة الصلبة إلى الحالة السائلة

- الإنصهار الغليان التبخر

٣. صفة نستطيع ملاحظتها مثل اللون والشكل

- الخاصة النيوتن الوزن

٤. تنتقل الحرارة بين جسمين متلامسين عن طريق

- الإشعاع الحراري التوصيل الحراري الحمل الحراري

٥. تقاس درجة الحرارة بأداة تسمى

- البارومتر الثرمومتر الأنيمومتر

٦. الوحدة المستخدمة لقياس القوة هي

- المتر النيوتن الكيلوجرام

٧. يمكن فصل الملح من محلول ماء وملح بواسطة

- الترشيح المغناطيس التبخير

٨. القوة المؤثرة في كل من كفتي الميزان

- غير متزنة تسارع متزنة

٩. يفصل نخلوط المكسرات بواسطة

- التبخير المغناطيس اليد

١٠. انتقال الطاقة الحرارية من جسم إلى آخر يسمى

- التوصيل الحراري الطاقة الحرارية الحرارة


ب- أذكر أربعة من خصائص (صفات) المادة ؟ الدرجة: ٤/

(٣)

(٢)

(١)

(٤)

المجموع الكلي		المملكة العربية السعودية وزارة التعليم الإدارة العامة للتعليم بمنطقة
		مدرسة /
٤٠		
اختبار مادة العلوم (الدور الأول) الفصل الدراسي الثالث للعام الدراسي ١٤٤٤ هـ		

المادة	العلوم		الصف		الرابع
اليوم	التاريخ	زمن الاجابة	ساعة ونصف		
اسم الطالب/ة	()				
رقم الجلوس	()				

اسم المدقق / ة	اسم المراجع / ة	اسم المصحح / ة	الدرجة المستحقة		رقم السؤال
			الدرجة رقماً	الدرجة كتابة	
					السؤال الأول
					السؤال الثاني
					السؤال الثالث
					السؤال الرابع
					المجموع



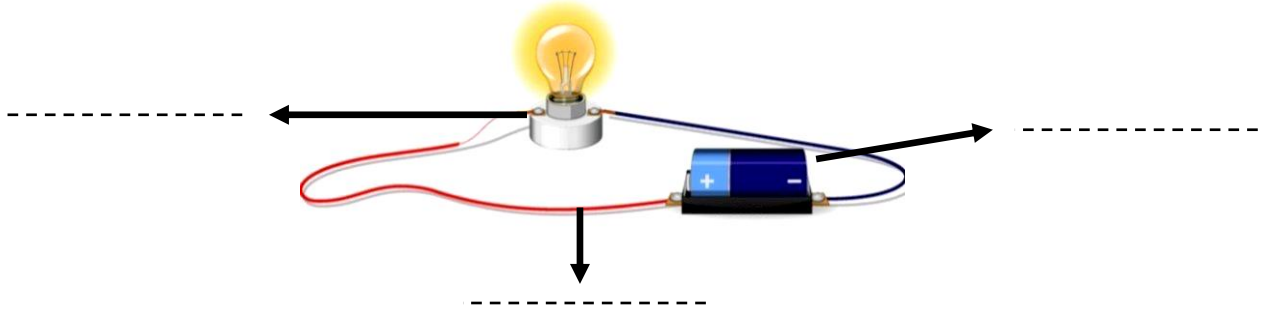
السؤال الأول :-

١٥

أ) نضع أشاره (\checkmark) عند العبارات الصحيحة وعلامة (\times) عند الخاطئة :-

- ١- تعتبر السلطة محلول . (.....)
- ٢- السوائل الأقل كثافة من الماء تطفو على سطحه . (.....)
- ٣- الأقطاب المغناطيسية المتشابهة تتنافر . (.....)
- ٤- مساحة المستطيل = الطول \times العرض . (.....)
- ٥- كلما زاد مقدار القوة ازداد التسارع . (.....)
- ٦- الحرارة تنتقل من الأجسام الأدفأ إلى الأجسام الأبرد . (.....)
- ٧- الزيت يقلل الاحتكاك بين الأجسام . (.....)
- ٨- يحدث البرق بسبب تفريغ الكهرباء الساكنة . (.....)
- ٩- عند تسخين السائل يتمدد أكثر ويأخذ حجم أكبر . (.....)
- ١٠- من طرق فصل المخلوط المغناطيس . (.....)
- ١١- يعتمد مقدار الاحتكاك على طبيعة السطوح المتلامسة . (.....)
- ١٢- عند تحول المادة من حالة إلى أخرى فإن كتلتها لا تتغير . (.....)

ب) أمامك رسمه لدائرة كهربائية تحتاج إلى كتابة البيانات عليها :-



السؤال الثاني :-

١٠

أ) نحدد حسب الصور التالية المواد الموصلة والمواد العازلة :-



تابع السؤال الثاني :-

ب) ما هي أنواع القوى المؤثرة في الأجسام ؟

- ١- قوى
- ٢- قوى

ج) نختار الإجابة الصحيحة فيما يلي :-

١	وحدة قياس الكتلة هي.....	(أ) الكيلو جرام	(ب) السنتيمتر	(ج) نيوتن
٢	المنطقة التي تظهر فيها آثار القوة المغناطيسية هي	(أ) المجال المغناطيسي	(ب) المغناطيس الكهربائي	(ج) المولد
٣	ينتج عن خلط نوعين من العناصر أحدهما فلز.....	(أ) السبائك	(ب) العصير	(ج) الماء
٤	نستخدم في المنازل دائرة	(أ) التوازي	(ب) التوالي	(ج) المقاومة
٥	انتقال الطاقة الحرارية بين جسمين متلامسين	(أ) التوصيل	(ب) الإشعاع	(ج) التمدد
٦	القوة المسؤولة عن توقف جسم متحرك هي	(أ) الاحتكاك	(ب) الرفع	(ج) السحب

السؤال الثالث :-

أ) نربط المفاهيم التالية بعبارتها الصحيحة :-

١٠

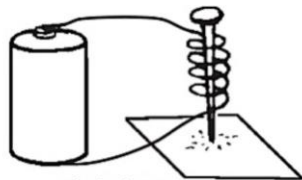
(أ)		(ب)
١- الكهرباء الساكنة	قوة تعيق حركة الأجسام
٢- التسارع	مكان وجود الجسم
٣- الكتلة	هي كمية المادة التي تشغل حيز ما
٤- الموقع	تغير سرعة الجسم واتجاه حركته
٥- الاحتكاك	تجمع الشحنات الكهربائية على سطح جسم ما

ب) مثالا لكل مما يلي :

- ١- تغير كيميائي ←
- ٢- قوى مؤثرة في حركة الجسم ←
- ٣- شكل من أشكال المغناطيس ←
- ٤- مخلوط ←

ج) حسب الصورة التي أمامك

الشكل يمثل (.....)



السؤال الرابع :-

أ) نصنف التغيرات التالية حسب الجدول :-

(صدأ الحديد ، تقطيع الورقة ، حرق الخشب ، تبخر الماء)

تغير كيميائي	تغير فيزيائي
.....
.....
.....

ب) ما الذي يحدث لجسم متحرك عندما تؤثر فيه قوى متزنة ؟

.....

تم تحميل هذا الملف من
موقع المناهج السعودية

alManahj.com/sa

انتهت الأسئلة ** بالتوفيق



سكره الشمري

المجموع الكلي		المملكة العربية السعودية وزارة التعليم الإدارة العامة للتعليم بمنطقة
		مدرسة /
٤٠		
اختبار مادة العلوم (الدور الأول) الفصل الدراسي الثالث للعام الدراسي ١٤٤٤ هـ		

نموذج الإجابة

المادة	العلوم	الصف	الرابع
اليوم	التاريخ	زمن الاجابة	ساعة ونصف
اسم الطالب/ة			
رقم الجلوس	()		

رقم السؤال	الدرجة المستحقة		اسم المصحح / اسم المدقق / اسم المراجع / اسم المراجع / اسم المدقق / اسم المراجع / اسم المدقق /
	الدرجة رقمياً	الدرجة كتابة	
السؤال الأول			
السؤال الثاني			
السؤال الثالث			
السؤال الرابع			
المجموع			



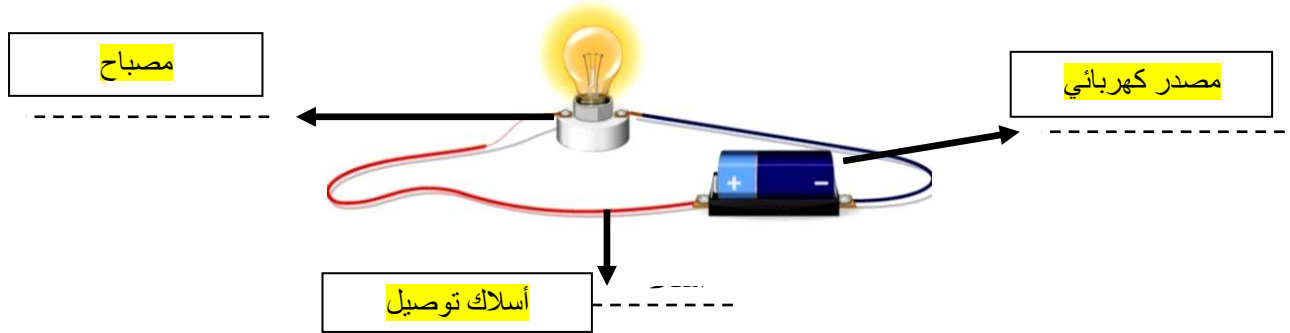
السؤال الأول :-

١٥

أ) نضع أشاره (\checkmark) عند العبارات الصحيحة وعلامة (\times) عند الخاطئة :-

- ١- تعتبر السلطة محلول . (\times)
- ٢- السوائل الأقل كثافة من الماء تطفو على سطحه . (\checkmark)
- ٣- الأقطاب المغناطيسية المتشابهة تتنافر . (\checkmark)
- ٤- مساحة المستطيل = الطول \times العرض . (\checkmark)
- ٥- كلما زاد مقدار القوة ازداد التسارع . (\checkmark)
- ٦- الحرارة تنتقل من الأجسام الأدفأ إلى الأجسام الأبرد . (\checkmark)
- ٧- الزيت يقلل الاحتكاك بين الأجسام . (\checkmark)
- ٨- يحدث البرق بسبب تفريغ الكهرباء الساكنة . (\checkmark)
- ٩- عند تسخين السائل يتمدد أكثر ويأخذ حجم أكبر . (\times)
- ١٠- من طرق فصل المخلوط المغناطيس . (\checkmark)
- ١١- يعتمد مقدار الاحتكاك على طبيعة السطوح المتلامسة . (\checkmark)
- ١٢- عند تحول المادة من حالة إلى أخرى فإن كتلتها لا تتغير . (\checkmark)

ب) أمامك رسمه لدائرة كهربائية تحتاج إلى كتابة البيانات عليها :-



السؤال الثاني :-

أ) نحدد حسب الصور التالية المواد الموصلة والمواد العازلة :-



عازلة



موصلة

تابع السؤال الثاني :-

ب) ما هي أنواع القوى المؤثرة في الأجسام ؟

١- قوى متزنة

٢- قوى غير متزنة

ج) نختار الإجابة الصحيحة فيما يلي :-

١	وحدة قياس الكتلة هي.....	(أ) الكيلو جرام	(ب) السنتيمتر	(ج) نيوتن
٢	المنطقة التي تظهر فيها آثار القوة المغناطيسية هي.....	(أ) المجال المغناطيسي	(ب) المغناطيس الكهربائي	(ج) المولد
٣	ينتج عن خلط نوعين من العناصر أحدهما فلز.....	(أ) السبائك	(ب) العصير	(ج) الماء
٤	نستخدم في المنازل دائرة.....	(أ) التوازي	(ب) التوالي	(ج) المقاومة
٥	انتقال الطاقة الحرارية بين جسمين متلامسين.....	(أ) التوصيل	(ب) الإشعاع	(ج) التمدد
٦	القوة المسؤولة عن توقف جسم متحرك هي.....	(أ) الاحتكاك	(ب) الرفع	(ج) السحب

السؤال الثالث :-

أ) نربط المفاهيم التالية بعبارتها الصحيحة :-

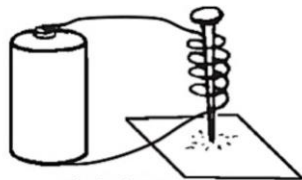
(أ)		(ب)
١- الكهرباء الساكنة	٥	قوة تعيق حركة الأجسام
٢- التسارع	٤	مكان وجود الجسم
٣- الكتلة	٣	هي كمية المادة التي تشغل حيز ما
٤- الموقع	٢	تغير سرعة الجسم واتجاه حركته
٥- الاحتكاك	١	تجمع الشحنات الكهربائية على سطح جسم ما

ب) مثالا لكل مما يلي :

- ١- تغير كيميائي ← صدا الحديد
- ٢- قوى مؤثرة في حركة الجسم ← الاحتكاك
- ٣- شكل من أشكال المغناطيس ← مغناطيس حلقي
- ٤- مخلوط ← السلطة - المكسرات

ج) حسب الصورة التي أمامك

الشكل يمثل (مغناطيس كهربائي)



السؤال الرابع :-

أ) نصنف التغيرات التالية حسب الجدول :-

(صدأ الحديد , تقطيع الورقة , حرق الخشب , تبخر الماء)

تغير كيميائي	تغير فيزيائي
صدأ الحديد حرق الخشب	تقطيع الورقة تبخر الماء

ب) ما الذي يحدث لجسم متحرك عندما تؤثر فيه قوى متزنة ؟

تغير في حركة الجسم

موقع المناهج السعودية

alManahj.com/sa

تم حل النموذج من الأستاذ (البدر)

انتهت الأسئلة ** بالتوفيق



سكـره الشمري

المراجع	المصمم	الدرجة		السؤال	بسم الله الرحمن الرحيم رؤية 2030 وزارة التعليم	المملكة العربية السعودية وزارة التربية والتعليم إدارة التربية والتعليم مكتب التعليم مدرسة	
		كتابة	رقماً			المادة :	علوم
				س١	أسئلة الاختبار النهائي الدور الأول الفصل الدراسي : الثالث العام الدراسي : ١٤٤٣هـ	الصف:	الرابع
				س٢		اسم الطالب	
				س٣		رقم الجلوس	
			المجموع				
	أربعون درجة	٤٠					

استعن بالله ثم اجب على الاسئلة

السؤال الأول:

٢٠

١٠

أ/ ضع علامة (√) أمام العبارة الصحيحة وعلامة (X) أمام العبارة الخاطئة

١	الأقطاب المغناطيسية المتشابهة تتنافر	()
٢	الزيت يقلل الاحتكاك بين الأجسام	()
٣	نوصل الكهرباء في المنازل عن طريق دائرة التوصيل على التوازي	()
٤	نقيس الكتلة بالجرام والكيلو جرام	()
٥	التغير الفيزيائي تغير ينتج عنه مواد جديدة	()
٦	القوى المتزنة هي عبارة عن مجموعة قوى تلغي بعضها بعضاً	()
٧	عندما تتغير سرعة أو اتجاه الجسم فإنه يتسارع	()
٨	يطفو الجسم عندما تكون كثافته أقل من كثافة السائل	()
٩	المواد العازلة هي مواد لاتنقل الحرارة	()
١٠	التسامي هو تحول المادة من حالة سائلة إلى حالة غازية	()

ب/ ضع الكلمة المناسبة في الفراغ المناسب ؟

(الكتلة _ الحرارة _ السرعة _ مقاومة _ الكهرباء الساكنة _ الترشيح _ الإشعاع الحراري _ المغناطيس الكهربائي _ الصدا _ تسارع)

١٠

- ١- تعتبر من طرق فصل المخلوط
- ٢- تنتقل الحرارة في الفراغ عن طريق
- ٣- هو عبارة سلك ملفوف حول قلب من الحديد
- ٤- لتكوين دائرة كهربائية لا بد من توفر مصدر طاقة واسلاك و
- ٥- هي كمية المادة التي تشغل حيزاً ما
- ٦- هي التغير في المسافة بمرور الزمن
- ٧- تجمع الشحنات الكهربائية على سطح جسم ما يسمى
- ٨- هي انتقال الطاقة الحرارية من جسم إلى آخر
- ٩- تغيير سرعة الكرة عند ركله يسمى
- ١٠- من أمثلة التغير الكيميائي

السؤال الثاني: / ضع دائرة على الحرف الذي يسبق الإجابة الصحيحة لكل مما يلي :

١٠

١	الأقطاب المغناطيسية المختلفة	(أ) تتجاذب	(ب) تتنافر	(ج) تتباعد
٢	عند إذابة ملح في ماء فإنه يصبح	(أ) محلول	(ب) مخلوط	(ج) ماء
٣	انتقال الحرارة بين جسمين متلامسين يسمى.....	(أ) اشعاع حراري	(ب) توصيل حراري	(ج) حمل حراري
٤	القوى الغير متساوية في المقدار تسمى.....	(أ) قوى متزنة	(ب) قوى غير متزنة	(ج) جاذبية
٥	المسار الذي يسري فيه التيار الكهربائي يسمى.....	(أ) المقاومة	(ب) الدائرة الكهربائية	(ج) التفريغ الكهربائي

السؤال الثالث:

(أ) صل العبارة من العمود (أ) بما يناسبه من العمود (ب)

١٠

(ب)	(أ)
المغناطيس	١- المنطقة التي تظهر فيها اثار قوة المغناطيس
الكهرباء الساكنة	٢- قوة تعيق حركة الجسم
نيوتن	٣- نفصل مخلوط الرمل والحديد باستخدام
الاحتكاك	٤- تقاس القوة بوحدة
المجال المغناطيسي	٥- تجمع الشحنات الكهربائية على سطح جسم

ب (هـ) هات مثالا لكل مما يلي:

(١) مادة عازلة

(٢) تغير فيزيائي

(٣) المولد الكهربائي

ج) ماهي أنواع أنواع الدوائر الكهربائية ؟

...../١

...../٢

أبوركان

تمنياتكم بالتوفيق والنجاح

المادة: علوم
الصف: الرابع
الزمن: ساعة و
نصف



المملكة العربية السعودية
وزارة التعليم
الإدارة العامة للتعليم
ب.....
مدرسة.....

أسئلة اختبار الفصل الدراسي الثالث (الدور الأول) لمادة العلوم للعام الدراسي 1444هـ

اسم الطالب: الصف: 4/

المراجع		المصحح		الدرجة		رقم السؤال
التوقيع	الاسم	التوقيع	الاسم	كتابة	رقمًا	
						السؤال الأول
						السؤال الثاني
						السؤال الثالث
					40	المجموع

السؤال الأول (أ) ضع علامة (✓) أمام العبارة الصحيحة وعلامة (×) أمام العبارة الخاطئة في كل مما يأتي:

5	1	الكتلة تقاس بوحدة الجرام أو الكيلوجرام
	2	التغير الفيزيائي لا ينتج عنه مواد جديدة
	3	الترسيب من طرق فصل مواد المخلوط
	4	تقاس القوة بوحدة النيوتن
	5	لكي يسري التيار الكهربائي لابد أن تكون الدائرة مغلقة

يتبع

السؤال الأول (ب) اختار الإجابة الصحيحة لكل مما يلي باختيار الحرف الدال عليها :

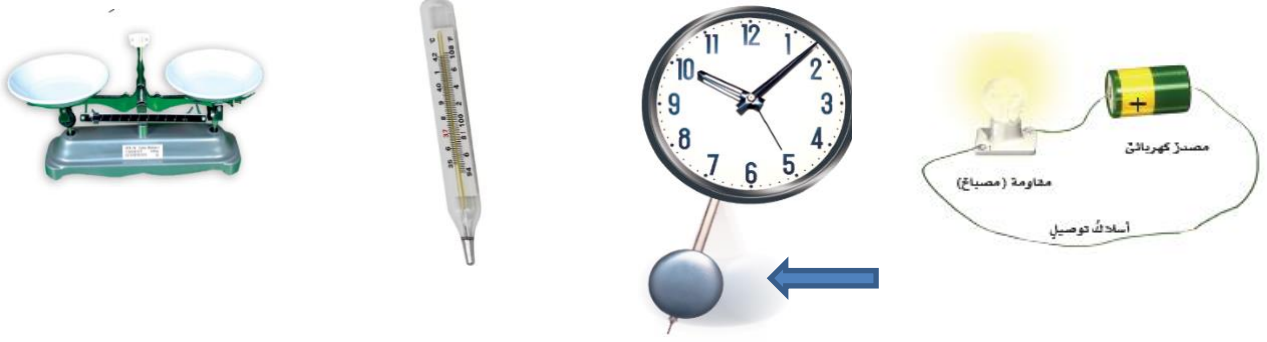
10

1.	أ	طول	ب	عرض	ج	قوة	د	كثافة
2.	أ	من علامات وجود تغير كيميائي وجود	ب	تراب	ج	لملمس	د	فقاعات
3.	أ	السبائك تنتج عن خلط نوعين أو أكثر من العناصر أحدها	ب	ترشيح	ج	فلز	د	ماء
4.	أ	الذي يسبب تحرك الأجسام الساكنة أو تغير سرعة واتجاه الأجسام المتحركة هو	ب	البندول	ج	القوة	د	صدأ الحديد
5.	أ	القوى الغير متساوية والتي تحرك الجسم باتجاه القوة الكبرى هي	ب	القوى المتزنة	ج	الحجم	د	القوى الغير متزنة
6.	أ	درجة غليان الماء تساوي	ب	100 لتر	ج	100 جرام	د	100 درجة سلسيوس
7.	أ	عندما يتلامس جسمان فإن الشحنات التي تتحرك بسهولة أكثر هي الشحنات	ب	الناعمة	ج	الموجبة	د	السالبة
8.	أ	المسار المغلق لذي تسري الكهرباء فيه يسمى	ب	مقاومة	ج	عمود كهرباء	د	دائرة كهربائية
9.	أ	أقطاب المغناطيس التي تتجاذب هي الأقطاب	ب	المتشابهة	ج	القصيرة	د	المختلفة
10.	أ	الذي يساعدك في تحديد الاتجاهات (شمال - شرق - غرب - جنوب) هو جهاز	ب	الميزان	ج	الثرموميتر	د	البوصلة

يتبع

السؤال الثاني (أ) سمي الأجهزة التي أمامك

4



--	--	--	--

السؤال الثاني (ب) : ضع كل من المصطلحات الآتية في الفراغ المناسب لها

6

التسارع / المحلول / المجال المغناطيسي / المقاومة / مادة عازلة / الكثافة

1.	منطقة محيطة بالمغناطيس تظهر فيها آثار قوته المغناطيسية
2.	هي الجهاز أو الأداة التي يزودها المصدر بالطاقة
3.	لاتنقل الحرارة بشكل جيد
4.	هي كمية الكتلة في وحدة حجم واحدة
5.	مخلوط مكون من مادتين أو أكثر ممتزجتين معاً إمتزاجاً تاماً
6.	أي تغير في سرعة الأجسام و اتجاهها خلال فترة زمنية محددة

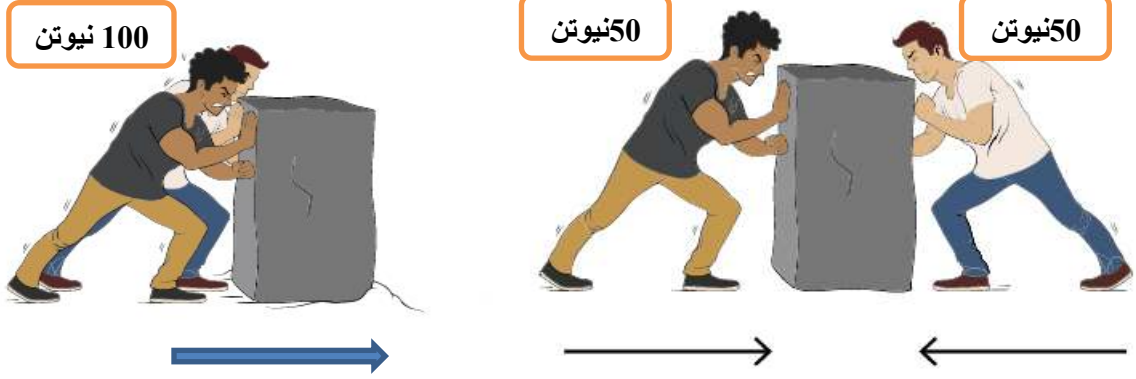
السؤال الثاني (ج) صل العبارة من العمود (أ) بما يناسبها من العمود (ب) بوضع الرقم في الخانة المناسبة

5

ب	أ
القوى المتزنة	1- قوة تسحب الأجسام إلى أسفل
الكهرباء الساكنة	2- انفصل مخلوط الرمل والحديد باستخدام
نيوتن	3- تقاس القوة بوحدة
المغناطيس	4- جمع الشحنات الكهربائية على سطح جسم
الجاذبية	5- القوى التي لا تسبب تغير حركة الجسم

السؤال الثالث (أ) : شاهد الصورة وسي نوع القوة والنتيجة

6



تسمى قوى تم تحميل هذا الجسم من
هنا الجسم موقع المناهج السعودية
والسبب والسبب
.....
.....

السؤال الثالث (ب) : هات مثال عل كل مما يلي

4

- 1- مادة عازلة
- 2- مادة موصلة
- 3- علامة تغير كيميائي
- 4- علامة تغير فيزيائي

معلم المادة

انتهت الأسئلة مع تمنياتي لك بالتوفيق