


تم تحميل هذا الملف من موقع المناهج السعودية



الملف أسئلة اختبار نهائي

[موقع المناهج](#) ← [المناهج السعودية](#) ← [الصف الرابع](#) ← [علوم](#) ← [الفصل الثالث](#)

المزيد من الملفات بحسب الصف الرابع والمادة علوم في الفصل الثالث

ملخص شامل لوحات المنهج	1
مراجعة ختامية للاختبار النهائي	2
تقويم ختامي للمهارات مع نموذج الإجابة	3
اختبار نهائي الدور الأول	4
نموذج اختبار نهائي الدور الأول	5

المادة: علوم		المملكة العربية السعودية.
الصف: رابع ابتدائي		وزارة التعليم.
التاريخ: ١٤٤٤/١٢/١ هـ		إدارة تعليم
اليوم: الأثنين		مكتب تعليم
عدد الصفحات: ٣		مدرسة
الزمن: ساعة ونصف.		أسئلة الاختبار النهائي (الفصل الدراسي الثالث) للعام الدراسي ١٤٤٤ هـ

اسم الطالبة:			رقم الجلوس:		
رقم السؤال	الدرجة التي حصلت عليها الطالبة		المصححة	المراجعة	المدققة
	رقمًا	كتابة			
الأول		فقط لا غير			
الثاني		فقط لا غير			
الثالث		فقط لا غير			
المجموع		فقط لا غير			

♥ السؤال الأول (أ) اكتب المصطلح العلمي المناسب أمام العبارات الآتية.

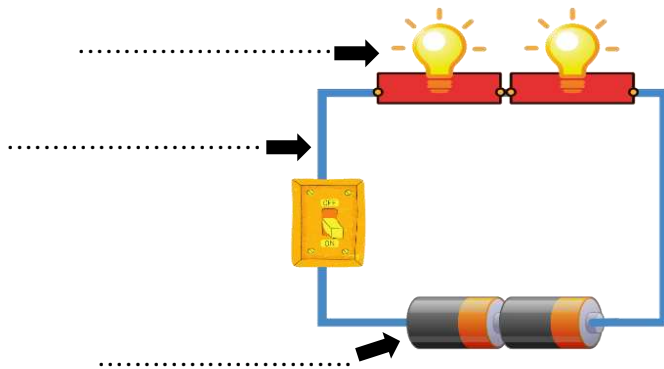
(الطول – السرعة – الحرارة – المغناطيس الكهربائي – الكهرباء الساكنة)

١٠

- عدد وحدات القياس من أحد طرفي الجسم إلى الطرف الآخر.
- المسافة التي يقطعها جسم في زمن معين.
- المغناطيس الناشئ عن مرور تيار كهربائي في سلك يسمى
- انتقال الطاقة الحرارية من الجسم الساخن إلى الجسم البارد.
- تجمع الشحنات الكهربائية على سطح جسم ما.

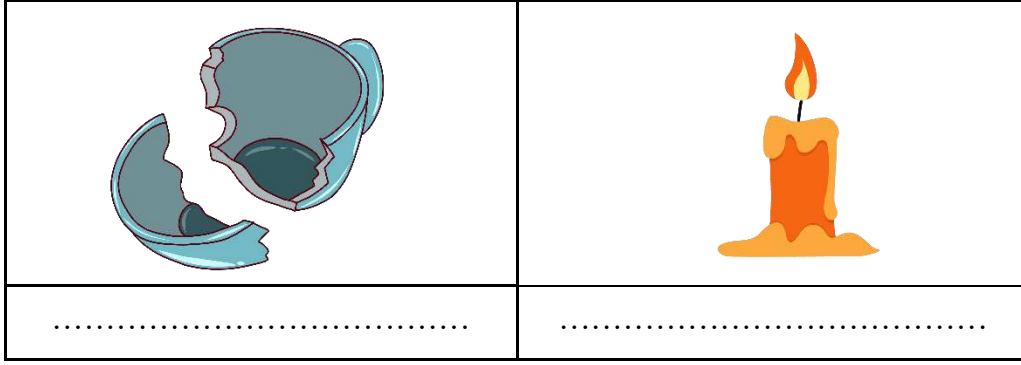
♥ السؤال الأول (ب) أجب حسب المطلوب منك:

١- ما نوع الدائرة الكهربائية التي أمامك؟



٢- سمّي أجزاء الدائرة الكهربائية على الرسم.

♥ السؤال الأول (ج) صنفى التغيرات التي أمامك إلى (تغير كيميائي أو تغير فيزيائي).



٢٠

♥ السؤال الثاني: اختاري الإجابة الصحيحة لكل فقرة من الفقرات التالية.

١- ما الذي يحول الطاقة الكهربائية إلى طاقة حركية؟			
(أ) المروحة الكهربائية	(ب) المولد الكهربائي	(ج) المصباح الكهربائي	(د) المحمصة الكهربائية
٢- الأداة التي تشير إلى جهة القطب الشمالي الأرضي هي:			
(أ) البوصلة	(ب) المحرك الكهربائي	(ج) القطب الجنوبي	(د) القطب الشمالي
٣- معظم أباريق الشاهي تصنع من مواد مثل الألومنيوم والنحاس؛ لأنها جيدة:			
(أ) التوصيل	(ب) العزل	(ج) الإشعاع	(د) بوصفها مصدر حراري
٤- تقاس درجة الحرارة بأداة تسمى:			
(أ) الثرمومتر	(ب) متر	(ج) الميزان	(د) الكأس المدرج
٥- ما القوة المسؤولة عن توقف جسم متحرك عن الحركة؟			
(أ) الاحتكاك	(ب) الدفع	(ج) الجاذبية	(د) القوى المتزنة
٦- قوى غير متساوية تسبب تغير حركة الجسم؟			
(أ) القوى الغير متزنة	(ب) القوى المتزنة	(ج) القوى المتساوية	(د) الجاذبية
٧- (تبلغ سرعة القطار ٣٠٠ كم/س في اتجاه الشرق) هذه العبارة تصف:			
(أ) السرعة المتجهة	(ب) السرعة	(ج) التسارع	(د) الزمن
٨- أي الأشياء التالية له كتلة وحجم؟			
(أ) الكهرباء	(ب) غاز ثاني أكسيد الكربون	(ج) الصوت	(د) الحرارة
٩- كيف يمكن فصل الملح من محلول ماء وملح؟			
(أ) بالتسريب	(ب) بالتبخير	(ج) بالمغناطيس	(د) بالترشيح
١٠- الخاصية التي تتغير اعتماداً على قوة الجذب هي:			
(أ) الطول	(ب) الوزن	(ج) الكتلة	(د) الكثافة

♥ السؤال الثالث: ضع علامة (✓) أمام العبارة الصحيحة و (X) أمام العبارة الخاطئة:

١٠

- | | |
|-----|--|
| () | ١. تقاس الكتلة بوحدة الجرام أو الكيلوجرام. |
| () | ٢. التحول البطيء للسوائل إلى الحالة الغازية يسمى التبخر. |
| () | ٣. السبائك تنتج عن خلط نوعين من العناصر أحدهما على الأقل فلز. |
| () | ٤. لإيجاد مساحة جسم على شكل مستطيل نضرب الطول في العرض. |
| () | ٥. فصل المواد الصلبة عن السوائل باستخدام المرشحات يسمى الترشيح. |
| () | ٦. تنتقل الحرارة في السوائل والغازات بالحمل الحراري. |
| () | ٧. الأقطاب المختلفة بالمغناطيس تتنافر. |
| () | ٨. تغير سرعة الجسم واتجاهه خلال فترة زمنية محددة يسمى قصور ذاتي. |
| () | ٩. كلما زادت المسافة بين الأجسام زادت قوة الجاذبية بينهما. |
| () | ١٠. يتجمد الماء عند درجة حرارة الـ ١٠٠ ⁰ س. |

https://t.me/Sciences_20 : **قناتى علوم متوسط**

https://t.me/Sciences_203 : **قناتى علوم ابتدائى**

انتهت الأسئلة

النجاح لبعث الطلاب الأذكياء، أتمنى لكم كل التوفيق

معلمة المارة: مها المريخ