

تم تحميل هذا الملف من موقع المناهج السعودية



الملف ورقة عمل درس المثلث وأنواع الزوايا

[موقع المناهج](#) ⇨ [المناهج السعودية](#) ⇨ [الصف الرابع](#) ⇨ [رياضيات](#) ⇨ [الفصل الثاني](#)

الملف ورقة عمل درس المثلث وأنواع الزوايا

[موقع المناهج](#) ⇨ [المناهج السعودية](#) ⇨ [الصف الرابع](#) ⇨ [رياضيات](#) ⇨ [الفصل الثاني](#)

المزيد من الملفات بحسب الصف الرابع والمادة رياضيات في الفصل الثاني

تحميل كتاب الرياضيات	1
الكسور الاعتيادية	2
الأسئلة المفسوحة للصف الرابع	3
دليل اختبارات TIMSS	4
دليل التقويم	5

ورقة عمل

الصف الرابع الابتدائي

مادة : الرياضيات

التاريخ: ... / ... / ١٤٤٥ هـ

الإسم:

الموضوع: المثلث.

□ صلي من العمود الأول بما يناسب من العمود الثاني:

إذا كان فيه على الأقل ضلعان متطابقان.

almanahj.com/sa

المثلث المتساوي الساقين

إذا لم تكن فيه أضلاع متطابقة.

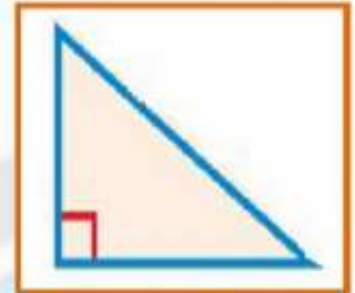
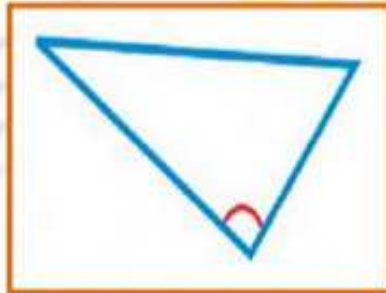
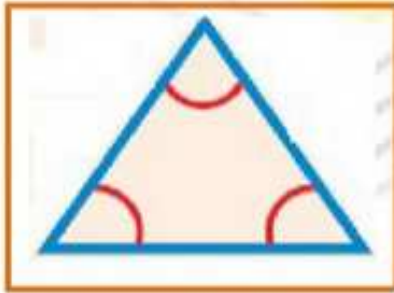
إذا كانت كل أضلاعه متطابقة.

يسمى المثلث مختلف الأضلاع

يسمى المثلث متطابق الأضلاع

يسمى المثلث متطابق الضلعين

◈ اكمل الفراغ التالي:



مثلث ... الزاوية

مثلث ... الزاوية

مثلث ... الزاوية

أ/ عواطف الجربوع

أوراق عمل (الرياضيات للصف الرابع الابتدائي)