


تم تحميل هذا الملف من موقع المناهج السعودية



الملف أسئلة مراجعة تعزيز المهارات

[موقع المناهج](#) ← [المناهج السعودية](#) ← [الصف الخامس](#) ← [اجتماعيات](#) ← [الفصل الثالث](#)

المزيد من الملفات بحسب الصف الخامس والمادة اجتماعيات في الفصل الثالث

|   |   |
|---|---|
| <a href="#">مجموعة اختبارات نهائية مع نموذج الإجابة</a> | 1 |
| <a href="#">اختبار نهائي قابل للتعديل</a>               | 2 |
| <a href="#">اختبار منتصف الفصل قابل للتعديل</a>         | 3 |
| <a href="#">ورقة عمل درس النبات الطبيعي</a>             | 4 |
| <a href="#">اختبار منتصف الفصل</a>                      | 5 |

**أسئلة تعزيز المهارات لمادة الدراسات الاجتماعية الصف الخامس**  
**اخترى الإجابة الصحيحة فيما يلي**

|  |                     |   |                     |   |                        |
|--|---------------------|---|---------------------|---|------------------------|
| 1. يعد اكبر حقول النفط في اليابسة مساحة و انتاجا في العالم هو.         |                     |   |                     |   |                        |
| أ  | الغوار              | ب | السفانية            | ج | منيفة                  |
| د  | بقيق                |   |                     |   |                        |
| 2. تتوافر المعادن في وطني المملكة العربية السعودية في الجهات .         |                     |   |                     |   |                        |
| أ  | الغربية الوسطى      | ب | الجنوبية الغربية    | ج | الشمالية الشرقية       |
| د  | الشمالية الغربية    |   |                     |   |                        |
| 3. تستعمل مياة الصرف الصحي المعالجة في.                                |                     |   |                     |   |                        |
| أ  | الغسيل              | ب | ري المتنزهات        | ج | الشرب                  |
| د  | الإستحمام           |   |                     |   |                        |
| 4. هي احدى مقومات الحياة ومن صفاتها مقاومة الجفاف .                    |                     |   |                     |   |                        |
| أ  | النباتات المعمرة    | ب | النباتات الحولية    | ج | المزارع                |
| د  | المنتزهات           |   |                     |   |                        |
| 5. من أمثلة المياه الجوفية   |                     |   |                     |   |                        |
| أ  | البرك               | ب | الانهار             | ج | البحيرات               |
| د  | الآبار              |   |                     |   |                        |
| 6. ينمو نبات التين الشوكي في البيئة .                                  |                     |   |                     |   |                        |
| أ  | الجبلية             | ب | المستنقعات          | ج | الأودية                |
| د  | الغابات             |   |                     |   |                        |
| 7. تأتي الزراعة في الصدارة بين الأنشطة .                               |                     |   |                     |   |                        |
| أ  | الرياضية            | ب | السياحية            | ج | الاقتصادية             |
| د  | الاجتماعية          |   |                     |   |                        |
| 8. من فوائد الصناعة  |                     |   |                     |   |                        |
| أ  | توفير فرص العمل     | ب | توفير المزارع       | ج | توفير الأراضي          |
| د  | توفير الطاقة        |   |                     |   |                        |
| 9. من سمات مناخ المملكة العربية السعودية انه .                         |                     |   |                     |   |                        |
| أ  | جاف                 | ب | بارد                | ج | رطب                    |
| د  | غزارة الامطار       |   |                     |   |                        |
| 10. من العوامل الطبيعية المؤثرة في توزيع السكان.                       |                     |   |                     |   |                        |
| أ  | التضاريس            | ب | النشاط السياسي      | ج | النشاط الاقتصادي       |
| د  | النشاط الصناعي      |   |                     |   |                        |
| 11. المراحل التي يمر بها النفط .                                       |                     |   |                     |   |                        |
| أ  | الاستطلاع           | ب | الحرق               | ج | التقطير                |
| د  | التجفيف             |   |                     |   |                        |
| 12. تتولى الهيئة العامة للمساحة والمعلومات الجيو مكانية انتاج الخرائط. |                     |   |                     |   |                        |
| أ  | الجيولوجية          | ب | الرقمية             | ج | التضاريسية             |
| د  | المناخية            |   |                     |   |                        |
| 13. تعد من أسباب قلة الثروة الحيوانية في وطني .                        |                     |   |                     |   |                        |
| أ  | الاستهلاك ضخم للحوم | ب | وفرة الغطاء النباتي | ج | استهلاك ذكور الحيوانات |
| د  | نشاط حرفة الرعي     |   |                     |   |                        |

اختارى الإجابة الصحيحة فيمايلي

|    |   |   |                    |     |
|----|---|---|--------------------|-----|
| 1  | تستعمل مياه الصرف الصحي المعالجة في 00000000000                   |   |                    |     |
| أ  | ري المنتزهات  | ب | الغسيل             | ج   |
| 2  | تاتي الزراعة في الصدارة بين الأنشطة 00000000000                   |   |                    |     |
| أ  | الأقتصادية  | ب | السياحية           | ج   |
| 3  | هي تحويل المادة الخام الموجودة في الطبية للاستفادة منها 000000000 |   |                    |     |
| أ  | الصناعة   | ب | التجارة            | ج   |
| 4  | من عوامل نجاح الزراعة 000000000                                   |   |                    |     |
| أ  | التربة  | ب | البحار             | ج   |
| 5  | من فوائد الصناعة 000000000  |   |                    |     |
| أ  | توفير فرص العمل   | ب | توفير المادة الخام | ج   |
| 6  | اكبر حقل بري في العالم هو 00000000000                             |   |                    |     |
| أ  | الغوار  | ب | منيفة              | ج   |
| 7  | ينمو نبات التين الشوكي في البيئة 00000000000                      |   |                    |     |
| أ  | الجبليّة  | ب | الاودية            | ج   |
| 8  | من امثلة المياة العذبة 00000000000000000                          |   |                    |     |
| أ  | البحار  | ب | الانهار            | ج   |
| 9  | من الموارد الطبيعية الغير متجددة 0000000000                       |   |                    |     |
| أ  | الرياح  | ب | الحديد             | ج   |
| 10 | تسمى النباتات المعمرة 0000000000                                  |   |                    |     |
| أ  | العشبية   | ب | الدائمة            | ج   |
| 11 | من العوامل البشرية المؤثرة في سكان العالم 000000000000000         |   |                    |     |
| أ  | المياه  | ب | الاقتصاد           | ج   |
| 12 | يسكن في قارة اسيا من سكان العالم نحو 00000000000                  |   |                    |     |
| أ  | %40   | ب | %60                | ج   |
|    |   |   |                    | %20 |

|    |  |   |                |   |
|----|--|---|----------------|---|
| 13 | تشكل قارة 0000000 ما يقارب 1% من سكان العالم                     |   |                |   |
| أ  | افريقيا  | ب | استراليا       | ج |
| 14 | يقوم على تبادل السلع والمنتجات ويشمل التجارة والخدمات هو 0000000 |   |                |   |
| أ  | النشاط الزراعي   | ب | النشاط التجاري | ج |

ضعي علامة صح او خطأ نهاية العبارة

|     |  |
|-----|--|
| ( ) | 1. تعد الثروة الحيوانية من الموارد الاقتصادية في وطني                            |
| ( ) | 2. تفيد التربة على تثبيت النبات وتمده بالعناصر الغذائية                          |
| ( ) | 3. يطلق على النباتات الحولية بالنباتات الموسمية                                  |
| ( ) | 4. تعتبر الشمس من الموارد المتجددة في الطبيعة                                    |
| ( ) | 5. يعد رمي النفايات من صور المحافظة على الثروة المائية                           |
| ( ) | 6. تصنف التجارة في وطني الى تجارة داخلية وتجارة خارجية                           |
| ( ) | 7. تراجعت حرفة الرعي بسبب استقرار الناس في المدن                                 |
| ( ) | 8. يطلق على تحويل المادة الخام الأولية الى منتج اكثر فائدة للإنسان مفهوم الصناعة |
| ( ) | 9. تزداد الكثافة السكانية في الجبال الشاهقة والصحاري الجافة                      |
| ( ) | 10. يقصد بالتجارة الخارجية حركة البيع والشراء داخل الوطن                         |
| ( ) | 11. اول من رسم الخرائط البابليون في العراق والفراعنة في مصر                      |
| ( ) | 12. يمتاز توزيع السكان في العالم بانه غير منتظم                                  |
| ( ) | 13. اسست شركة ارامكو السعودية للعناية بالزراعة                                   |

|     |  |
|-----|--|
| ( ) | 14. يعد النفط من اهم صادرات المملكة                          |
| ( ) | 15. تستورد المملكة جميع وسائل النقل ومنها السيارات والطائرات |

السؤال الأول: أ) ضعي علامة (√) امام العبارة الصحيحة وعلامة (×) أمام العبارة الخاطئة:

|     |   |
|-----|---|
| ( ) | 1) تعد المعادن من أهم الثروات الاقتصادية في وطني                          |
| ( ) | 2) تنقسم التجارة في وطني الى داخلية وخارجية                               |
| ( ) | 3) من أهم صادرات المملكة النفط والتمور                                    |
| ( ) | 4) توزيع السكان في العالم ليس منتظم بل يتفاوت من مكان الى اخر             |
| ( ) | 5) يكثر السكان في المدن الساحلية والسهول                                  |
| ( ) | 6) تراجعت حرفة الرعي بسبب انتقال الناس الى المدن                          |
| ( ) | 7) يبتعد الانسان عن المناطق الاستوائية بسبب ارتفاع رطوبة الجو             |
| ( ) | 8) اول من رسم الخرائط البابليون في العراق والفراعنه في مصر                |
| ( ) | 9) تعتبر الشمس من الموارد المتجددة في الطبيعة                             |
| ( ) | 10) من صور المحافظة على المياه ترشيد استهلاكها                            |
| ( ) | 11) بيع السلع والبضائع وشراها داخل الوطن يسمى تجارة خارجية                |
| ( ) | 12) تزداد الكثافة السكانية في الجبال الشاهقة والصحاري الجافة              |
| ( ) | 13) يعتبر نبات الأقحوان من النباتات المعمرة                               |
| ( ) | 14) المياه الجوفية هي المياه التي تعلقو سطح الأرض ولا تحتاج لجهد لاجراجها |

السؤال الثالث ( أ ) اكمل الفراغات الآتية بوضع الكلم

|                |                  |                    |
|----------------|------------------|--------------------|
| المياه الجوفية | رأس المال        | مياه البحر المحلاة |
| التضاريس       | النباتات الحولية | التمور             |

1. تنبت عقب سقوط الأمطار وتتغذى عليها الحيوانات .....  
 .....

2. هي المياه المنقاة من الأملاح والشوائب .....  
 .....

3. يسهم تنوع ..... في اختلاف الغطاء النباتي  
 .....

4. المياه الموجودة في باطن الأرض هي .....  
 .....

5. تعتبر من أهم المحاصيل الزراعية في وطني .....  
 .....

6. من مقومات الصناعة في وطني .....  
 .....


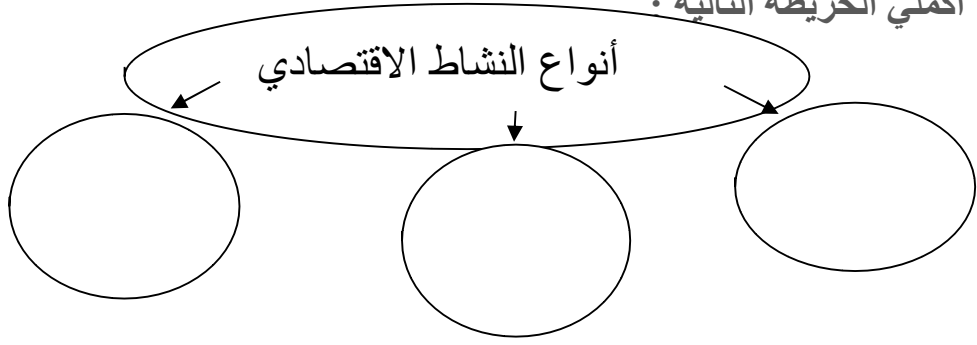
(ب) صلي المجموعة (أ) بما يناسبها في المجموعة (ب) باستعمال الأرقام :

| ( أ )               | ( ب )          |
|---------------------|----------------|
| 1- التعليم          | البيع والشراء  |
| 2- المادة الخام     | الأثاث والسفن  |
| 3- الصناعات الخشبية | مقومات الصناعة |
| 4- التجارة          | الخدمات        |
|                     | الحديد والصلب  |

(ج) عللي لما يلي .

1/ ارتفاع كثافة السكان في السهول والأراضي المنبسطة ؟

اكمل الخريطة التالية .



تم تحميل هذا الملف من  
موقع المناهج السعودية

[alManahj.com/sa](http://alManahj.com/sa)