

تم تحميل هذا الملف من موقع المناهج السعودية



الملف اختبار الفصل 11 الحادي عشر

[موقع المناهج](#) ⇨ [المناهج السعودية](#) ⇨ [الصف الخامس](#) ⇨ [رياضيات](#) ⇨ [الفصل الثالث](#)

الملف اختبار الفصل 11 الحادي عشر

[موقع المناهج](#) ⇨ [المناهج السعودية](#) ⇨ [الصف الخامس](#) ⇨ [رياضيات](#) ⇨ [الفصل الثالث](#)

المزيد من الملفات بحسب الصف الخامس والمادة رياضيات في الفصل الثالث

<a href="#">حل الإختبار التكويني لتعزيز المهارات</a>	1
<a href="#">دفتر تحضير الوحدات للفصل الدراسي الثالث</a>	2
<a href="#">ورقة عمل درس جمع الكسور المتشابهة</a>	3
<a href="#">اختبار الفصل التاسع</a>	4
<a href="#">اختبار قصير في جدول الضرب</a>	5

## اختبار الفصل ١١ الفصل الدراسي الثالث - لمادة الرياضيات - الصف الخامس

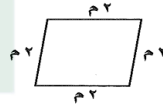
الأسم : .....



١ / اختار الإجابة الصحيحة فيما يلي ( إجابة واحدة فقط ) :

1- أفضل تسمية للشكل الرباعي المجاور هو:

almanahj.com/sa  
المنهج السعودية



أ	متوازي أضلاع	ب	مربع	ج	معين	د	شبه منحرف
2- الشكل المجاور هو: ←							
أ	مستقيم	ب	نصف مستقيم	ج	قطعة مستقيمة	د	مستوى



٢ / أكمل الفراغات الاتية بما يناسبها:

1	الشكل المجاور يسمى .....	
2	الشكل الرباعي المجاور هو .....	



٣ / بيني اذا ما كان المستقيمان متقاطعين أو متعامدين أو متوازيين فيما يأتي:

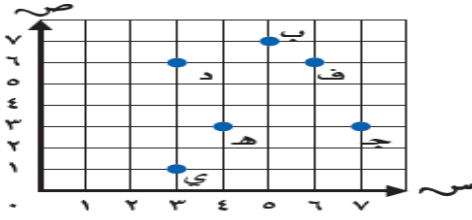

٤/ أجبني حسب المطلوب:

❖ سمى الزوج المرتب لكل نقطة مما يأتي:

ب ..... ج .....

❖ سمى النقطة التي يمثلها الزوج المرتب

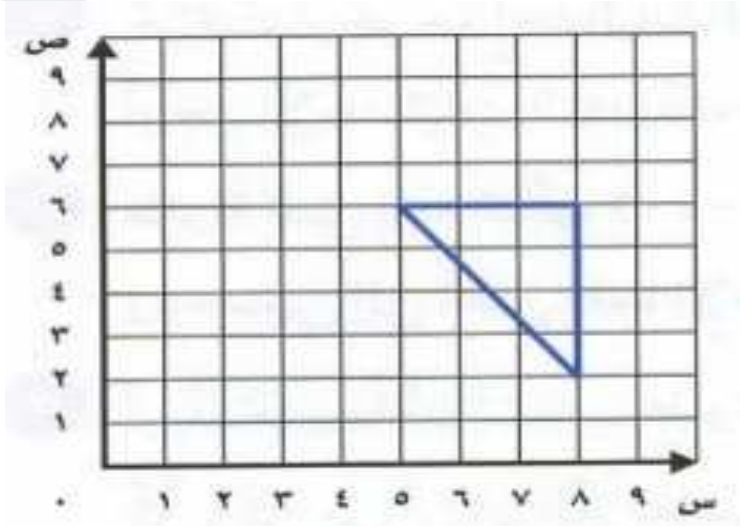
..... (3, 4) ..... (6, 3)



almanahj.com/sa

المنهج السموية

٥/ ارسمي المثلث الاتي بالانسحاب 4 وحدات الى أعلى :



انتهت الأسئلة ..