

تم تحميل هذا الملف من موقع المناهج السعودية



حل مراجعة مهارات الفصل السادس مصادر الطاقة

موقع المناهج ← المناهج السعودية ← الصف الخامس ← علوم ← الفصل الثاني ← حلول ← الملف

تاريخ إضافة الملف على موقع المناهج: 2025-01-22 21:03:35

ملفات اكتب للمعلم اكتب للطالب الاختبارات الكترونية | اختبارات | حلول | عروض بوربوينت | أوراق عمل
منهج انجليزي | ملخصات و تقارير | مذكرات و بنوك | الامتحان النهائي للمدرس

المزيد من مادة
علوم:

التواصل الاجتماعي بحسب الصف الخامس



صفحة المناهج
السعودية على
فيسبوك

الرياضيات

اللغة الانجليزية

اللغة العربية

التربية الاسلامية

المواد على تلغرام

المزيد من الملفات بحسب الصف الخامس والمادة علوم في الفصل الثاني

مراجعة مهارات الفصل السادس مصادر الطاقة

1

حل مراجعة مهارات الفصل السابع نماذج الطقس

2

مراجعة مهارات الفصل السابع نماذج الطقس

3

حل مراجعة مهارات الفصل الثامن العواصف والمناخ

4

مراجعة مهارات الفصل الثامن العواصف والمناخ

5

الاسم/.....الصف/.....

ضع-ي الكلمات الآتية أمام ما يناسبها من عبارات :

(الأوزون - الفريون - الأوكسجين - الضباب الدخاني - فوق البنفسجية - الأحافير)

- ١-.....الأحافير..... بقايا المخلوقات الحية أو آثارها التي عاشت في الماضي السحيق .
- ٢-.....الضباب الدخاني.....سحابة عملاقة صفراء تحوي ملوثات تخيم فوق المدن.
- ٣-تسبب مركبات.....الفريون.....إلى تحلل طبقة الأوزون
- ٤-توجد طبقة.....الأوزون..... على ارتفاع ٣٠ كيلومتر من سطح الأرض.
- ٥-تحمي طبقة الاوزون الارض من الاشعة.....فوق البنفسجية.....الضارة .
- ٦-تطلق النباتات في الهواء خلال النهار غاز.....الأوكسجين.....



اختر-ي الإجابة الصحيحة :

١- من مزايا هذه الموارد انها توفر الطاقة النظيفة و لا تلوث الهواء		
أ-موارد الطاقة غير المتجددة	ب-الفحم	ج-موارد الطاقة المتجددة
٢- أي الموارد الآتية ليس مورداً متجدداً للطاقة .		
أ-الطاقة الشمسية	ب-الحيوانات	ج-الفحم
٣-تبدأ محطات معالجة المياه بمرحلة		
أ-الترشيح	ب-التصفية	ج-التعقيم
٤-يسمى كل من الفحم و النفط و الغاز الطبيعي ب		
أ-الموارد المتجددة	ب-الوقود الأحفوري	ج-الطاقة البديلة
٥-تؤدي طبقة دوراً شديداً الأهمية في حماية المخلوقات الحية من الأشعة الضارة .		
أ-الضباب الدخاني	ب-الغلاف الجوي	ج-الأوزون
٦- إذا قامت الدولة بإنشاء بحيرة كبيرة لتجميع المياه فإن هذه البحيرة تسمى ...		
أ- خزان مياه اصناعياً	ب-بئراً ارتوازية	ج-خزاناً جوفياً طبيعياً
٧-أي الموارد التالية يعد مورداً متجدداً للطاقة		
النفط	طاقة لمياه	الغاز الطبيعي

أي العبارات الآتية صحيحة وأيها خطأ:

- ١-الماء العذب معظمه متوافر في صورة متجمدة على هيئة ثلوج (٧) .
- ٢-من مصادر الماء العذب خزانات المياه الجوفية التي تختزن المياه ضمن طبقات الصخور (٧) .

ما السبب في :

تستعمل مياهها في المنازل و المزارع و المصانع	١- تُشيد المباني بالقرب من الأنهار ؟
لقتل البكتيريا	٢- يستعمل الكلور في محطات تنقية المياه ؟
تلوث الهواء الجوي بمركبات الفريون	٣- الزيادة في معدل تحلل الأوزون (O ₃)

كيف نحمي الهواء من التلوث ؟

كيف نحمي الهواء من التلوث؟

١- تقليل استعمال المواد التي يدخل في صناعتها غاز الفريون

٢- صيانة السيارات بشكل دوري

٣- تقيد المصانع بالقوانين الدولية

نكمل / خريطة المفاهيم الآتية



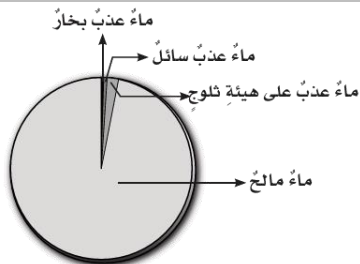
اختر الإجابة الصحيحة /

يعد استنزاف طبقة الأوزون في طبقات الجو العليا خطراً، لأنه :

أ-يزيد من تلوث الجو	ب-يمنع البكتيريا أن تحول النيتروجين إلى مواد تغذي التربة	ج-يسبب تشكل الضبخن	د-يسمح بوصول الأشعة الضارة من الشمس إلى الأرض
---------------------	--	--------------------	---



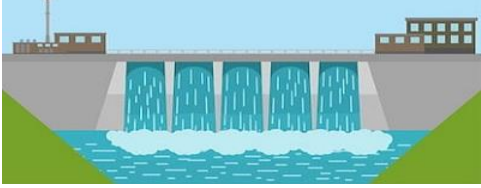

أدرس الشكل أدناه ، أي المياه تمثل أقل قطاع في الشكل ؟

أ-الماء المالح	ب-ماء عذب سائل	ج-ماء عذب بخار	د-ماء عذب ثلج
----------------	----------------	----------------	---------------



إثراء:

٧١- أي الأدوات التي تظهر في الأشكال التالية ، تستخدم في تحويل الطاقة الضوئية إلى طاقة كهربائية؟

	ب		أ
	د		ج



١٦٨- لتحويل الطاقة الشمسية على طاقة كهربائية نستخدم خلايا

كهرومائية	ب	حرارية	أ
شمسية	د	هوائية	ج



١٦٩- أي مصادر الماء التالية أكثر استخداماً للشرب و الزراعة على مستوى العالم...

المتجمدة	ب	المعالجة	أ
ماء البحر	د	الجارية	ج



 
ننافس لنصل للقيمة

انتهت الأسئلة

ثمرة الإنجاز تحتاج إلى جهد متواصل وفهم واستيعاب بالتوفيق

أ/ عبير الجناعي