

تم تحميل هذا الملف من موقع المناهج السعودية



## اختبار الفصل الحادي عشر الأشكال الهندسية

[موقع المناهج](#) ← [المناهج السعودية](#) ← [الصف الخامس](#) ← [رياضيات](#) ← [الفصل الثالث](#) ← [الملف](#)

تاريخ إضافة الملف على موقع المناهج: 2024-05-10 05:49:43

## التواصل الاجتماعي بحسب الصف الخامس



اضغط هنا للحصول على جميع روابط "الصف الخامس"

## المزيد من الملفات بحسب الصف الخامس والمادة رياضيات في الفصل الثالث

<a href="#">حل ورقة تدريبات الانسحاب والانعكاس</a>	1
<a href="#">ورقة تدريبات الانسحاب والانعكاس في المستوى الإحداثي</a>	2
<a href="#">ورقة تدريبات وحدات الزمن</a>	3
<a href="#">نموذج اختبار منتصف الفصل الدراسي الثالث</a>	4
<a href="#">نماذج اختبارات منتصف الفصل مع الإجابة</a>	5

اسم الطالب : .....



- أ ( كل ضلعان متقابلان متطابقان ) ( ✓ أم ✗ )  
 ب ( كل ضلعان متقابلان متوازيان ) ( ✓ أم ✗ )  
 ج ( جميع زواياه منفرجة ) ( ✓ أم ✗ )

مثل التالي بالرسم  
 ج ب  $\cong$  س ص بطول ٣ سم



اسم  
 الشكل  
 والرمز

أ ( نصف المستقيم س ص ← )

ب ( نصف المستقيم ← س ص )



اسم الشكل .....  
 عدد الزوايا (الحادة ..... القائمة .....)  
 عدد الأضلاع المتطابقة .....

صل كل اسم مع رمزه



قطعة مستقيمة



نصف المستقيم



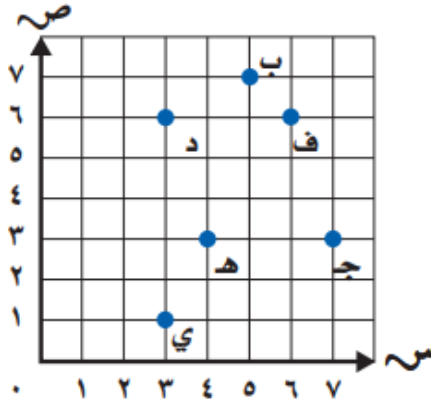
التطابق



حدد الزوايا الحادة  
 حدد الأضلاع المتوازية

إذا علمت ان ثمن الأقلام ضعف عددها  
 فأوجد ثمن الأقلام التالية مستعملاً  
 قاعدة الدالة (٢ ص)

الزوج المرتب	ثمن الأقلام	عدد الأقلام
( ، )		٧
( ، )		٨
( ، )		٩

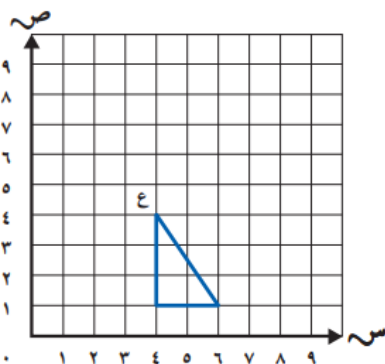


حدد الزوج المرتب لموقع  
 الحرف د ( ، )

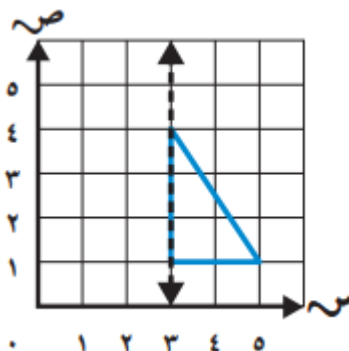
الحرف الذي يقع عند الزوج المرتب  
 (١، ٣) هو .....

أكتب الحرف ك عن الزوج المرتب  
 (٤، ٥)

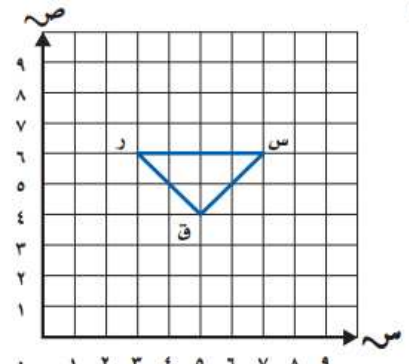
الاحداثي الصادي لموقع الحرف  
 ب هو ٥ ( ✓ أم ✗ )



ارسم صورة الشكل بالدوران حول النقطة  
 ع (٩٠° عكس عقارب الساعة)



ارسم صورة الشكل بالانعكاس  
 حول محور الانعكاس



ارسم المثلث بعد الانسحاب  
 (وحداتان للأعلى)  
 واكتب الأزواج المرتبة للصورة  
 ( ، ) ( ، ) ( ، )