


## شكراً لتحميلك هذا الملف من موقع المناهج السعودية



## أوراق عمل شاملة

[موقع المناهج](#) ← [المناهج السعودية](#) ← [الصف الخامس](#) ← [علوم](#) ← [الفصل الثالث](#) ← [الملف](#)

## التواصل الاجتماعي بحسب الصف الخامس



## روابط مواد الصف الخامس على تلغرام

[الرياضيات](#)

[اللغة الانجليزية](#)

[اللغة العربية](#)

[التربية الاسلامية](#)

## المزيد من الملفات بحسب الصف الخامس والمادة علوم في الفصل الثالث

<a href="#">مراجعة ختامية محلولة للاختبار النهائي</a>	1
<a href="#">مراجعة محلولة للفصل الحادي عشر الشغل والطاقة - الآلات البسيطة</a>	2
<a href="#">مراجعة محلولة للفصل الثاني عشر الصوت الضوء</a>	3
<a href="#">اختبار نهائي الدور الأول سكرة الشمري</a>	4
<a href="#">اختبار نهائي الدور الأول قابل للتعديل</a>	5

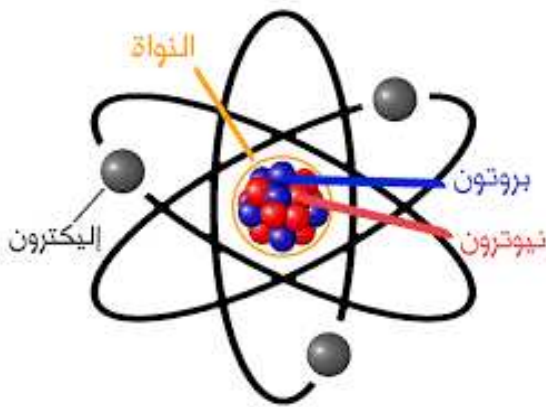
# أوراق عمل مادة العلوم للصف الخامس الابتدائي - الفصل الدراسي الثالث

اسم الطالب : ..... الصف : ٥ /

## ❖ ضع الكلمات التالية في الفراغ المناسب :-

البروتونات      الإلكترونات      نواة      النيوترونات

- تتكون الذرة من ..... وتحتوي على نوعين من الجسيمات ، أحدهما ..... وهو شحنات موجبة و الآخر هو ..... وهي متعادلة الشحنة .
- وتحتوي الذرة على ..... أيضاً وهي جسيمات شحنتها سالبة وهي تدور حول النواة .



## ❖ ضع الرقم المناسب من العمود (أ) أمام ما يناسبه من العمود (ب) :-

	أ	ب
١	العنصر	عندما ترتبط الذرات معاً تشكل ما يسمى
٢	الجدول الدوري	مادة نقية لا يمكن تجزئتها إلى مواد أصغر
٣	الجزيئات	رتب العالم مندليف العناصر في جدول سمي

الجدول الدوري للناصر

❖ وصل بما يناسب :-



الفلزات

غير موصلة  
للكهرباء و الحرارة

لها لمعان وبريق

قابلة للطرق و  
السحب و الثني

اللافلزات



تمتلك بعض  
صفات الفلزات و  
اللافلزات

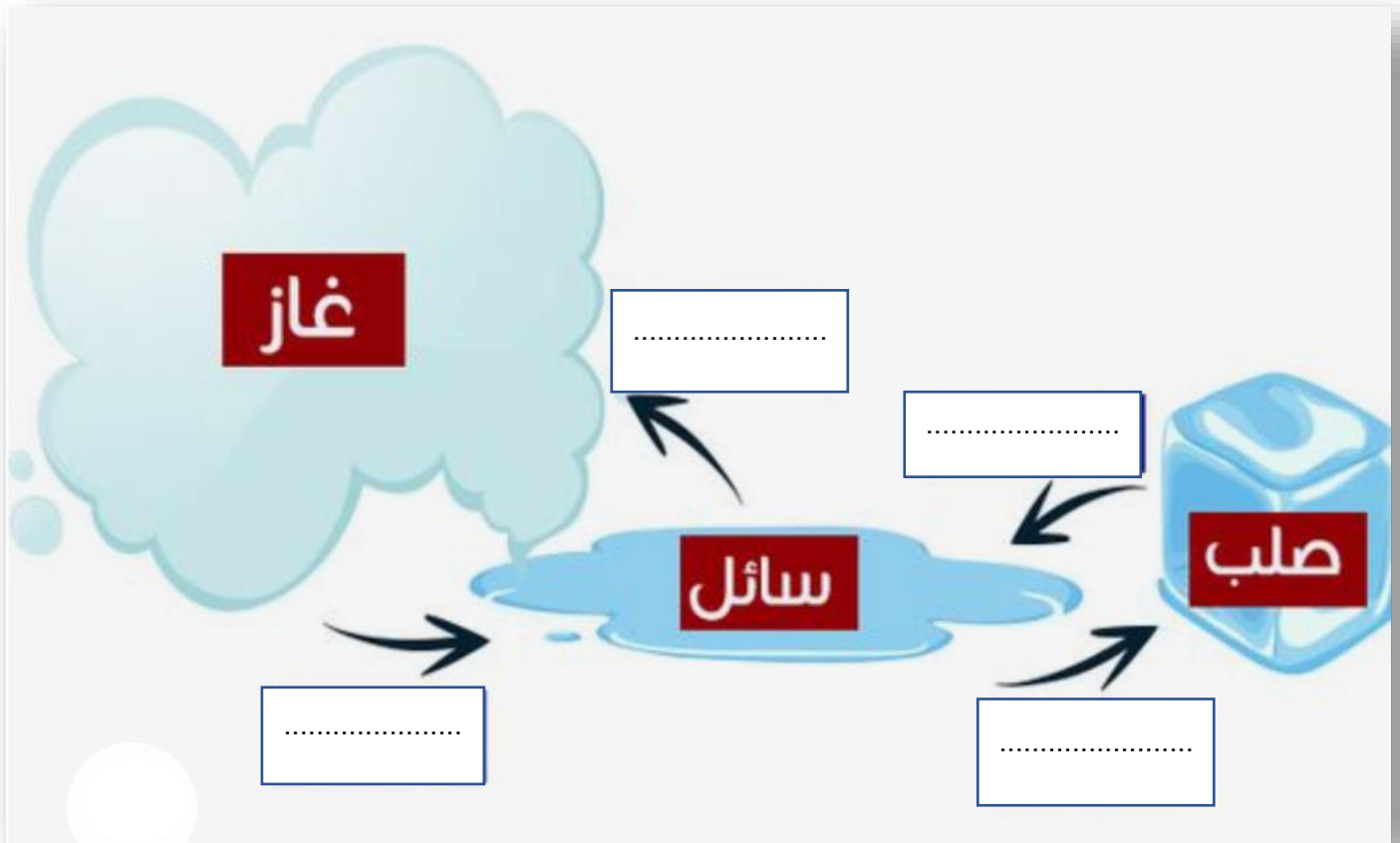
منها الصلب و  
السائل و الغاز

أشباه  
الفلزات

## أوراق عمل مادة العلوم للصف الخامس الابتدائي - الفصل الدراسي الثالث

اسم الطالب : ..... الصف : ٥ /

- ضع العبارة المناسبة مما يلي في الفراغ المناسب : -  
تبخر      تكثف      انصهار      تجمد



### ❖ ضع الكلمات التالية في الفراغ المناسب :-

التمدد الحراري      التغير الكيميائي      الانكماش الحراري      التسامي

١. يسمى نقصان حجم المادة نتيجة التغير في درجة حرارتها .....

٢. .... هو تغير في شكل الجسم دون تغير نوع المادة المكونة له .

٣. تحول المادة الصلبة مباشرة إلى المادة الغازية دون أن تمر بالحالة الغازية يسمى .....

٤. .... هو زيادة حجم المادة نتيجة التغير في درجة حرارتها .

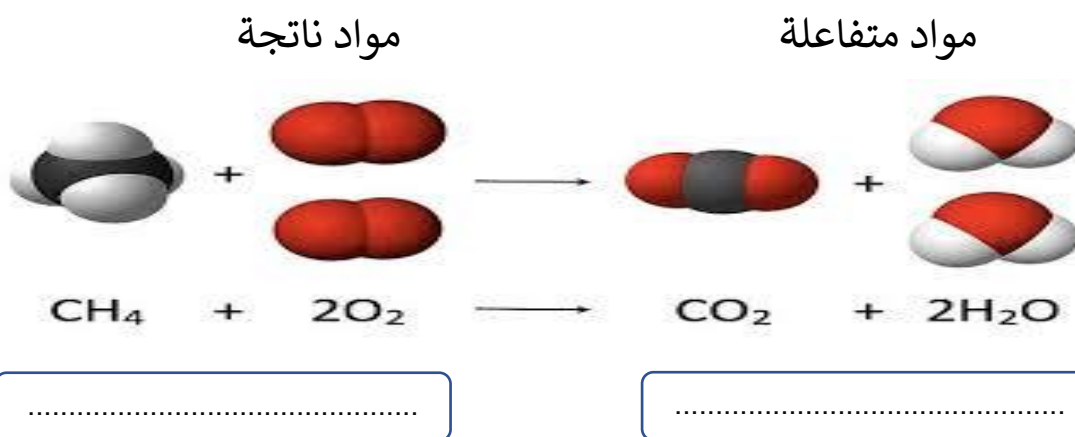
# أوراق عمل مادة العلوم للصف الخامس الابتدائي - الفصل الدراسي الثالث

اسم الطالب : ..... الصف : ٥ /

❖ ضع الرقم المناسب من العمود (أ) أمام ما يناسبه من العمود (ب) :-

ب	أ	
مادة تتكون من عنصرين أو أكثر صفاتها مختلفة عن مكوناتها	التغير الكيميائي	١
مادة صلبة تتكون نتيجة التفاعل الكيميائي	الصدأ	٢
مركب يتكون من تفاعل الحديد مع الأكسجين	الرواسب	٣
تغير ينتج عنه مواد جديدة تختلف في صفاتها عن مكوناتها	المركب	٤


❖ أكمل البيانات على الصورة :-



❖ أصل بين الصورة و مؤشر حدوث التفاعل الكيميائي :-



تصاعد الغازات



تغير اللون



تحرير الطاقة



تكوين الرواسب

# أوراق عمل مادة العلوم للصف الخامس الابتدائي - الفصل الدراسي الثالث

اسم الطالب : ..... الصف : ٥ /

❖ أصل بين العبارة و الصورة المناسبة : -



طاقة حركة



احتكاك



بذل شغل



طاقة وضع

❖ ضع الكلمات التالية في الفراغ المناسب :-

قانون حفظ الطاقة

الشغل

الطاقة

١. .... هي المقدرة على إنجاز شغل ما .
٢. .... هو القوة المبذولة لتحريك جسم ما مسافة معينة .
٣. الطاقة لا تفنى ولا تستحدث من العدم إلا بقدره الله تعالى و لكنها تتحول من شكل إلى آخر و يعرف هذا بـ .....

# أوراق عمل مادة العلوم للصف الخامس الابتدائي - الفصل الدراسي الثالث

اسم الطالب : ..... الصف : ٥ /

❖ ضع الكلمات التالية في الفراغ المناسب :-

آلة المركبة

الآلة البسيطة

١. .... أداة تستخدم لتغيير مقدار القوة و اتجاهها أو مسافتها .

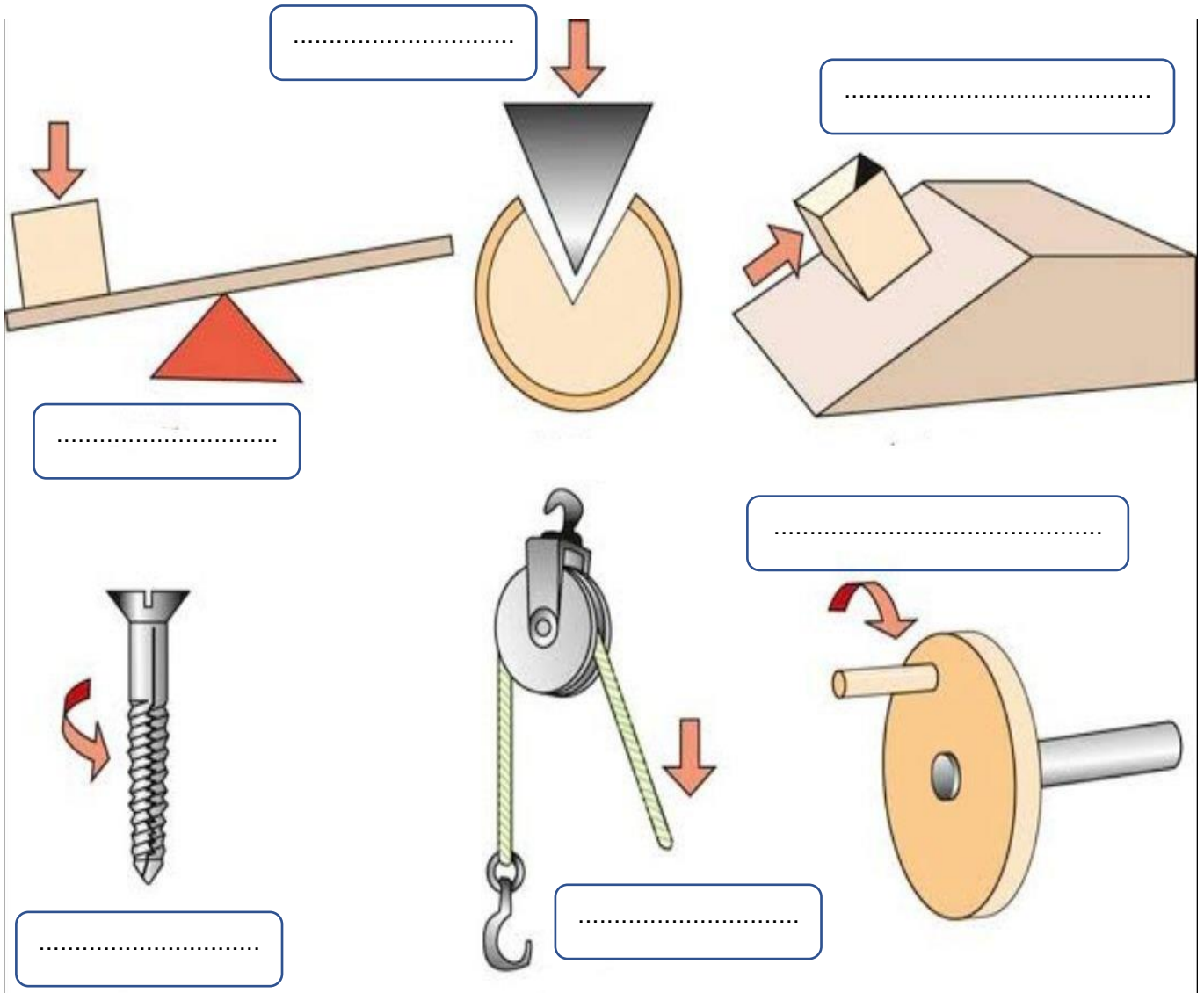
٢. عندما نجمع آلتين أو أكثر من الآلات البسيطة معاً نحصل على .....

❖ ضع اسم كل آلة من الآلات البسيطة التالية أمام الصورة المناسبة :-

العجلة و المحور  
البرغي

البكرة  
السطح المائل

الإسفين  
الرافعة



# أوراق عمل مادة العلوم للصف الخامس الابتدائي - الفصل الدراسي الثالث

اسم الطالب : ..... الصف : ٥ /

❖ ضع الرقم المناسب من العمود (أ) أمام ما يناسبه من العمود (ب) :-

ب	أ		
عدد مرات اهتزاز جسم ما خلال ثانية واحدة	التردد	١	
تكرار سماع الصوت بسبب انعكاس الموجات الصوتية	الوسط	٢	
منطقة لا توجد فيها جزيئات مادة لينتقل الصوت خلالها	الفراغ	٣	
المادة التي تنتقل خلالها الموجة الصوتية	الصدى	٤	

❖ ضع الكلمات التالية في الفراغ المناسب :-

موجة صوتية      شدة الصوت      علو الصوت      حدة الصوت

١. .... هو ما يدركه الإنسان من خلال إحساسه بشدة الموجات الصوتية.

٢. .... هي صفة للصوت تحدد ما إذا كان رفيعاً أم غليظاً . .

٣. تسمى سلسلة التضاضغات و التخلخلات المنتقلة خلال مادة ما .....

٤. كمية الطاقة التي تحملها الموجة التي تعبر مساحة محددة

خلال ثانية واحدة تسمى .....



# أوراق عمل مادة العلوم للصف الخامس الابتدائي - الفصل الدراسي الثالث

اسم الطالب : ..... الصف : ٥ /

❖ أصل بين العبارة و الصورة المناسبة : -



جسم شفاف



انكسار الضوء



جسم شبه شفاف



منشور زجاجي



جسم معتم

انعكاس الضوء



❖ ضع الكلمات التالية في الفراغ المناسب :-

فوتونات

طول الموجة

الكهرومغناطيسية

١. .... هو المسافة بين قمتين متتاليتين أو قاعين متتاليتين للموجة .

٢. يسمى تداخل طاقة القوى الكهربائية و طاقة القوى المغناطيسية .....

٣. جسيمات الضوء ليس لها كتلة و تسمى .....