


تم تحميل هذا الملف من موقع المناهج السعودية



الملف مجموعة اختبارات نهائية مع نموذج الإجابة

[موقع المناهج](#) ← [المناهج السعودية](#) ← [الصف الخامس](#) ← [اجتماعيات](#) ← [الفصل الثالث](#)

المزيد من الملفات بحسب الصف الخامس والمادة اجتماعيات في الفصل الثالث

اختبار نهائي قابل للتعديل	1
اختبار منتصف الفصل قابل للتعديل	2
ورقة عمل درس النبات الطبيعي	3
اختبار منتصف الفصل	4
اختبار منتصف الفصل (الفترة)	5

المصحح : التوقيع: المراجع التوقيع: الدرجة كتابة: درجة

اسم الطالب : رقم الجلوس ()

السؤال الأول / اختر الإجابات الصحيحة فيما يلي بوضع دائرة حولها:

٢٠

١	هي حركة البيع والشراء لمختلف أنواع السلع هي:	أ	التجارة	ب	الرعي	ج	الخدمات
٢	الذي أنشأ أول خريطة عالمية هو العالم المسلم :	أ	محمد الإدريسي	ب	ابن سينا	ج	الحسن بن الهيثم
٣	من عوامل نجاح الزراعة :	أ	الألات الحديثة	ب	قلة المياه	ج	الرعي الجائر
٤	هي كل ما أودعه الله تعالى في الطبيعة من مخزون لتلبية احتياجات الانسان:	أ	الموارد الطبيعية	ب	الانشطة الاقتصادية	ج	التضاريس
٥	هي إحدى مقومات الحياة ومن صفاتها مقاومة الجفاف:	أ	النباتات المعمرة	ب	نباتات الزينة في الشوارع	ج	النباتات المعمرة
٦	من أسباب كثافة السكان في السهول :	أ	سهولة البناء والتنقل	ب	قلة المياه	ج	ارتفاع درجات الحرارة
٧	هي تحويل المادة الخام الموجودة في الطبيعة الغير مستفاد منها الى منتجات مفيدة :	أ	الصناعة	ب	الزراعة	ج	الرعي
٨	تأتي الزراعة في الصدارة بين الأنشطة:	أ	الاقتصادية	ب	الثقافية	ج	الرياضية
٩	من فوائد الصناعة:	أ	توفير الأراضي	ب	توفير فرص العمل	ج	توفير الطاقة
١٠	هي رسم توضيحي مصغر لسطح الأرض أو لجزء منه	أ	الصورة الجوية	ب	مقياس الرسم	ج	الخريطة


السؤال الثاني / أكمل

أ - من مقومات الصناعة :

١ - ٢ -

ب - من اهم المعادن في وطني

١ - ٢ -



السؤال الثالث/ ضع علامة (√) أمام العبارات الصحيحة وعلامة (x) أمام العبارات غير الصحيحة:

١٠

١. توزيع السكان في العالم ليس منتظماً	() .
٢. يكثر السكان في السهول والهضاب غير الوعرة	() .
٣. من أهم صادرات المملكة النفط والتمور	() .
٤. تراجعت حرفة الرعي بسبب تدهور المراعي	() .
٥. لا تعد الثروة الحيوانية من الموارد الاقتصادية في وطني	() .
٦. تسمى النباتات الحولية بالنباتات الموسمية مثل نبات الأقحوان	() .
٧. تستورد المملكة وسائل النقل ومنها السيارات والطائرات	() .
٨. حقل الغوار هو أكبر حقل بري في العالم	() .
٩. يأتي وطني في المركز الخامس عالمياً في احتياطي النفط	() .
١٠. تزداد الكثافة السكانية في المناطق القطبية	() .

السؤال الرابع / ضع الكلمات الموجودة في الجدول التالي في الفراغ المناسب:

٦

الرقمية	السمر	مياه البحر المحلاة	الخدمات	التضاريس	المياه الجوفية
---------	-------	--------------------	---------	----------	----------------

١. تتولى الهيئة العامة للمساحة والمعلومات الجيومكانية إنتاج الخرائط

٢. يعنى بتوزيع السكان من أجل توزيع عليهم.

٣. من أنواع النباتات المعمرة

٤. يسهم تنوع في اختلاف الغطاء النباتي.

٥. هي المياه الموجودة في باطن الأرض.

٦. هي المياه المنقاة من الأملاح والشوائب.

---- انتهت الأسئلة ----

المصحح : التوقيع: المراجع التوقيع: الدرجة كتابة: درجة

اسم الطالب : رقم الجلوس ()

السؤال الأول / اختر الإجابات الصحيحة فيما يلي بوضع دائرة حولها:

٢٠

١	هي حركة البيع والشراء لمختلف أنواع السلع هي:	أ	التجارة	ب	الرعي	ج	الخدمات
٢	الذي أنشأ أول خريطة عالمية هو العالم المسلم :	أ	محمد الإدريسي	ب	ابن سينا	ج	الحسن بن الهيثم
٣	من عوامل نجاح الزراعة :	أ	الألات الحديثة	ب	قلة المياه	ج	الرعي الجائر
٤	هي كل ما أودعه الله تعالى في الطبيعة من مخزون لتلبية احتياجات الانسان:	أ	الموارد الطبيعية	ب	الانشطة الاقتصادية	ج	التضاريس
٥	هي إحدى مقومات الحياة ومن صفاتها مقاومة الجفاف:	أ	النباتات المعمرة	ب	نباتات الزينة في الشوارع	ج	النباتات المعمرة
٦	من أسباب كثافة السكان في السهول :	أ	سهولة البناء والتنقل	ب	قلة المياه	ج	ارتفاع درجات الحرارة
٧	هي تحويل المادة الخام الموجودة في الطبيعة الغير مستفاد منها الى منتجات مفيدة :	أ	الصناعة	ب	الزراعة	ج	الرعي
٨	تأتي الزراعة في الصدارة بين الأنشطة:	أ	الاقتصادية	ب	الثقافية	ج	الرياضية
٩	من فوائد الصناعة:	أ	توفير الأراضي	ب	توفير فرص العمل	ج	توفير الطاقة
١٠	هي رسم توضيحي مصغر لسطح الأرض أو لجزء منه	أ	الصورة الجوية	ب	مقياس الرسم	ج	الخريطة


السؤال الثاني / أكمل

أ - من مقومات الصناعة :

١ - ٢ -

ب - من اهم المعادن في وطني

١ - ٢ -



السؤال الثالث/ ضع علامة (√) أمام العبارات الصحيحة وعلامة (x) أمام العبارات غير الصحيحة:

١٠

١. توزيع السكان في العالم ليس منتظماً	()
٢. يكثر السكان في السهول والهضاب غير الوعرة	()
٣. من أهم صادرات المملكة النفط والتمور	()
٤. تراجعت حرفة الرعي بسبب تدهور المراعي	()
٥. لا تعد الثروة الحيوانية من الموارد الاقتصادية في وطني	()
٦. تسمى النباتات الحولية بالنباتات الموسمية مثل نبات الأقحوان	()
٧. تستورد المملكة وسائل النقل ومنها السيارات والطائرات	()
٨. حقل الغوار هو أكبر حقل بري في العالم	()
٩. يأتي وطني في المركز الخامس عالمياً في احتياطي النفط	()
١٠. تزداد الكثافة السكانية في المناطق القطبية	()

السؤال الرابع / ضع الكلمات الموجودة في الجدول التالي في الفراغ المناسب:

٦

الرقمية	السمر	مياه البحر المحلاة	الخدمات	التضاريس	المياه الجوفية
---------	-------	--------------------	---------	----------	----------------

١. تتولى الهيئة العامة للمساحة والمعلومات الجيومكانية إنتاج الخرائط

٢. يعنى بتوزيع السكان من أجل توزيع عليهم.

٣. من أنواع النباتات المعمرة

٤. يسهم تنوع في اختلاف الغطاء النباتي.

٥. هي المياه الموجودة في باطن الأرض.

٦. هي المياه المنقاة من الأملاح والشوائب.

---- انتهت الأسئلة ----

الدرجة	المصحح	التوقيع	المراجع	التوقيع
٤٠				

رقم الجلوس

اسم الطالب

اختبار مادة الدراسات الاجتماعية للفصل الدراسي الثالث ١٤٤٤ هـ
استعن بالله ثم أجب على جميع الأسئلة التالية

١٦

السؤال الأول :-

ضع علامة (√) امام العبارة الصحيحة وعلامة (×) امام العبارة الخاطئة مما يلي :-

١. كانت الزراعة في صدارة الأنشطة الاقتصادية للسكان قديما ()
٢. تراجعت حرفة الرعي بسبب تدهور المراعي الطبيعية ()
٣. الصناعة هي تحويل المادة الخام الأولية إلى منتج أكثر فائدة للإنسان ()
٤. تعد المناطق الجبلية في جنوب المملكة عامل جذب سياحي ()
٥. تحرص حكومة وطني المملكة العربية السعودية أن تكون قيمة الواردات أعلى من الصادرات ()
٦. تأتي المملكة العربية السعودية في المركز الأول عالميا في احتياطي النفط ()
٧. أسست شركة أرامكو السعودية للعناية بالزراعة ()
٨. قلة المياه تعد من المشكلات الوطنية ()

السؤال الثاني :-

اختر الرقم من العمود (أ) وضعه أمام ما يناسبه من العمود (ب) :

(أ) (ب)

١. التعليم () البيع والشراء ()
٢. المادة الخام () من الصادرات ()
٣. التمور () من مقومات الصناعة ()
٤. التجارة () من الخدمات ()

ابني الغالي باقي الأسئلة في الخلف ...

السؤال الثالث:-

ضع خطا تحت الإجابة الصحيحة مما يلي :

١- من عوامل نجاح الزراعة

أ - التربة ب- الرمال ج- البحار

٢- تأتي الزراعة في الصدارة بين الأنشطة :

أ - السكانية ب- الاجتماعية ج- الرياضية

٣- أكبر حقول النفط في اليابسة مساحة وإنتاجا في العالم هي:

أ - الغوار ب- منيفه ج- العقيق

٤- معظم حقول النفط في المملكة العربية السعودية في المنطقة :

أ - الشرقية ب- الغربية ج- الشمالية

٥- تستعمل مياه الصرف الصحي المعالجة في :

أ - ري المنتزهات ب- الشرب ج- المياه السطحية

١٠

السؤال الرابع:-

ضع الكلمات التالية فيما يناسبها من الفراغات :

(تجارة داخلية - فرص العمل - وجود الآلات - السفانية)

١- بيع السلع والبضائع وشراؤها داخل الوطن يسمى

٢- من فوائد الصناعة توفير

٣- من أهم عوامل نجاح الزراعة

٤- أكبر حقل نفطي بحري في العالم هو حقل

٨

السؤال الخامس :-

أذكر اثنين من أبرز صادرات وطني المملكة العربية السعودية ؟

٢

(انتهت الأسئلة)

تمنياتي للجميع بالتوفيق والنجاح ,,

الدرجة	المصحح	التوقيع	المراجع	التوقيع
٤٠				

رقم الجلوس

اسم الطالب

اختبار مادة الدراسات الاجتماعية للفصل الدراسي الثالث ١٤٤٤ هـ
استعن بالله ثم أجب على جميع الأسئلة التالية

١٦

السؤال الأول :-

ضع علامة (√) امام العبارة الصحيحة وعلامة (×) امام العبارة الخاطئة مما يلي :-

١. كانت الزراعة في صدارة الأنشطة الاقتصادية للسكان قديما ()
٢. تراجعت حرفة الرعي بسبب تدهور المراعي الطبيعية ()
٣. الصناعة هي تحويل المادة الخام الأولية إلى منتج أكثر فائدة للإنسان ()
٤. تعد المناطق الجبلية في جنوب المملكة عامل جذب سياحي ()
٥. تحرص حكومة وطني المملكة العربية السعودية أن تكون قيمة الواردات أعلى من الصادرات ()
٦. تأتي المملكة العربية السعودية في المركز الأول عالميا في احتياطي النفط ()
٧. أسست شركة أرامكو السعودية للعناية بالزراعة ()
٨. قلة المياه تعد من المشكلات الوطنية ()

السؤال الثاني :-

اختر الرقم من العمود (أ) وضعه أمام ما يناسبه من العمود (ب) :

(أ) (ب)

١. التعليم () البيع والشراء ()
٢. المادة الخام () من الصادرات ()
٣. التمور () من مقومات الصناعة ()
٤. التجارة () من الخدمات ()

ابني الغالي باقي الأسئلة في الخلف ...

السؤال الثالث:-

ضع خطا تحت الإجابة الصحيحة ممايلي :

١- من عوامل نجاح الزراعة

أ - التربة ب- الرمال ج- البحار

٢- تأتي الزراعة في الصدارة بين الأنشطة :

أ - السكانية ب- الاجتماعية ج- الرياضية

٣- أكبر حقول النفط في اليابسة مساحة وإنتاجا في العالم هي:

أ - الغوار ب- منيفه ج- العقيق

٤- معظم حقول النفط في المملكة العربية السعودية في المنطقة :

أ - الشرقية ب- الغربية ج- الشمالية

٥- تستعمل مياه الصرف الصحي المعالجة في :

أ - ري المنتزهات ب- الشرب ج- المياه السطحية

١٠

السؤال الرابع:-

ضع الكلمات التالية فيما يناسبها من الفراغات :

(تجارة داخلية - فرص العمل - وجود الآلات - السفانية)

١- بيع السلع والبضائع وشراؤها داخل الوطن يسمى

٢- من فوائد الصناعة توفير

٣- من أهم عوامل نجاح الزراعة

٤- أكبر حقل نفطي بحري في العالم هو حقل

٨

السؤال الخامس :-

أذكر اثنين من أبرز صادرات وطني المملكة العربية السعودية ؟

٢

(انتهت الأسئلة)

تمنياتي للجميع بالتوفيق والنجاح ,,

المادة: الدراسات الاجتماعية
الصف: الخامس الابتدائي
الزمن: ساعة
التاريخ:



المملكة العربية السعودية
وزارة التعليم
الإدارة العامة للتعليم بمنطقة
مدرسة

أسئلة الفصل الدراسي الثالث (الدور الأول) للعام ١٤٤٤ هـ

اسم الطالبة: رقم الجلوس:

الدرجة كتابة	الدرجة بعد المراجعة	المراجع	الدرجة كتابة	الدرجة	المصحح
		التوقيع			التوقيع
	٤٠			٤٠	

السؤال الأول: أ) ضع علامة (√) امام العبارة الصحيحة وعلامة (×) أمام العبارة الخاطئة:

()	تعد المعادن من أهم الثروات الاقتصادية في وطني	(١)
()	تنقسم التجارة في وطني الى داخلية وخارجية	(٢)
()	من أهم صادرات المملكة النفط والتمور	(٣)
()	توزيع السكان في العالم ليس منتظم بل يتفاوت من مكان الى اخر	(٤)
()	يكثر السكان في المدن الساحلية والسهول	(٥)
()	تراجعت حرفة الرعي بسبب انتقال الناس الى المدن	(٦)
()	يبتعد الانسان عن المناطق الاستوائية بسبب ارتفاع رطوبة الجو	(٧)
()	اول من رسم الخرائط البابليون في العراق والفرعنة في مصر	(٨)
()	تعتبر الشمس من الموارد المتجددة في الطبية	(٩)
()	من صور المحافظة على المياه ترشيد استهلاكها	(١٠)
()	بيع السلع والبضائع وشراها داخل الوطن يسمى تجارة خارجية	(١١)
()	تزداد الكثافة السكانية في الجبال الشاهقة والصحاري الجافة	(١٢)
()	يعتبر نبات الأقحوان من النباتات المعمرة	(١٣)
()	المياه الجوفية هي المياه التي تملأ سطح الأرض ولا تحتاج لجهد لاجرائها	(١٤)

(ب) اختاري الإجابة الصحيحة فيما يأتي:

١٤

١	تستعمل مياه الصرف الصحي المعالجة في			
أ	ري المنتزهات	ب	الغسيل	ج
٢	تأتي الزراعة في الصدارة بين الأنشطة			
أ	الأقتصادية	ب	السياحية	ج
٣	هي تحويل المادة الخام الموجودة في الطبيعة للاستفادة منها			
أ	الصناعة	ب	التجارة	ج
٤	من عوامل نجاح الزراعة			
أ	التربة	ب	البحار	ج
٥	من فوائد الصناعة			
أ	توفير فرص العمل	ب	توفير المادة الخام	ج
٦	أكبر حقل بري في العالم هو			
أ	الغوار	ب	منيفة	ج
٧	ينمو نبات التين الشوكي في البيئة			
أ	الجبليّة	ب	الأودية	ج
٨	من امثلة المياة العذبة			
أ	البحار	ب	الانهار	ج
٩	من الموارد الطبيعية الغير متجددة			
أ	الرياح	ب	الحديد	ج
١٠	تسمى النباتات المعمرة			
أ	العشبية	ب	الدائمة	ج
١١	من العوامل البشرية المؤثرة في سكان العالم			
أ	المياه	ب	الاقتصاد	ج
١٢	يسكن في قارة اسيا من سكان العالم نحو			
أ	٤٠٪	ب	٦٠٪	ج
١٣	تشكل قارة			
أ	افريقيا	ب	استراليا	ج
١٤	يقوم على تبادل السلع والمنتجات ويشمل التجارة والخدمات هو			
أ	النشاط الزراعي	ب	النشاط التجاري	ج

السؤال الثاني: أ) أملئ الفراغات بالكلمات المساعدة:

التربة

السفانية

الخرائط الرقمية

تنوع الاعلاف

١) هي الخرائط التي يمكن تحديثها بسهولة

٢) تعمل على تثبيت النبات وتمدها بالعناصر الغذائية اللازمة لنموها

٣) من أساليب تنمية الثروة الحيوانية

٤) اكبر حقل نفطي بحري انتاج في العالم هو

ب) صلي المجموعة (أ) بما يناسبها في المجموعة (ب) باستخدام الأرقام:

(أ)	(ب)
١) هي رسم لسطح الأرض او جزء منه	صيد الأسماك
٢) من أهم المعادن الموجودة في وطني	التعليم والصحة
٣) من أهم الخدمات في وطني	الفضة والنحاس
٤) من أهم الأنشطة الاقتصادية في وطني	الخريطة

السؤال الثالث: أذكرني فقط ٤ من مقومات الصناعة :

- ١-
- ٢-
- ٣-
- ٤-

انتهت الأسئلة
والله الموفق

المادة: الدراسات الاجتماعية
الصف: الخامس الابتدائي
الزمن: ساعة
التاريخ:



المملكة العربية السعودية
وزارة التعليم
الإدارة العامة للتعليم بمنطقة

مدرسة

نموذج إجابة الفصل الدراسي الثالث (الدور الأول) للعام ١٤٤٤ هـ

اسم الطالبة: رقم الجلوس:

الدرجة كتابة	الدرجة بعد المراجعة	المراجع	الدرجة كتابة	الدرجة	المصحح
		التوقيع			التوقيع
	٤٠			٤٠	

السؤال الأول: أ) ضعي علامة (√) امام العبارة الصحيحة وعلامة (×) أمام العبارة الخاطئة:

(صح)	تعد المعادن من أهم الثروات الاقتصادية في وطني	(١)
(صح)	تنقسم التجارة في وطني الى داخلية وخارجية	(٢)
(صح)	من أهم صادرات المملكة النفط والتمور	(٣)
(صح)	توزيع السكان في العالم ليس منتظم بل يتفاوت من مكان الى اخر	(٤)
(صح)	يكثر السكان في المدن الساحلية والسهول	(٥)
(صح)	تراجعت حرفة الرعي بسبب انتقال الناس الى المدن	(٦)
(صح)	يبتعد الانسان عن المناطق الاستوائية بسبب ارتفاع رطوبة الجو	(٧)
(صح)	اول من رسم الخرائط البابليون في العراق والفرعنة في مصر	(٨)
(صح)	تعتبر الشمس من الموارد المتجددة في الطبيعة	(٩)
(صح)	من صور المحافظة على المياه ترشيد استهلاكها	(١٠)
(خطأ)	بيع السلع والبضائع وشراها داخل الوطن يسمى تجارة خارجية	(١١)
(خطأ)	تزداد الكثافة السكانية في الجبال الشاهقة والصحاري الجافة	(١٢)
(خطأ)	يعتبر نبات الأقحوان من النباتات المعمرة	(١٣)
(خطأ)	المياه الجوفية هي المياه التي تملأ سطح الأرض ولا تحتاج لجهد لخراجها	(١٤)

(ب) اختاري الإجابة الصحيحة فيما يأتي:

١٤

١	تستعمل مياه الصرف الصحي المعالجة في			
أ	ري المنتزهات	ب	الغسيل	ج
٢	تأتي الزراعة في الصدارة بين الأنشطة			
أ	الأقتصادية	ب	السياحية	ج
٣	هي تحويل المادة الخام الموجودة في الطبيعة للاستفادة منها			
أ	الصناعة	ب	التجارة	ج
٤	من عوامل نجاح الزراعة			
أ	التربة	ب	البحار	ج
٥	من فوائد الصناعة			
أ	توفير فرص العمل	ب	توفير المادة الخام	ج
٦	أكبر حقل بري في العالم هو			
أ	الغوار	ب	منيفة	ج
٧	ينمو نبات التين الشوكي في البيئة			
أ	الجبليّة	ب	الأودية	ج
٨	من امثلة المياة العذبة			
أ	البحار	ب	الانهار	ج
٩	من الموارد الطبيعية الغير متجددة			
أ	الرياح	ب	الحديد	ج
١٠	تسمى النباتات المعمرة			
أ	العشبية	ب	الدائمة	ج
١١	من العوامل البشرية المؤثرة في سكان العالم			
أ	المياه	ب	الاقتصاد	ج
١٢	يسكن في قارة اسيا من سكان العالم نحو			
أ	٤٠٪	ب	٦٠٪	ج
١٣	تشكل قارة			
أ	افريقيا	ب	استراليا	ج
١٤	يقوم على تبادل السلع والمنتجات ويشمل التجارة والخدمات هو			
أ	النشاط الزراعي	ب	النشاط التجاري	ج

السؤال الثاني: أ) أملئ الفراغات بالكلمات المساعدة:

التربة

السفانية

الخرائط الرقمية

تنوع الاعلاف

١) هي الخرائط التي يمكن تحديثها بسهولة **الخرائط الرقمية**

٢) تعمل على تثبيت النبات وتمدها بالعناصر الغذائية اللازمة لنموها **التربة**

٣) من أساليب تنمية الثروة الحيوانية **تنوع الاعلاف**

٤) اكبر حقل نفطي بحري انتاج في العالم هو **السفانية**

ب) صلي المجموعة (أ) بما يناسبها في المجموعة (ب) باستخدام الأرقام:

(أ)		(ب)
١) هي رسم لسطح الأرض او جزء منه	٤	صيد الأسماك
٢) من أهم المعادن الموجودة في وطني	٣	التعليم والصحة
٣) من أهم الخدمات في وطني	٢	الفضة والنحاس
٤) من أهم الأنشطة الاقتصادية في وطني	١	الخريطة

السؤال الثالث: أذكرني فقط ٤ من مقومات الصناعة :

١ - الأسواق / الكوادر البشرية والخبرة الفنية

٢ - راس المال / وسائل النقل

٣ - المادة الخام / مصادر الطاقة

انتهت الأسئلة

والله الموفق

المادة: الدراسات الاجتماعية
الصف: الخامس الابتدائي
الزمن:
عدد الأوراق: ٤
عدد الأسئلة: ٣



المملكة العربية السعودية
وزارة التعليم
الإدارة العامة للتعليم
المدرسة ب

بسم الله الرحمن الرحيم
أسئلة اختبار مادة الدراسات الاجتماعية الصف الخامس الابتدائي

للعام الدراسي ١٤٤٤هـ

الفصل الدراسي الثالث (الدور الأول)

الاسم :

رقم الجلوس :

اليوم: التاريخ: / / ١٤٤٤هـ

الزمن: المنهج السعودية

المراجعة		المصححة		الدرجة		رقم السؤال
التوقيع	الاسم	التوقيع	الاسم	كتابة	رقمًا	
						السؤال الأول
						السؤال الثاني
						السؤال الثالث
					٤٠	المجموع

التوقيع :

جمعه :

التوقيع :

راجعه :

معلم/ة المادة :
.....

- تعليمات عامة:**
- ✓ استعمل القلم الأزرق فقط.
 - ✓ لا يُسمح بالقلم الأزرق الذي يُمسح.
 - ✓ لا يُسمح باستخدام المرسام ولا الماسح.
 - ✓ أُجيب على جميع الأسئلة على ورقة الأسئلة.

السؤال الأول : ضع دائرة حول الحرف الذي يمثل الاجابة الصحيحة فيما يلي

١٥

١. اكبر حقول النفط في اليابسة مساحة و انتاجا في العالم							
أ	الغوار	ب	السفانية	ج	منيقة	د	بقيق
٢. من أنواع النباتات الحولية							
أ	العرعر	ب	الطلع	ج	الأقحوان	د	السدر
٣. تستعمل مياة الصرف الصحي المعالجة في							
أ	الغسيل	ب	ري المنتزهات	ج	الشرب	د	الإستحمام
٤. هي احدى مقومات الحياة ومن صفاتها مقاومة الجفاف							
أ	النباتات المعمرة	ب	النباتات الحولية	ج	المزارع	د	المنتزهات
٥. من أمثلة المياه الجوفية							
أ	البرك	ب	الانهار	ج	البحيرات	د	الآبار
٦. ينمو نبات التين الشوكي في البيئة							
أ	الجبلية	ب	المستنقعات	ج	الأودية	د	الغابات
٧. تأتي الزراعة في الصدارة بين الأنشطة ...							
أ	الرياضية	ب	السياحية	ج	الاقتصادية	د	الاجتماعية
٨. من فوائد الصناعة							
أ	توفير فرص العمل	ب	توفير المزارع	ج	توفير الأراضي	د	توفير الطاقة
٩. هي حركة البيع والشراء لكافة أنواع السلع							
أ	التجارة	ب	الصناعة	ج	الزراعة	د	الرعي
١٠. من العوامل الطبيعية المؤثرة في توزيع السكان							
أ	تضاريس	ب	النشاط السياسي	ج	النشاط الاقتصادي	د	النشاط الصناعي
١١. المراحل التي يمر بها النفط							
أ	الاستطلاع	ب	التنقيب	ج	حفر الابار	د	جميع ماذكر
١٢. من عوامل نجاح الزراعة في وطني							
أ	التربة	ب	الضرائب	ج	تلوث التربة	د	الرعي الجائر
١٣. الصادرات والواردات تعبر عن							
أ	الصناعة	ب	التجارة الداخلية	ج	التجارة الخارجية	د	الزراعة
١٤. ينمو نبات الأرتي							
أ	الأودية	ب	الرمال	ج	الجبال	د	السهول الساحلية
١٥. هي تحويل المواد الخام الأولية الى مواد أكثر فائدة للإنسان							
أ	الزراعة	ب	التجارة	ج	الرعي	د	الصناعة

السؤال الثاني : ضع علامة ✓ أما العبارة الصحيحة و علامة × أما العبارة الخاطئة

١٥

()	١. تعد الثروة الحيوانية من الموارد الاقتصادية في وطني
()	٢. لا تعمل التربة على تثبيت النبات وتمده بالعناصر الغذائية
()	٣. تسمى النباتات الحولية بالنباتات الموسمية
()	٤. من أسباب قلة الثروة الحيوانية في وطني الاستهلاك الضخم من اللحوم
()	٥. من أساليب المحافظة على الثروة المائية رمي النفايات فيها
()	٦. تنقسم التجارة في وطني الى تجارة داخلية وتجارة خارجية
()	٧. تراجعت حرفة الرعي بسبب استقرار الناس في المدن
()	٨. الصناعة هي تحويل المادة الخام الأولية الى منتج اكثر فائدة للإنسان
()	٩. تزداد الكثافة السكانية في الجبال الشاهقة والصحاري الجافة
()	١٠. التجارة الخارجية هي حركة البيع والشراء داخل الوطن
()	١١. من اهم واردات المملكة العربية السعودية الأجهزة الكهربائية
()	١٢. توزيع السكان في العالم منتظم
()	١٣. اسست شركة ارامكو السعودية للعناية بالزراعة
()	١٤. من اهم صادرات المملكة النفط
()	١٥. تستورد المملكة جميع وسائل النقل ومنها السيارات والطائرات

السؤال الثالث : ضع الكلمات الموجودة في الجدول التالي في الفراغ المناسب

١٠

تنوع الأعلاف	النفط	مياه البحر المحلاة	رأس المال	المياه الجوفية
الرعي	التمور	المواد الغذائية	النباتات الحولية	التضاريس

١. من أساليب تنمية الثروة الحيوانية

٢. تنبت عقب سقوط الأمطار وتتغذى عليها الحيوانات.

٣. هي المياه المنقاة من الأملاح والشوائب.

٤. يسهم تنوع موقع المزارع النباتية.

٥. هي المياه الموجودة في باطن الأرض.

٦. تعتبر زراعة من المحاصيل الزراعية في وطني.

٧. من أهم الأنشطة الاقتصادية في وطني

٨. صناعة من أهم الصناعات في وطني.

٩. من أهم صادرات المملكة العربية السعودية

١٠. من مقومات الصناعة في وطني.

معلم /ة :

انتهت الأسئلة
دعواتي لكم بالتوفيق

المادة: الدراسات الاجتماعية
الصف: الخامس الابتدائي
الزمن:
عدد الأوراق: ٤
عدد الأسئلة: ٣



المملكة العربية السعودية
وزارة التعليم
الإدارة العامة للتعليم
المدرسة ب

بسم الله الرحمن الرحيم
اجابة اختبار مادة الدراسات الاجتماعية الصف الخامس الابتدائي

للعام الدراسي ١٤٤٤هـ

الفصل الدراسي الثالث (الدور الأول)

الاسم :

رقم الجلوس :

اليوم : التاريخ : / / ١٤٤٤هـ

الزمن : المنهج السعودية

المراجعة		المصححة		الدرجة		رقم السؤال
التوقيع	الاسم	التوقيع	الاسم	كتابة	رقمًا	
						السؤال الأول
						السؤال الثاني
						السؤال الثالث
						المجموع
						٤٠

التوقيع :

جمعه :

التوقيع :

راجعه :

معلم/ة المادة :
.....

- تعليمات عامة:**
- ✓ استعمل القلم الأزرق فقط.
 - ✓ لا يُسمح بالقلم الأزرق الذي يُمسح.
 - ✓ لا يُسمح باستخدام المرسام ولا الماسح.
 - ✓ أُجيب على جميع الأسئلة على ورقة الأسئلة.

السؤال الأول : ضع دائرة حول الحرف الذي يمثل الاجابة الصحيحة فيما يلي

١٥

١. اكبر حقول النفط في اليابسة مساحة و انتاجا في العالم							
أ	الغوار	ب	السفانية	ج	منيقة	د	بقيق
٢. من أنواع النباتات الحولية							
أ	العرعر	ب	الطلع	ج	الأقحوان	د	السدر
٣. تستعمل مياة الصرف الصحي المعالجة في							
أ	الغسيل	ب	ري المنتزهات	ج	الشرب	د	الإستحمام
٤. هي احدى مقومات الحياة ومن صفاتها مقاومة الجفاف							
أ	النباتات المعمرة	ب	النباتات الحولية	ج	المزارع	د	المنتزهات
٥. من أمثلة المياه الجوفية							
أ	البرك	ب	الانهار	ج	البحيرات	د	الآبار
٦. ينمو نبات التين الشوكي في البيئة							
أ	الجبلية	ب	المستنقعات	ج	الأودية	د	الغابات
٧. تأتي الزراعة في الصدارة بين الأنشطة ...							
أ	الرياضية	ب	السياحية	ج	الاقتصادية	د	الاجتماعية
٨. من فوائد الصناعة							
أ	توفير فرص العمل	ب	توفير المزارع	ج	توفير الأراضي	د	توفير الطاقة
٩. هي حركة البيع والشراء لكافة أنواع السلع							
أ	التجارة	ب	الصناعة	ج	الزراعة	د	الرعي
١٠. من العوامل الطبيعية المؤثرة في توزيع السكان							
أ	تضاريس	ب	النشاط السياسي	ج	النشاط الاقتصادي	د	النشاط الصناعي
١١. المراحل التي يمر بها النفط							
أ	الاستطلاع	ب	التنقيب	ج	حفر الابار	د	جميع ماذكر
١٢. من عوامل نجاح الزراعة في وطني							
أ	التربة	ب	الضرائب	ج	تلوث التربة	د	الرعي الجائر
١٣. الصادرات والواردات تعبر عن							
أ	الصناعة	ب	التجارة الداخلية	ج	التجارة الخارجية	د	الزراعة
١٤. ينمو نبات الأربي							
أ	الأودية	ب	الرمال	ج	الجبال	د	السهول الساحلية
١٥. هي تحويل المواد الخام الأولية الى مواد أكثر فائدة للإنسان							
أ	الزراعة	ب	التجارة	ج	الرعي	د	الصناعة

السؤال الثاني : ضع علامة ✓ أما العبارة الصحيحة و علامة × أما العبارة الخاطئة

١٥

(صح)	١. تعد الثروة الحيوانية من الموارد الاقتصادية في وطني
(خطأ)	٢. لا تعمل التربة على تثبيت النبات وتمده بالعناصر الغذائية
(صح)	٣. تسمى النباتات الحولية بالنباتات الموسمية
(صح)	٤. من أسباب قلة الثروة الحيوانية في وطني الاستهلاك الضخم من اللحوم
(خطأ)	٥. من أساليب المحافظة على الثروة المائية رمي النفايات فيها
(صح)	٦. تنقسم التجارة في وطني الى تجارة داخلية وتجارة خارجية
(صح)	٧. تراجعت حرفة الرعي بسبب استقرار الناس في المدن
(صح)	٨. الصناعة هي تحويل المادة الخام الأولية الى منتج اكثر فائدة للإنسان
(خطأ)	٩. تزداد الكثافة السكانية في الجبال الشاهقة والصحاري الجافة
(خطأ)	١٠. التجارة الخارجية هي حركة البيع والشراء داخل الوطن
(صح)	١١. من اهم واردات المملكة العربية السعودية الأجهزة الكهربائية
(خطأ)	١٢. توزيع السكان في العالم منتظم
(خطأ)	١٣. اسست شركة ارامكو السعودية للعناية بالزراعة
(صح)	١٤. من اهم صادرات المملكة النفط
(صح)	١٥. تستورد المملكة جميع وسائل النقل ومنها السيارات والطائرات

السؤال الثالث : ضع الكلمات الموجودة في الجدول التالي في الفراغ المناسب

١٠

تنوع الأعلاف	النفط	مياه البحر المحلاة	رأس المال	المياه الجوفية
الرعي	التمور	المواد الغذائية	النباتات الحولية	التضاريس

١. من أساليب تنمية الثروة الحيوانية ... **تنوع الاعلاف**

٢. ... **النباتات الحولية**

٣. **مياه البحر المحلاة**

٤. يسهم تنوع ... **التضاريس**

٥. ... **المياه الجوفية**

٦. تعتبر زراعة ... **التمور**

٧. من أهم الأنشطة الاقتصادية في وطني ... **الرعي**

٨. صناعة ... **المواد الغذائية**

٩. من اهم صادرات المملكة العربية السعودية ... **النفط**

١٠. **راس المال**

معلم /ة :

انتهت الأسئلة
دعواتي لكم بالتوفيق