

تم تحميل هذا الملف من موقع المناهج السعودية



*للحصول على أوراق عمل لجميع الصفوف وجميع المواد اضغط هنا

<https://www.almanahj.com/sa>

[5/sa/com.almanahj//:https](https://www.almanahj.com/sa/5)

* للحصول على أوراق عمل لجميع مواد الصف الخامس اضغط هنا

* للحصول على جميع أوراق الصف الخامس في مادة رياضيات ولجميع الفصول, اضغط هنا

<https://www.almanahj.com/sa/5>

* للحصول على أوراق عمل لجميع مواد الصف الخامس في مادة رياضيات الخاصة بـ اضغط هنا

<https://www.almanahj.com/sa/53>

* لتحميل كتب جميع المواد في جميع الفصول للصف الخامس اضغط هنا

<https://www.almanahj.com/sa/grade5>

[sacourse/me.t//:https](https://www.almanahj.com/sa/course)

للحصول على جميع روابط الصفوف على تلغرام وفيسبوك من قنوات وصفحات: اضغط هنا



التَّهْيئةُ

أجب عن الأسئلة الآتية:

اكتب عددة الأضلاع وعددة الزوايا في كُلِّ شَكْلٍ مِمَّا يَأْتِي: (مهارة سابقة)



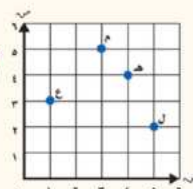
استعمل الشكل أدناه لحل المسألتين ٤، ٥: (مهارة سابقة)



٤ ما الضلع الذي طوله يساوي طول الضلع أ ب؟

٥ ما النقطة التي يلتقي عندها الضلعان ب ج و د ج؟

٦ يريد يوسف أن يرسم مثلثًا له ضلعان متطابقان. ارسم مخططًا لهذا المثلث.




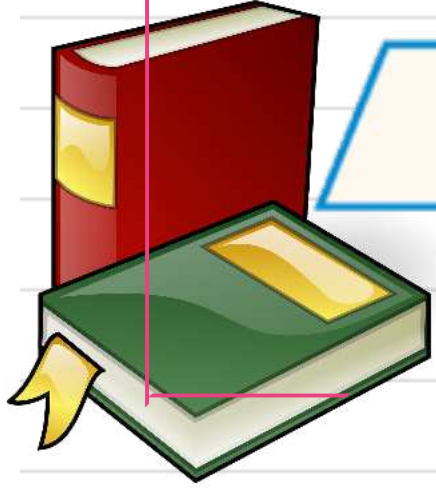
سم الزوج المرتب الذي يمثل كل نقطة من النقاط التالية: (مهارة سابقة)


- ٧ ع
- ٨ م
- ٩ هـ
- ١٠ ل



شريفة الفاسدي
@moth_vip

اكتب عدد الأضلاع وعدد الزوايا في كل شكل مما يأتي: (مهارة سابقة)





استعملِ الشكلَ أدناهُ لحلِّ المسألتينِ ٤ ، ٥ : (مهارة سابقة)



٤ ما الضلعُ الذي طوله يُساوي طولَ الضلعِ أ ب؟

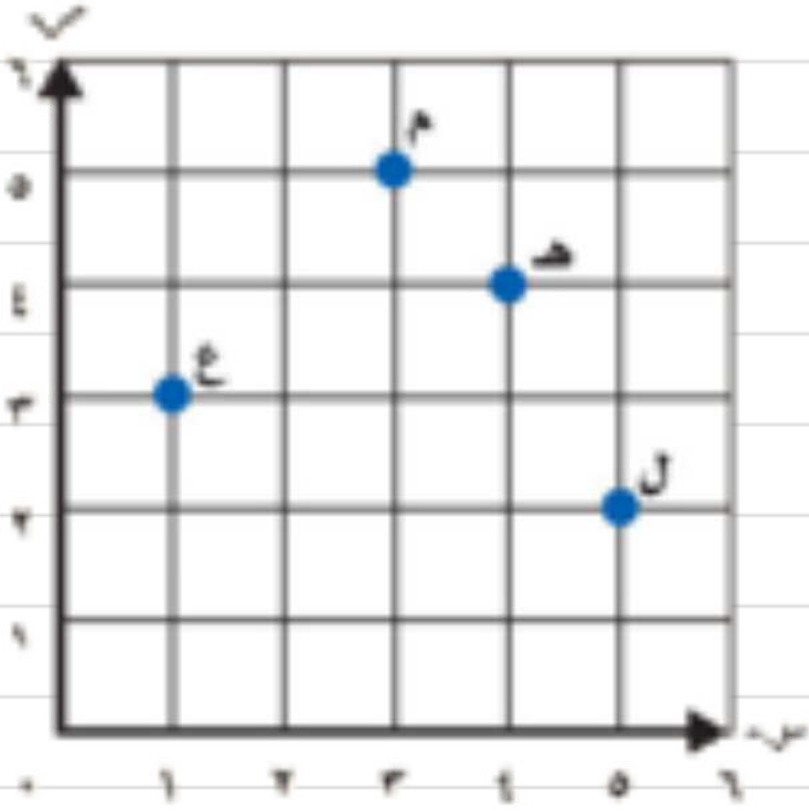
٥ ما النُقطةُ التي يلتقي عندها الضلعانِ ب ج و د ج؟



١ يُريدُ يوسفُ أن يرسمَ مثلًا له ضلعان مُتطابقان. ارسمَ مخططًا لهذا المثلث.



سَمِّ الزَّوْجَ المَرْتَبَ الَّذِي يُمَثِّلُ كُلَّ نَقْطَةٍ مِنَ النِّقَاطِ التَّالِيَةِ: (مَهَارَةٌ سَابِقَةٌ)



م ٨

ع ٧

ل ١٠

هـ ٩

