

تم تحميل هذا الملف من موقع المناهج الإماراتية



\*للحصول على أوراق عمل لجميع الصفوف وجميع المواد اضغط هنا

<https://almanahj.com/sa>

\* للحصول على أوراق عمل لجميع مواد الصف الخامس اضغط هنا

<https://almanahj.com/sa/5>

\* للحصول على جميع أوراق الصف الخامس في مادة رياضيات وجميع الفصول, اضغط هنا

<https://almanahj.com/sa/5>

\* للحصول على أوراق عمل لجميع مواد الصف الخامس في مادة رياضيات الخاصة بـ اضغط هنا

<https://almanahj.com/sa/5>

\* لتحميل كتب جميع المواد في جميع الفصول للـ الصف الخامس اضغط هنا

<https://almanahj.com/sa/grade5>

للتحدث إلى بوت المناهج على تلغرام: اضغط هنا

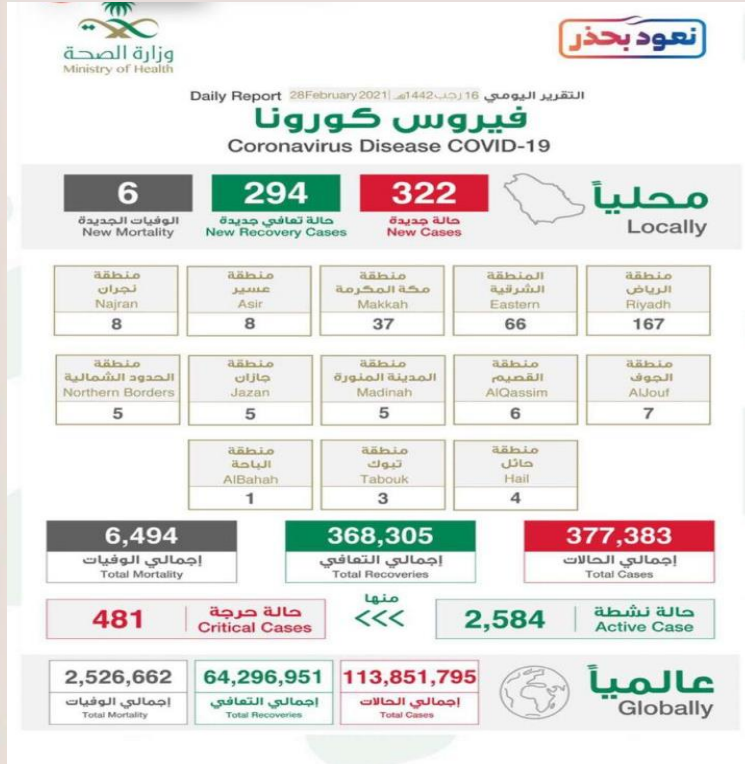
[https://t.me/almanahj\\_bot](https://t.me/almanahj_bot)

# المهمة الأدائية

المادة / رياضيات

الصف / الخامس الابتدائي (أ)

Remember  
you are everything  
I could ever dream  
of and more.



تبين الصورة المجاورة بيانات لعدد الاصابات بفيروس كورونا  
بمختلف مناطق المملكة العربية السعودية  
ليوم الثلاثاء ١٤٤٢/٦/٢٠ هـ

أ: من خلاله أوجدي :

١/ المتوسط الحسابي للبيانات (مبينة خطوات الحل)

٢/ الوسيط للبيانات (مبينة خطوات الحل)

٣/ المنوال

ب- عند وضع جميع الحالات في صندوق وعند اختيار إصابة بشكل عشوائي  
ماهو احتمال

١/ ظهور منطقة الحدود الشمالية

٢/ ظهور منطقة الجوف أو منطقة المدينة المنورة

زمن إنجاز المهمة : أسبوع

# المهمة الأدائية


المادة / رياضيات

الصف / الخامس الابتدائي (أ)

Remember  
you are everything  
I could ever mean  
of and more.

46017

مَثَلُ الَّذِينَ يُنْفِقُونَ أَمْوَالَهُمْ فِي سَبِيلِ اللَّهِ كَمَثَلِ حَبَّةٍ  
أَنْبَتَتْ سَبْعَ سَنَابِلٍ فِي كُلِّ سُنْبُلَةٍ مِائَةٌ حَبَّةٌ وَاللَّهُ يُضَعِفُ  
لِمَنْ يَشَاءُ وَاللَّهُ وَاسِعٌ عَلِيمٌ ﴿٦٧﴾



في هذه الآية ذكر مفردة مضاعف ما معنى هذه المفردة ؟

.....

اكتبي المضاعفات الخمسة الأولى للعدد ٧ ؟

.....

اكتبي قواسم العدد ١٠٠ ؟

.....

هل العدد ١٠٠ أولى أو غير أولى ولماذا ؟

.....

زمن إنجاز المهمة : أسبوع



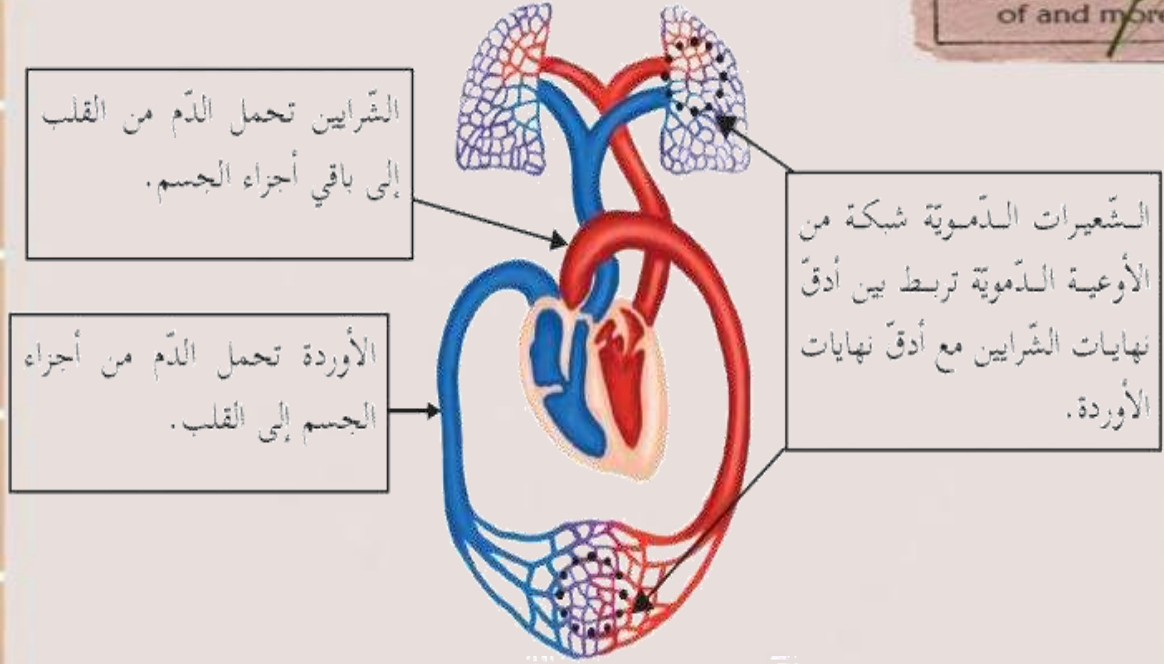


# المهمة الأدائية

المادة / رياضيات

الصف / الخامس الابتدائي (أ)

Remember  
you are everything  
I could ever mean  
of and more.



ما يقارب مدس كمية الدم في الجسم موجودة في الشرايين

وثلاثة ارباع كميته موجودة في الاوردة

١/ اكتب الكسور الموجودة في هذه المعلومة

٢/ كم تزيد كمية الدم في الاوردة

عن كمية الدم في الشرايين

زمن إنجاز المهمة: أسبوع

