

تم تحميل هذا الملف من موقع المناهج السعودية



* للحصول على أوراق عمل لجميع الصفوف وجميع المواد اضغط هنا

<https://www.almanahj.com/sa>

[5/sa/com.almanahj//:https](https://www.almanahj.com/sa/5)

* للحصول على أوراق عمل لجميع مواد الصف الخامس اضغط هنا

* للحصول على جميع أوراق الصف الخامس في مادة رياضيات ولجميع الفصول, اضغط هنا

[https://almanahj.com/sa/5](https://www.almanahj.com/sa/5)

* للحصول على أوراق عمل لجميع مواد الصف الخامس في مادة رياضيات الخاصة بـ اضغط هنا


<https://www.almanahj.com/sa/53>

* لتحميل كتب جميع المواد في جميع الفصول للصف الخامس اضغط هنا

<https://www.almanahj.com/sa/grade5>


[sacourse/me.t//:https](https://www.almanahj.com/sa/course)

للحصول على جميع روابط الصفوف على تلغرام وفيسبوك من قنوات وصفحات: اضغط هنا



الصف الخامس ابتدائي

درس اليوم: تهيئة الفصل الأول القيمة المنزلية



كن نشيطاً وانتبه للدروس

احرص على التعاون مع الجماعة
يد الله مع الجماعة

القوانين الصفية

احترام المعلمة
والزميلات



عدم مقاطعة المعلمة
عندما تتحدث



عدم فتح المايك
بدون إذن



احترام موعد الحصص




رفع اليد عند الإجابة



الاهتمام بالواجبات



التركيز مع الشرح



إحضار الكتاب والقلم
استعدادا للحصّة



محتويات

almanahj.com/sa

درس اليوم

الفكرة العامة

أهداف الفصل

المفردات

فيديو تعريفي

تدريبات الكتاب

أنشطة تفاعلية

الفكرة العامة

مَا الْقِيَمَةُ الْمَنْزِلِيَّةُ؟

الْقِيَمَةُ الْمَنْزِلِيَّةُ: هي القيمة التي يأخذها الرِّقْمُ بحسبِ موقعِهِ في العدد.

الفكرة العامة

مِثَالٌ: يبلغ مجموع أطوال الطُّرُق البرِّيَّةِ في المملكةِ العربيَّةِ السعوديَّةِ ١٧٢٦١٥ كلم.

و**جدول المنازل** أدناه يوضِّحُ القيمةَ المنزليةَ لكلِّ رقمٍ في ذلك العدد.

مثال

جدول المنازل

آحادُ الألوْفِ	عشراتُ الألوْفِ	مئاتُ الألوْفِ	آحادُ الألوْفِ	عشراتُ الألوْفِ	مئاتُ الألوْفِ
٢	٧	١	٦	١	٥



مَاذَا أَتَعَلَّمُ فِي هَذَا الْفَصْلِ؟

- استعمال القيمة المنزلية لقراءة الأعداد وكتابتها ومقارنتها وترتيبها.
- استعمال القيمة المنزلية لقراءة الكُسور العشرية وكتابتها ومقارنتها وترتيبها.
- حلّ المسائل باستعمال خطة التخمين والتحقق.



المفردات

المفردات

الصيغة القياسية

القيمة المنزلية

كسر عشري

الصيغة التحليلية



التهيئة - القيمة المنزلية

الملخص

للمقارنة بين الأعداد نستعمل الإشارات
< أكبر من > أصغر من = يساوي

تتكون الأعداد من منازل

آحاد	عشرات	مئات	آحاد	عشرات	مئات
الألوف	الألوف	الألوف	الألوف	الألوف	الألوف

تمثيل الأعداد على خط الأعداد



[رابط الفيديو هنا](#)



تدريبات التهيئة


اكتب كل عدد مما يأتي بالصيغة اللفظية: (مهارة سابقة)

23 
almanahj.com
المنهج السعودية

371 

15 

160 


8 

44 

FRI	2	7	13	19	25	31
SAT		8	14	20	26	

تدريبات التهيئة

اكتب العدد الذي يُمثّل كل نقطة على خطّ الأعداد فيما يأتي: (مهارة سابقة)



almanahj.com/sa

المنهج السعودية

جـ



هـ



ب



و



أ



د



تدريبات التهيئة

اكتبُ كُلَّ جُمْلَةٍ مِمَّا يَأْتِي مُسْتَعْمِلًا إِحْدَى الْإِشَارَاتِ (< ، > ، =) : (مهارة سابقة)

٢٥ أكبرُ من ١٠



٨ أصغرُ من ١٢



almanahj.com/sa

المنهج السعودية

٤٧١ أكبرُ من ٤٧٠



١٣٦ تساوي ١٣٦



SAT

8 14 20 26

تدريبات التهيئة

في إحدى المُدنِ ليومِ أمسِ بلغتْ دَرَجَةُ الحَرَارَةِ العُظْمَى ٣٨ درجةً سيليزيةً، أما دَرَجَةُ الحَرَارَةِ العُظْمَى لهذا اليومِ فكانتْ ٣٥ درجةً سيليزيةً. اكتبِ الجملةَ « ٣٥ أقلُّ من ٣٨ » مُستعمِلاً إحدى الإشاراتِ

almanahj.com/sa


المنهج السمويّة

(=، >، <). (مهارة سابقة)

THU						
WED	1	6	12	18	24	30
FRI	2	7	13	19	25	31
SAT		8	14	20	26	

✓ لعبة أكبر من وأصغر من

نشاط تفاعلي ١



<https://wordwall.net/play/4133/232/881>



✓ لعبة الصيغة اللفظية لعدد

نشاط تفاعلي




<https://wordwall.net/play/7945/042/363>



✓ ترتيب الأعداد

نشاط تفاعلي ٣



<https://wordwall.net/play/11392/358/5360>



ختاماً

انطلق وحلق نحو النجاح

من يهوى القمم لا يهاب صعود الجبال

