

تم تحميل هذا الملف من موقع المناهج السعودية



*للحصول على أوراق عمل لجميع الصفوف وجميع المواد اضغط هنا

<https://www.almanahj.com/sa>

[5/sa/com.almanahj//:https](https://www.almanahj.com/sa/5)

* للحصول على أوراق عمل لجميع مواد الصف الخامس اضغط هنا

* للحصول على جميع أوراق الصف الخامس في مادة رياضيات ولجميع الفصول, اضغط هنا

<https://www.almanahj.com/sa/5math>

* للحصول على أوراق عمل لجميع مواد الصف الخامس في مادة رياضيات الخاصة بـ الفصل الأول اضغط هنا


<https://www.almanahj.com/sa/5math1>

* لتحميل كتب جميع المواد في جميع الفصول للصف الخامس اضغط هنا

<https://www.almanahj.com/sa/grade5>

[sacourse/me.t//:https](https://www.almanahj.com/sa/course)

للحصول على جميع روابط الصفوف على تلغرام وفيسبوك من قنوات وصفحات: اضغط هنا



عنوان الدرس /
معادلات الضرب

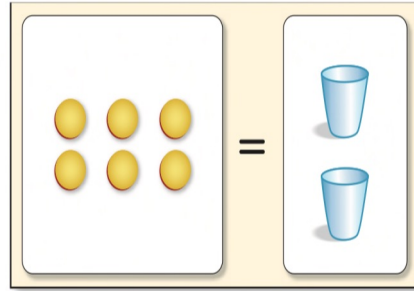
التاريخ /

الحصّة /

الصف /
الخامسة

المادة / رياضيات

اشترت حصة كراستين بمبلغ ٦ ريالات، إذا كانت الكراستان متساويتين في الثمن، فما ثمن الكراسية الواحدة؟



$$6 = 2$$

فكرة الدرس

أكتبُ معادلات الضرب
وأحلها.



تَأْكُدُ



حُلِّ المَعَادَلَاتِ الآتِيَةِ، وَتَحَقَّقْ مِنْ صِحَّةِ الحَلِّ: المَثَلَانِ ٢٠١

٢٤ = ٦ س ٤

٢١ = ٧ س ٣

١٨ = ٣ ت ٢

٨ = ٢ ب ١

تَذَكَّرْ

كلمة أمثالٍ أو أضعافٍ، تَدُلُّ على الضَّرْبِ.

Jan

Feb

Mar

Apr

May

June

July

Aug

Sept

Oct

Nov

Dec

Tab 1

Tab 2

Tab 3

Tab 4

Tab 5

Tab 6



اكتب معادلة ضرب لكل ممّا يأتي، ثم حلّها، وتحقّق من صحّة الحلّ: مثال ٣




٥ عُمرُ ياسرٍ ضعفُ عُمرِ سليمان. إذا كان عُمرُ ياسرٍ ٢٠ عامًا، فكم عُمرُ سليمان؟

٦ حصلَ خمسةُ أصدقاءٍ على مُكافأةٍ مقدارها ٣٠ ريالاً. إذا اقتسم

الأصدقاءُ المُكافأةَ بالتساوي، فما نصيبُ كلِّ منهم؟

٧ تحتاجُ العُرفةُ الواحدةُ إلى ٣ لتراتٍ من الدهان. إذا كان لديك ٢٧ لترًا

من الدهان، فكم عُرفةً تستطيعُ أن تدهنَ، إذا كانت العُرفةُ مُتطابقةً؟



مسائل مهارات التفكير العليا

٢١ مسألة مفتوحة: اكتب مُعادلتِي ضَرْبٍ يكونُ الحُلُّ لِكُلِّ مِنْهُمَا ٩

٢٢ اكتشف المختلف: حدِّدِ المُعادلةَ التي تَخْتَلِفُ عَنِ المُعادلاتِ الثَّلَاثِ الأُخْرَى، وِبَرِّزْ إجابَتَكَ.



$$٦٣ = ن٧$$

$$٥٦ = ٤٩ + ن$$

$$٢١ = ٣ن$$

$$٢٨ = ن - ٣٥$$





الواجب
المذكور في منصة
مدرستي