

تم تحميل هذا الملف من موقع المناهج السعودية



الملف اختبار الفترة السادسة

[موقع المناهج](#) ⇨ [المناهج السعودية](#) ⇨ [الصف الخامس](#) ⇨ [علوم](#) ⇨ [الفصل الثالث](#)

الملف اختبار الفترة السادسة

[موقع المناهج](#) ⇨ [المناهج السعودية](#) ⇨ [الصف الخامس](#) ⇨ [علوم](#) ⇨ [الفصل الثالث](#)

المزيد من الملفات بحسب الصف الخامس والمادة علوم في الفصل الثالث

خريطة مفاهيم لجميع فصول المنهج للفصل الدراسي الثالث	1
اختبار الفترة الخامسة	2
اختبار الفترة الخامسة للفصل الثالث	3
اختبار الفترة الخامسة	4
اختبار الفترة الخامسة	5

اختبار مادة العلوم للصف الخامس الفترة السادسة الفصل الدراسي الثالث لعام ١٤٤٣ هـ

السؤال الأول :-

١٠

أ) نكتب المصطلح العلمي المناسب للعبارات التالية :-

(الشغل - الآلة البسيطة - الطاقة - الرافعة)

١- (.....) قضيب يتحرك حول محور .

٢- (.....) أداة تعمل على تغيير مقدار القوة اللازمة واتجاهها لإنجاز شغل.

٣- (.....) هي المقدرة على إنجاز شغل.

٤- (.....) القوة المبذولة لتحريك جسم ما مسافة معينة

ب) ما هي مؤشرات حدوث التفاعل الكيميائي :-

أ-

ب-

ج) نكمل المعادلة الكيميائية التالية :-

الماء



.....

+

.....



مواد

مواد

يتبع


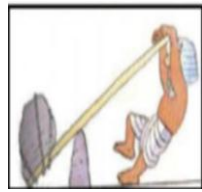
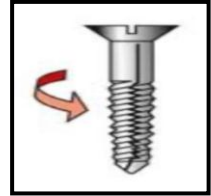

السؤال الثاني :-

أ (نختار الإجابة الصحيحة :-

١٠

١- وحدة قياس الشغل	٢- الطاقة التي تنتج عن حركة الجسم تسمى
أ- الجول	أ- طاقة وضع
ب - جرام	ب - طاقة حركة
ج - اللتر	ج - طاقة سكون
٣- عجلة محيطها غائر يلف حولها حبل	٤- عندما تجتمع آلتين أو أكثر من الآلات البسيطة نحصل على
أ- الوتد	أ- آلة بسيطة
ب - البرغي	ب - آلة مركبة
ج - البكرة	ج - نقطة ارتكاز

ب (من خلال الصور التالية نسمي الآلات البسيطة :-



ج (هل العبارات التالية صحيحة أم خاطئة :-

١- الطاقة لا تفنى ولا تستحدث ولكنها تتحول من شكل لآخر (.....)

٢- في أثناء سقوط الكرة من أعلى فإنها تكتسب طاقة وضع (.....)

انتهت الأسئلة بالتوفيق
معلمة المادة / سكرة الشمري