

تم تحميل هذا الملف من موقع المناهج السعودية



مراجعة الفصل الأول الخلايا النباتية والخلية الحيوانية

[موقع المناهج](#) ← [المناهج السعودية](#) ← [الصف السادس](#) ← [علوم](#) ← [الفصل الأول](#) ← [الملف](#)

تاريخ إضافة الملف على موقع المناهج: 2024-09-13 11:54:53

التواصل الاجتماعي بحسب الصف السادس



اضغط هنا للحصول على جميع روابط "الصف السادس"

المزيد من الملفات بحسب الصف السادس والمادة علوم في الفصل الأول

ورقة عمل درس الانقسام المتساوي والمنصف	1
ورقة عمل درس انقسام الخلايا	2
ملخص منهج الفصل الأول 1446هـ	3
ورقة عمل درس وصف البناء الضوئي والتنفس	4
اختبار تشخيصي في المهارات	5

مراجعة الفصل الأول (الخلايا- الخلية النباتية و الخلية الحيوانية)

الإسم/.....
الصف/.....

ضع-ي المصطلحات التالية أمام ما يناسبها من عبارات:


[الخلية- العضو- العنصر- الجهاز الحيوي- الخاصية الأسموزية- النقل النشط-النواة]

- ١- الوحدة الأساسية للمخلوق الحي .
- ٢- مجموعة من نسيجين مختلفين أو أكثر تعمل معاً للقيام بوظيفة محددة.
- ٣- مادة نقية لا يمكن تجزئتها إلى مواد أبسط منها .
- ٤- مجموعة الأعضاء التي تعمل معاً لأداء وظيفة معينة .
- ٥-انتقال المواد عبر الأغشية مع وجود طاقة.
- ٦- انتقال جزيئات الماء عبر الغشاء البلازمي .
- ٧-مركز التحكم في الخلية .

اختر-ي الإجابة الصحيحة فيم يلي:

<u>أول من شاهد الخلية ووصفها بأنها صناديق...</u>			
أ- روبرت هوك	ب- ليفنهوك	ج - روبرت براون	د- شلايدن
<u>مجموعة من الخلايا المتشابهة تقوم معاً بالوظيفة نفسها</u>			
أ- العضو	ب- الجهاز الحيوي	ج- النسيج	د- الخلية
<u>نسيج ينقل الرسائل في الجسم....</u>			
أ-النسيج العضلي	ب-النسيج العصبي	ج-النسيج الضام	د-النسيج الطلائي
<u>مادة تتكون باتحاد كيميائي بين عنصرين أو أكثر</u>			
أ-العنصر	ب-الجزئيء	ج-المركب	د-الذرة
<u>يتكون الماء من الهيدروجين و الأكسجين . كيف أصنف الماء؟</u>			
أ-مركب	ب- عنصر	ج-ذرة	د-خلية
<u>ما القلب ؟</u>			
أ-نسيج	ب-جهاز	ج-عضو	د-مخلوق حي
<u>أول ما شاهدة ليفنهوك تحت المجهر ؟</u>			
أ-الخلية	ب-المخلوقات وحيدة الخلية	ج-نواة الخلية	د-مخلوقات عديدة الخلايا
<u>تراكيب تشبه الكيس تخزن الماء و الغذاء في الخلية ..</u>			
أ-الميتوكوندريا	ب-الفجوات	ج-النواة	د-السيتوبلازم
<u>عندما يكون تركيز المادة متساوياً على جانبي الغشاء البلازمي فإن المادة تكون في حالة</u>			
أ-اتزان	ب-انتشار	ج-تخمير	د-حركة

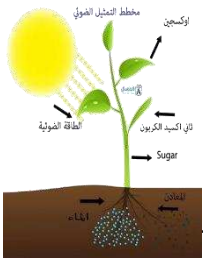
ما مستويات التنظيم في المخلوقات الحية ؟



تضمن نظرية الخلية ثلاث أفكار ، عدد-يها؟

نظرية الخلية	
	*
	*
	*

صح أم خطأ:



- ١- الميتوكوندريا أجسام على شكل عصي تقوم بعملية التنفس الهوائي ().
- ٢- تحتوي النواة على معظم المعلومات الوراثية للخلية ().
- ٣- تحتوي الخلايا الحيوانية على جدار خلوي ().

أكتب-ي معادلة البناء الضوئي؟

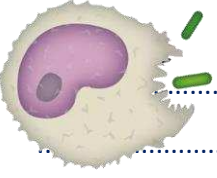
قارن-ي بين عملية البناء الضوئي وعملية التنفس الخلوي؟

عملية التنفس	البناء الضوئي

هناك مواد كبيرة جداً لاتستطيع أن تمر خلال الغشاء البلازمي للخلية كيف حلت الخلية ذلك؟

عن طريق [.....]

وهي



قارن-ي بين الخلية الحيوانية و الخلية النباتية ؟

الخلية النباتية	الخلية الحيوانية	أجزاء الخلية
		النواة
		الميتوكوندريا
		الغشاء الخلوي
		الجدار الخلوي
		البلاستيدات الخضراء
		الكلوروفيل
		الفجوة العصبية
		السييتوبلازم
		الكروموسوم



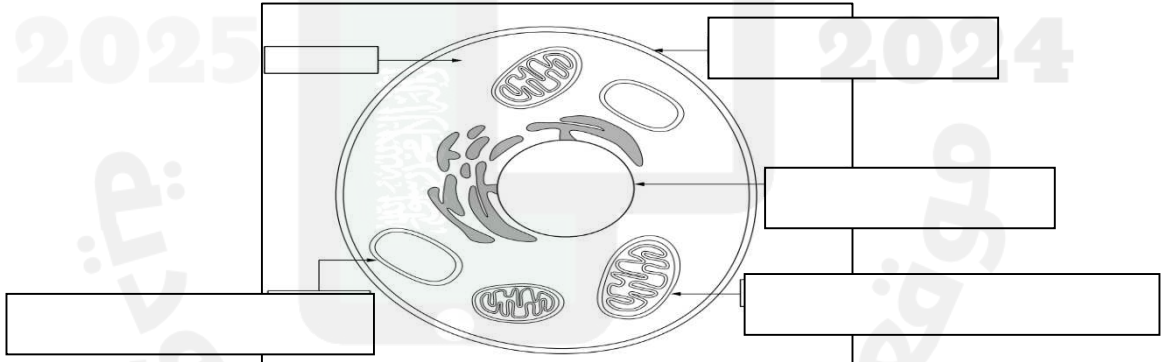
خلية نباتية



خلية حيوانية

أمامك خلية حيوانية ضع-ي التركيب المناسب في الفراغ المناسب

(الفجوة العصبية / ميتوكوندريا / النواة / الغشاء البلازمي)



بالتوفيق و السداد .. كونوا دائماً في القمة

أ/ عبير الجناعي