

تم تحميل هذا الملف من موقع المناهج السعودية



الملف ورقة عمل درس ارتفاع المثلث وقاعدته

[موقع المناهج](#) ← [المناهج السعودية](#) ← [الصف السادس](#) ← [رياضيات](#) ← [الفصل الثاني](#)

الملف ورقة عمل درس ارتفاع المثلث وقاعدته

[موقع المناهج](#) ← [المناهج السعودية](#) ← [الصف السادس](#) ← [رياضيات](#) ← [الفصل الثاني](#)

المزيد من الملفات بحسب الصف السادس والمادة رياضيات في الفصل الثاني

تحميل كتاب الطالب	1
دليل التقويم	2
دليل تقويم	3
دليل تقويم فترة 3	4
دليل تقويم الطالب فترة ثلاثة	5



الاسم :

ورقة عمل في ارتفاع المثلث وقاعدته
للفصل السادس

التاريخ :

• هيا نتذكر تعريف ارتفاع المثلث وقاعدته:

(1) هو العمود النازل من رأس المثلث على الضلع المقابل (القاعدة) أو على امتدادها.

(2) هو ضلع المثلث الذي ينزل عليه الارتفاع، او على امتداده من الرأس المقابل له.

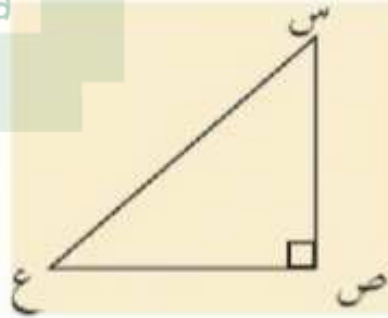
• هيا نكتب القاعدة والارتفاع للمثلثات التالية:

almanahj.com/sa



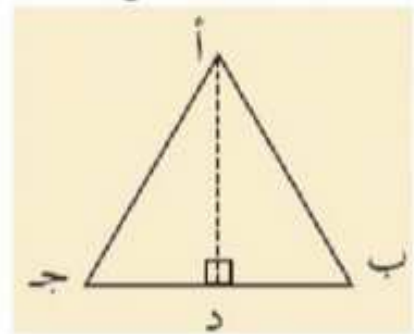
القاعدة :

الارتفاع :



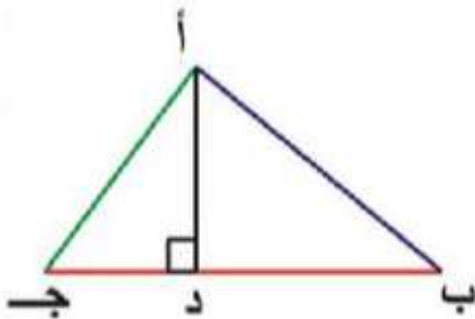
القاعدة :

الارتفاع :



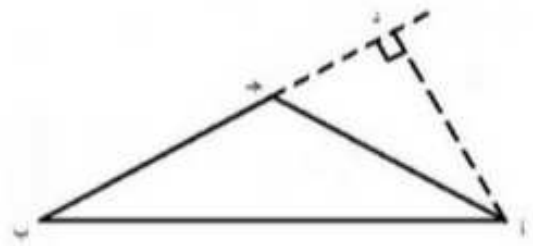
القاعدة :

الارتفاع :



القاعدة :

الارتفاع :



القاعدة :

الارتفاع :

انتهت الأسئلة

معلمة المادة : ضحى أحمد الجواريش

Finish!!