

تم تحميل هذا الملف من موقع المناهج السعودية



أسئلة الاختبار النهائي في تبوك

موقع المناهج ← المناهج السعودية ← الصف السادس ← علوم ← الفصل الثاني ← اختبارات ← الملف

تاريخ إضافة الملف على موقع المناهج: 08:31:28 2025-02-19

ملفات اكتب للمعلم اكتب للطالب الاختبارات الكترونية | اختبارات | حلول | عروض بوربوينت | أوراق عمل
منهج انجليزي | ملخصات و تقارير | مذكرات و بنوك | الامتحان النهائي للمدرس

المزيد من مادة
علوم:

التواصل الاجتماعي بحسب الصف السادس



صفحة المناهج
السعودية على
فيسبوك

الرياضيات

اللغة الانجليزية

اللغة العربية

التربية الاسلامية

المواد على تلغرام

المزيد من الملفات بحسب الصف السادس والمادة علوم في الفصل الثاني

نموذج الإجابة على الاختبار المركزي في الإحساء

1

نموذج أسئلة اختبار مركزي لمنطقة الرياض

2

نموذج اختبار نهائي لمنطقة جدة مجاب بخط اليد


3

نموذج إجابة اختبار نهائي لمنطقة الرياض

4

نموذج إجابة اختبار نهائي لمنطقة جدة

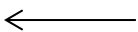
5

 وزارة التعليم Ministry of Education		المملكة العربية السعودية وزارة التعليم الإدارة العامة للتعليم بمحافظة تبوك اسم المدرسة.....		المادة	علوم
				الصف	السادس
عدد الصفحات	٤			الزمن	ساعة ونصف
				التاريخ	
أسئلة اختبار نهاية الفصل الدراسي الثاني (الدور الأول) لعام ١٤٤٦ هـ					

اسم الطالب/ة	اللجنة	رقم الجلوس
--------------	--------	------------

السؤال	الدرجة رقماً	الدرجة كتابة	المصحح/ة	المراجع/ة	المدقق/ة
السؤال (١)					
السؤال (٢)					
السؤال (٣)					
السؤال (٤)					
المجموع					

(١) يتبع



استعن بالله ثم أجب عن الأسئلة التالية:

LQ81

السؤال الأول:	
أ- اكتب كلمة (صح) عند العبارة الصحيحة وكلمة (خطأ) عند العبارة الخاطئة فيما يلي:	درجة السؤال

المستهلكات هي كائنات تتغذى على المنتجات بشكل مباشر	١
تعتبر التندرا و التايجا و الصحراء ذات مناخات قاسية	٢
تربة الأراضي العشبية تعتبر الأكثر خصوبة في العالم	٣
يستخدم المسبار الفضائي لجمع المعلومات المهمة عن الأجرام الفلكية	٤
تعد التربة من الموارد الغير متجددة	٥
عندما يكون القمر محاقاً ينشأ كسوف الشمس الكلي بوقوع القمر بين الشمس و الأرض	٦
تقع معظم الكويكبات بين مداري المريخ و زحل	٧
تتواجد كائنات بحرية تعتمد في التغذي على البناء الضوئي على أعماق تزيد عن خمسمئة متر	٨
يلجأ المهندسون الزراعيون لاستخدام المصاطب كأحدى الطرق للمحافظة على البيئة	٩
تبدأ أطوار القمر بطور المحاق و تنتهي بالهلال الأخير	

السؤال الثاني:	
درجة السؤال	

أ- ضع الكلمة المناسبة في الفراغ المناسب في العبارات الآتية: (الغابات المتساقطة الأوراق ، الأراضي الرطبة ، المنتج ، المستهلك ، الغابات الاستوائية المطيرة ، المنظر الفلكي ، الطاقة الحرارية الجوفية ، النظام الشمسي ، المجموعة النجمية).	
من الأنظمة البيئية ذات المياه العذبة	١
يستعمل العلماء لرؤية الأجرام السماوية بصورة أفضل.	٢
تُعرف مجموعة الكواكب والأقمار والأجسام الأخرى التي تدور حول الشمس بـ	٣
يعتمد المستوى الذي يشغله في السلسلة الغذائية على نوع المخلوق الذي يتغذى عليه.	٤
يمكن تحديد الاتجاهات من خلال معرفة	٥
منطقة حيوية حارة ورطبة وتعيش فيها أكثر المخلوقات الحية تُسمى	٦
من المصادر البديلة عن الوقود الأحفوري لإنتاج الكهرباء وتدفئة المنازل	٧

ب/ عددي القواعد الثلاثة للحفاظ على البيئة :	
١-.....	٢-.....
٣-.....	

(٢) يتبع



السؤال الثالث

أ-ضع دائرة حول الإجابة الصحيحة فيما يلي:

درجة السؤال	
-------------	--

١	ما السبب الذي جعل علماء البيئة الحيوية يضعون المنتجات قاعدة لهرم الطاقة الغذائي
أ	لأنها سريعة النمو
ب	لأنها تدعم المخلوقات الحية الأخرى
ج	لأشكالها المتنوعة
د	لألونها الأخضر

٢	كلما ازددنا عمقا داخل المحيط:
أ	قلت ظلمة الماء وبرودته
ب	زادت ظلمة الماء وبرودته
ج	زادت ظلمة الماء وقلت برودته
د	قلت ظلمة الماء وزادت برودته

٣	المخلوق الحي الذي يكمل السلسلة الغذائية الآتية بشكل صحيح هو: العشب ← ؟ ← الضفدع ← النسر
أ	الحشائش.
ب	الجرادة.
ج	الماعز.
د	النمر.

٤	يبدو القمر دائرة لامعة في السماء كما يشاهد من الأرض عندما يكون في طور:
أ	المحاق.
ب	التربيع الأول.
ج	البدر.
د	الأحدب الأخير.

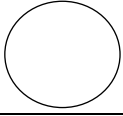
٥	إذا عبرت منطقة توقيت معياري واحدة غربا، فكيف تضبط الوقت في ساعتك؟
أ	تقديمه ساعة واحدة.
ب	تقديمه ساعتين.
ج	تأخيرته ساعة واحدة.
د	تأخيرته ساعتين.

	تشير استهلاك المغذيات في حقل زراعي إلى :
أ	النباتات المستهلكة لها
ب	الحيوانات المستهلكة لها
ج	بطء عمليات تدوير المخلفات العضوية
د	استهلاك الإنسان للنبات

٧	من أهمما يميز الأراضي الرطبة كنظام بيئي أنها: .
أ	فقيرة بالغذاء
ب	تصفي المياه وتزيل الملوثات
ج	آمنه من المفترسات
د	تفتقر للمخلوقات الحية


٨	وصف عالم نظام بيئي عذب بأن مستوى الماء فيه قريب من سطح التربة: .
أ	الجداول
ب	مصبات الأنهار
ج	البرك
د	الأراضي الرطبة

	ب/ تهتم بعض الشركات الحديثة بجمع النفايات و مخلفات الاستخدام البشري ؟ ما الفائدة المرجوة بيئياً من ذلك :
	ج/ تقع بيئات التنديرا فيمن الكرة الأرضية



أ- انقل الحرف من أمام المصطلح العلمي في العمود (ب) أمام المفهوم العلمي المناسب له في العمود (أ) فيما يأتي:

المصطلحات العلمية (ب)		المفاهيم العلمية (أ)	
المد والجزر	أ	ألواح تأخذ الأشعة الشمسية وتقوم بتحويلها لطاقة كهربائية	
الشمس	ب	الظاهرة الكونية الناتجة عن قوتي التجاذب بين الأرض و القمر	
الخلايا الشمسية	ج	اسم النجم الموجود في نظامنا الشمسي	
تقل الجاذبية	د	منظار يستخدم مرآتين أو أكثر لتقريب الأجسام البعيدة لتبدو أقرب	
الجاذبية	هـ	تأثير كتلة الشمس بكتل الكواكب الأقل حجماً	
المنظار الفلكي العاكس	و	القوة التي تربط بين مكونات المجرات	



أكتب وجه التشابه و الاختلاف بين المذنب و الشهب :

التشابه : الإختلاف :

(٤) انتهت الأسئلة

تمنياتنا لكم بالتوفيق