

تم تحميل هذا الملف من موقع المناهج السعودية

almanahj.com/sa
موقع
المناهج السعودية

الملف تدرب على الاختبار فصل الإحصاء والتمثيلات البيانية

موقع المناهج ← المناهج السعودية ← الصف السادس ← رياضيات ← الفصل الثالث

روابط مواقع التواصل الاجتماعي بحسب الصف السادس



روابط مواد الصف السادس على تلغرام

[الرياضيات](#)

[اللغة الانجليزية](#)

[اللغة العربية](#)

[التربية الاسلامية](#)

المزيد من الملفات بحسب الصف السادس والمادة رياضيات في الفصل الثالث

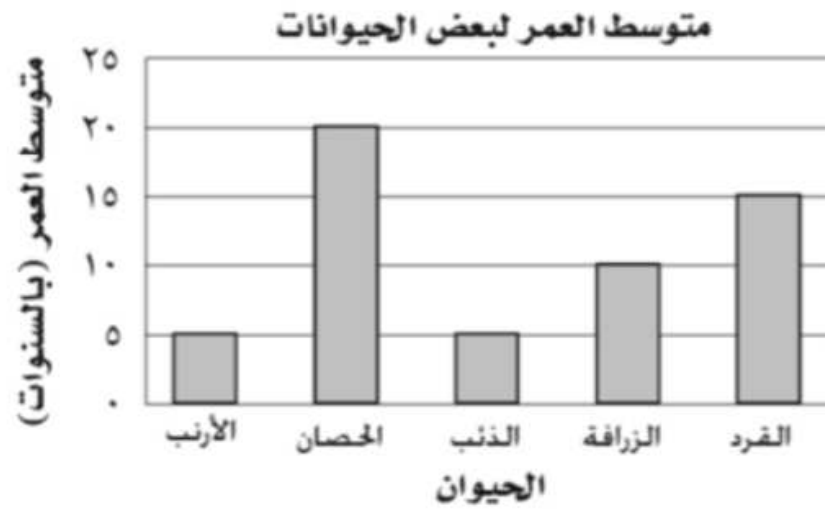
نموذج اختبار نهائي	1
مراجعة نهائية جديدة	2
أسئلة اختبار تحريبي غير محلولة	3
اختبار نموذج 3 نهائي الدوري الأول محلول	4
اختبار نهائي الدوري الأول محلول	5



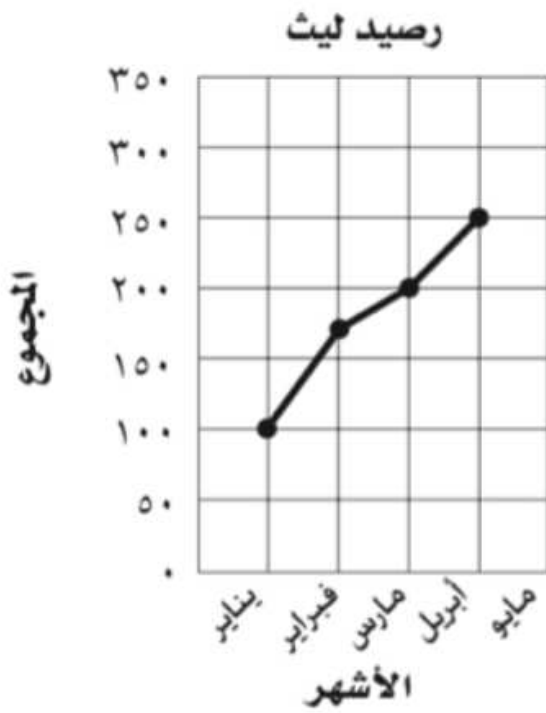
تلفاز: استعمل الجدول أدناه للإجابة عن السؤالين ١، ٢:

عدد المشاهدين لأفلام الكرتون		
الفترة العمرية	الإشارات	التكرارات
٥ - ١		١٠
١٠ - ٦		٨
١٥ - ١١		٤
٢٠ - ١٦		٧

- ١ ما الفترة العمرية الأكثر شيوعاً لمشاهدي أفلام الكرتون؟
 (أ) ٥ - ١ (ب) ١٠ - ٦ (ج) ١٥ - ١١ (د) ٢٠ - ١٦
- ٢ كم شخصاً يشاهد أفلام الكرتون وعمره ١١ سنة فأكثر؟
 (أ) ١٨ (ب) ١٩ (ج) ١١ (د) ٢٩
- حيوانات: استعمل التمثيل بالأعمدة أدناه للإجابة عن السؤالين ٣، ٤:



- ٣ أي الحيوانات متوسط عمرها يساوي متوسط عمر الذئب؟
 (أ) الأرنب (ب) الحصان (ج) الزرافة (د) القرد
- ٤ أي الحيوانات متوسط عمرها يساوي مثلي متوسط عمر الزرافة؟
 (أ) الأرنب (ب) الحصان (ج) الذئب (د) القرد



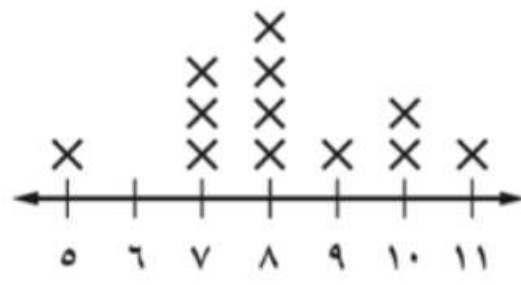
مال: استعمل الشكل المجاور للإجابة عن السؤالين ٥، ٦:

- ٥ ما رصيد ليث في شهر مارس؟
 (أ) ١٠٠ (ب) ١٥٠ (ج) ٢٠٠ (د) ٢٥٠
- ٦ ما أفضل تخمين لرصيد ليث في شهر مايو؟
 (أ) ٢٠٠ (ب) ٢٥٠ (ج) ٣٠٠ (د) ٣٥٠

رياضة: استعمل التمثيل بالنقاط المجاور للإجابة عن السؤالين ٧، ٨:

٧ ما عدد الألعاب التي سجل فيها جميل ٨ نقاط؟

عدد نقاط جميل لكل لعبة



أ) ١ ب) ٢ ج) ٣ د) ٤

٨ ما عدد الألعاب التي سجل فيها جميل أقل من ٦ نقاط؟

أ) ١ ب) ٢ ج) ٣ د) ٤

فراشات: استعمل الجدول المجاور

الذي يمثل عدد الفراشات التي جمعها

محمد للإجابة عن الأسئلة ٩ - ١٢:

اليوم	الاثنين	الثلاثاء	الأربعاء	الخميس	الجمعة
عدد الفراشات	١٠	١٣	١٥	٥٢	١٠

٩ ما المتوسط الحسابي لعدد الفراشات؟

أ) ١٠ ب) ١٢ ج) ١٣ د) ٢٠

١٠ ما الوسيط لعدد الفراشات؟

أ) ١٠ ب) ١٢ ج) ١٣ د) ٢٠

١١ ما المنوال لعدد الفراشات؟

أ) ١٠ ب) ١٢ ج) ١٣ د) ٢٠

١٢ ما المدى لعدد الفراشات؟

أ) ٤٢ ب) ٤٥ ج) ٥٢ د) ٦٢

أسعار أثواب بالريالات

٣٨	٥٠	٣٢	٤٢
٥٠	٣٢	١٠	٥٠

تسوق: استعمل الجدول المجاور للإجابة عن الأسئلة ١٣-١٥:

١٣ ما متوسط الأسعار؟

أ) ٣٨ ب) ٤٠ ج) ٤٢ د) ٥٠

١٤ ما القيمة المتطرفة؟

أ) ٣٨ ب) ١٠ ج) ٤٢ د) ٥٠

١٥ ما متوسط الأسعار دون وجود القيمة المتطرفة؟

أ) ٣٨ ب) ٤٠ ج) ٤٢ د) ٥٠



@moth_vip