

## شكراً لتحميلك هذا الملف من موقع المناهج السعودية



## اختبار قصير تقريب الكسور

[موقع المناهج](#) ⇨ [المناهج السعودية](#) ⇨ [الصف السادس](#) ⇨ [رياضيات](#) ⇨ [الفصل الثاني](#) ⇨ [الملف](#)

تاريخ نشر الملف على موقع المناهج: 14:15:05 2023-01-18

## التواصل الاجتماعي بحسب الصف السادس



## المزيد من الملفات بحسب الصف السادس والمادة رياضيات في الفصل الثاني

<a href="#">نموذج اختبار نهائي</a>	1
<a href="#">مشاركة اختبار نهائي</a>	2
<a href="#">أسئلة اختبار تجريبية لنهائي الدور الأول</a>	3
<a href="#">نموذج إجابة اختبار نهائي الدور الأول</a>	4
<a href="#">اختبار نهائي الدور الأول قابل للتعديل</a>	5



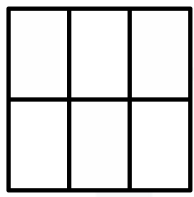
الصف: ٦ /

الاسم:

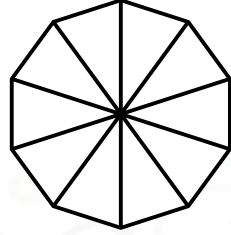


7

السؤال (١): قرب كل كسر باستعمال النماذج إلى أقرب نصف:



$\frac{2}{6}$



$\frac{6}{10}$

السؤال (٢): قرب كلاً مما يأتي إلى أقرب نصف:

$\frac{4}{5}$

$\frac{2}{6}$

$\frac{4}{5}$

السؤال (٣): حدد أيهما أفضل في كلِّ ممَّا يأتي: تقريب العدد إلى أعلى أم إلى أدنى؟

طول دفتر الملاحظات الذي يجب أن يتواءم داخل حافظة دفاتر طولها  $18 \frac{7}{10}$  سمطول ورق التغليف لهدية عرضها  $60 \frac{1}{10}$  سم

6

فصل : العمليات على الكسور العشرية  
@moth\_vip

الدرجة



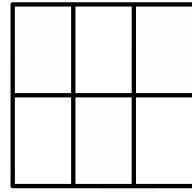
الصف: ٦ /

الاسم:

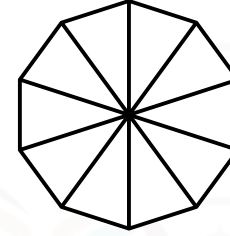


7

السؤال (١): قرب كل كسر باستعمال النماذج إلى أقرب نصف:



$\frac{2}{6}$



$\frac{6}{10}$

السؤال (٢): قرب كلاً مما يأتي إلى أقرب نصف:

$\frac{4}{5}$

$\frac{2}{6}$

$\frac{4}{5}$

السؤال (٣): حدد أيهما أفضل في كلِّ ممَّا يأتي: تقريب العدد إلى أعلى أم إلى أدنى؟

طول دفتر الملاحظات الذي يجب أن يتواءم داخل حافظة دفاتر طولها  $18 \frac{7}{10}$  سمطول ورق التغليف لهدية عرضها  $60 \frac{1}{10}$  سم

6

فصل : العمليات على الكسور العشرية  
@moth\_vip

الدرجة