

تم تحميل هذا الملف من موقع المناهج السعودية



ورقة عمل الدرس الخامس خطة حل المسألة البحث عن نمط

موقع المناهج ← المناهج السعودية ← الصف السادس ← رياضيات ← الفصل الثالث ← أوراق عمل ← الملف

تاريخ إضافة الملف على موقع المناهج: 18:13:04 2025-02-28

ملفات اكتب للمعلم اكتب للطالب الاختبارات الكترونية | اختبارات | حلول | عروض بوربوينت | أوراق عمل
منهج انجليزي | ملخصات وتقارير | مذكرات وبنوك | الامتحان النهائي للمدرس

المزيد من مادة
رياضيات:

التواصل الاجتماعي بحسب الصف السادس



صفحة المناهج
السعودية على
فيسبوك

الرياضيات

اللغة الانجليزية

اللغة العربية

التربية الاسلامية

المواد على تلغرام

المزيد من الملفات بحسب الصف السادس والمادة رياضيات في الفصل الثالث

ورقة عمل درس حل التناسب

1

ورقة عمل درس جداول النسب

2

ورقة عمل النسبة والمعدل

3

عرض بوربوينت اختبار منتصف الفصل النسبة و التناسب

4

تهيئة الفصل السابع النسبة و التناسب

5



٥-٧ خطة حل المسألة البحث عن نمط

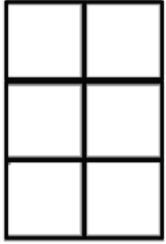
الصف:

الاسم




س١ حل المسألة


استعمل النمط الآتي لإيجاد محيط الشكل الثامن



الشكل ٣



الشكل ٢



الشكل ١

2025

2024

س٢: حل المسألة

صف النمط الآتي، ثم أوجد العدد المجهول

١ ، ٢٠ ، ٤٠٠ ، ، ١٦٠٠٠٠