

تم تحميل هذا الملف من موقع المناهج السعودية



\*للحصول على أوراق عمل لجميع الصفوف وجميع المواد اضغط هنا

<https://www.almanahj.com/sa>

[6/sa/com.almanahj//:https](https://www.almanahj.com/sa/6)

\* للحصول على أوراق عمل لجميع مواد الصف السادس اضغط هنا

\* للحصول على جميع أوراق الصف السادس في مادة رياضيات ولجميع الفصول, اضغط هنا

[https://almanahj.com/sa/6math](https://www.almanahj.com/sa/6math)

\* للحصول على أوراق عمل لجميع مواد الصف السادس في مادة رياضيات الخاصة بـ الفصل الأول اضغط هنا

<https://www.almanahj.com/sa/6math1>

\* لتحميل كتب جميع المواد في جميع الفصول للـ الصف السادس اضغط هنا

<https://www.almanahj.com/sa/grade6>

[sacourse/me.t//:https](https://www.almanahj.com/sa/course)

للحصول على جميع روابط الصفوف على تلغرام وفيسبوك من قنوات وصفحات: اضغط هنا

# ايجاد كل من

الكسر في ايسط صورة

قا سم مشترك الأكبر

مضاعف المشترك الأصغر

## بعملية واحدة

24 36

المطلوب

24

الكسر في ابسط صورة

36

قا سم مشترك الأكبر

مضاعف المشترك الأصغر

2	24	36
2	12	18
3	6	9
	2	3

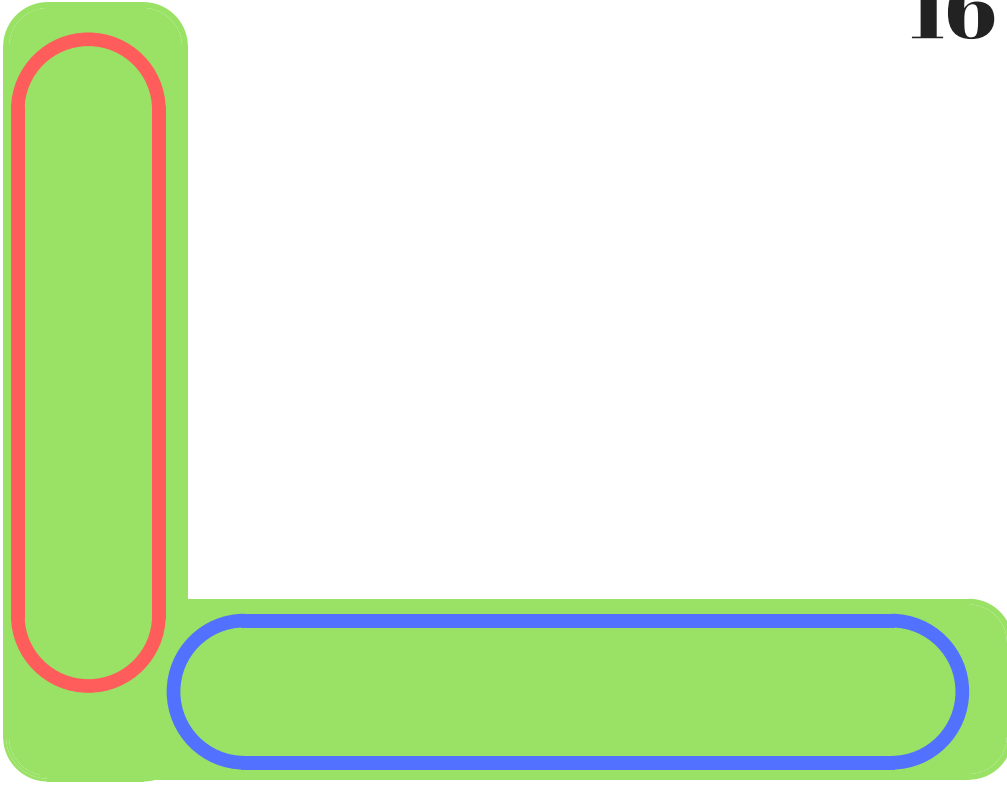
الأعداد في اسفل الشكل تمثل الكسر مبسط  
**الكسر في ابسط صورة**  
 حاصل ضرب الأعداد في يسار الشكل تمثل

**قا سم مشترك الأكبر**  
 $2 \times 2 \times 3 = 12$

حاصل ضرب جميع الأعداد في الشكل تمثل

**مضاعف المشترك الأصغر**

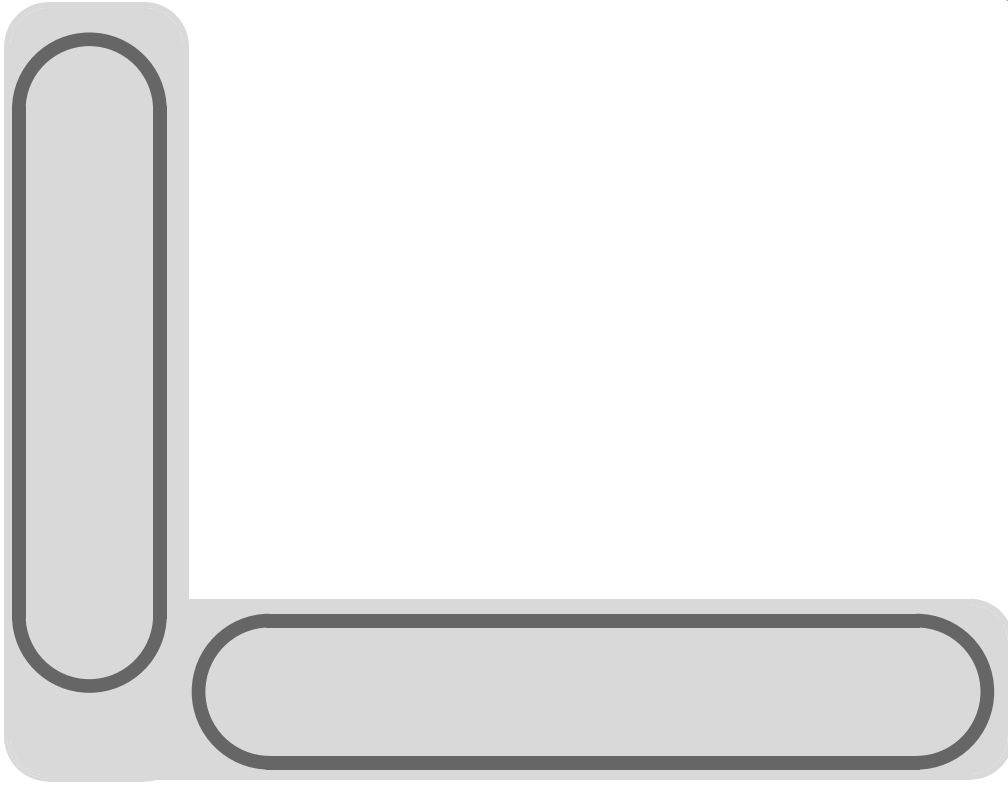
$2 \times 2 \times 3 \times 2 \times 3 = 72$



الكسر في ايسط صورة

قا سم مشترك الأكبر

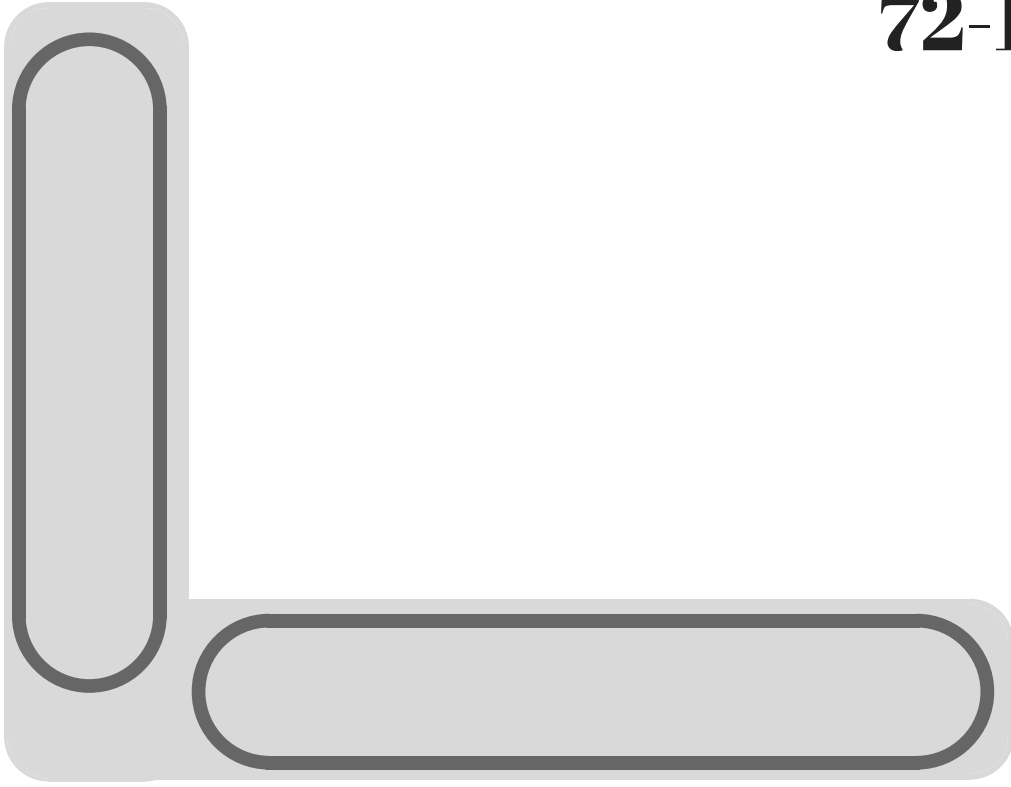
مضاعف المشترك الأصغر



الكسر في ايسط صورة

قا سم مشترك الأكبر

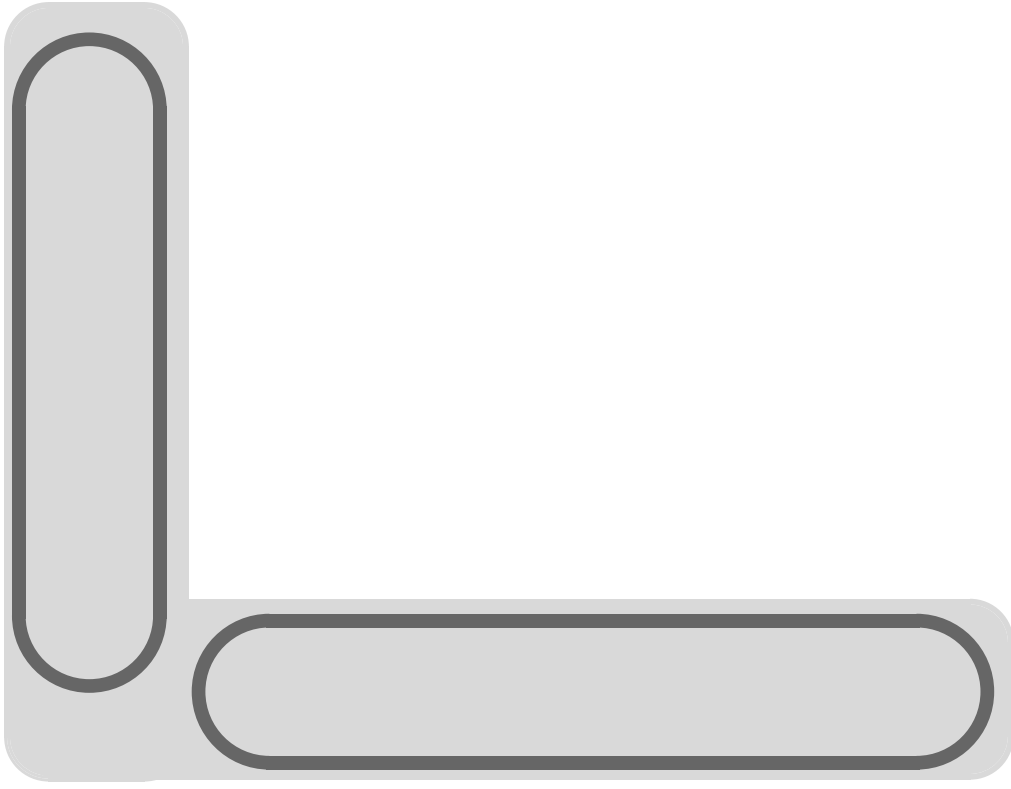
مضاعف المشترك الأصغر



الكسر في ايسط صورة

قا سم مشترك الأكبر

مضاعف المشترك الأصغر

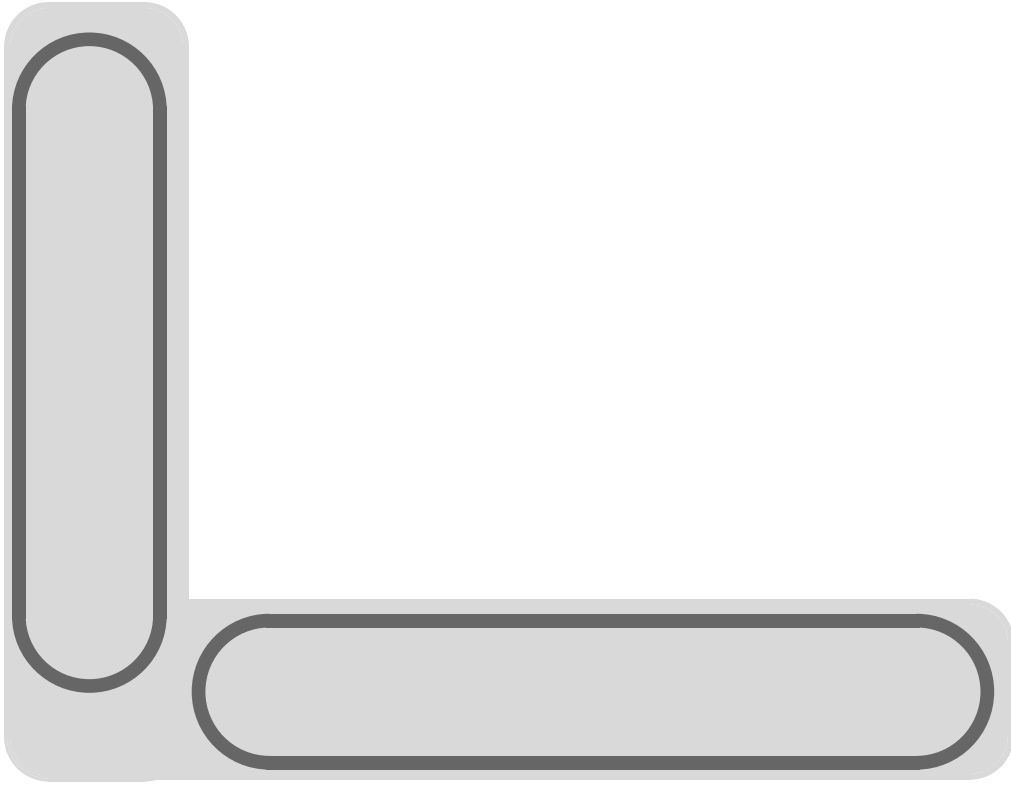


الكسر في ايسط صورة

قا سم مشترك الأكبر

مضاعف المشترك الأصغر



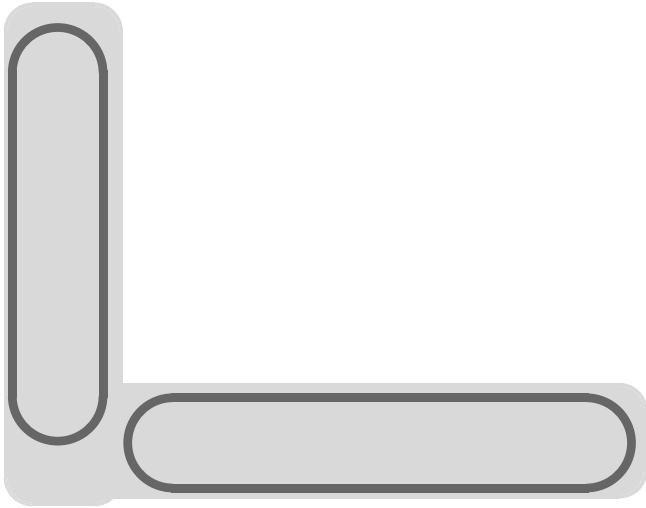


الكسر في ايسط صورة

قا سم مشترك الأكبر

مضاعف المشترك الأصغر

اشترى عمر 30 مصاصة و50 قطعة  
شوكولاته يريد ان يوزع المصاص  
والشوكولاته في اكياس بحيث يكون في  
كل كيس نفس العدد من المصاص  
والشوكولاته  
كم كيس يحتاج وكم عدد كل منهما في  
كل كيس



2	30	50
5	15	25
	3	5

قاسم مشترك الأكبر  $2 \times 3 = 6$

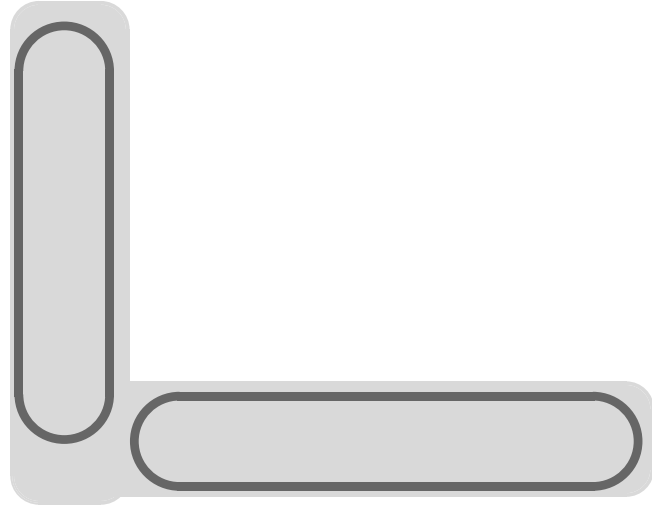
يجب ان يستخدم 10 أكياس

عدد المصاص في كل

كيس  $3 = 30 / 10 =$  مصاصات

في كل كيس و عدد قطع

الشوكلت  $5 = 50 / 10 =$



هند تذهب الى السوق كل 20 يوم  
وفاطمة تذهب كل 30 يوم الى  
السوق اذا تقابلتا اليوم في السوق  
فبعد كام من الايام يتقابلون مرة  
اخرى

2	20	30
5	10	15
	2	3

هند تذهب الى السوق كل 20 يوم  
وفاطمة تذهب كل 30 يوم الى  
السوق اذا تقابلتا اليوم في السوق  
فبعد كام من الايام يتقابلون مرة  
اخرى