

شكراً لتحميلك هذا الملف من موقع المناهج السعودية



ورقة عمل العلاقات بين الزوايا

[موقع المناهج](#) ← [المناهج السعودية](#) ← [الصف السادس](#) ← [رياضيات](#) ← [الفصل الثالث](#) ← [الملف](#)

تاريخ إضافة الملف على موقع المناهج: 2024-05-02 06:28:47

التواصل الاجتماعي بحسب الصف السادس



اضغط هنا للحصول على جميع روابط "الصف السادس"

المزيد من الملفات بحسب الصف السادس والمادة رياضيات في الفصل الثالث

حل ورقة تدريبات حداول النسب	1
اختبار منتصف الفصل الفترة الثالثة	2
نموذج اختبار منتصف الفصل	3
حل نموذج 1 اختبار نافس	4
نموذج 1 اختبار نافس رياضيات	5

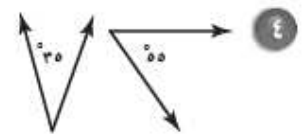
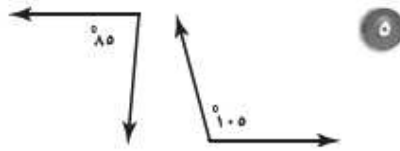
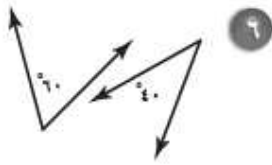
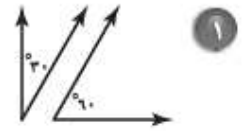
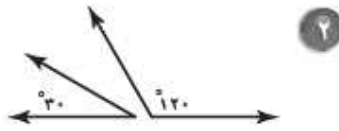
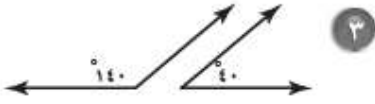
ورقة تدريبات: العلاقات بين الزوايا

التاريخ / / ١٤٤٤ هـ

الصف : السادس

الاسم :

صنّف كلّ من أزواج الزوايا الآتية إلى (متتامتين أو متكاملتين)، أو غير ذلك:



أوجد قيمة x في كلّ من الأشكال الآتية:

