

تم تحميل هذا الملف من موقع المناهج السعودية



جديد أسئلة تأمل الشكل وأجب

موقع المناهج ← المناهج السعودية ← الصف السادس ← علوم ← الفصل الثاني ← ملفات متنوعة ← الملف

تاريخ إضافة الملف على موقع المناهج: 12:36:01 2025-02-06

ملفات اكتب للمعلم اكتب للطالب الاختبارات الكترونية الاختبارات ا حلول ا عروض بوربوينت ا أوراق عمل
منهج انجليزي ا ملخصات وتقارير ا مذكرات وبنوك ا الامتحان النهائي للمدرس

المزيد من مادة
علوم:

التواصل الاجتماعي بحسب الصف السادس



صفحة المناهج
السعودية على
فيسبوك

الرياضيات

اللغة الانجليزية

اللغة العربية

التربية الاسلامية

المواد على تلغرام

المزيد من الملفات بحسب الصف السادس والمادة علوم في الفصل الثاني

أسئلة تعاليل محلولة

1

اختبارات نهائي الدور الأول مرفقة بالإجابات

2

مذكرة واجبات وأنشطة للفصل الدراسي الثاني محلولة

3

تقويم مادة العلوم في الرياض

4


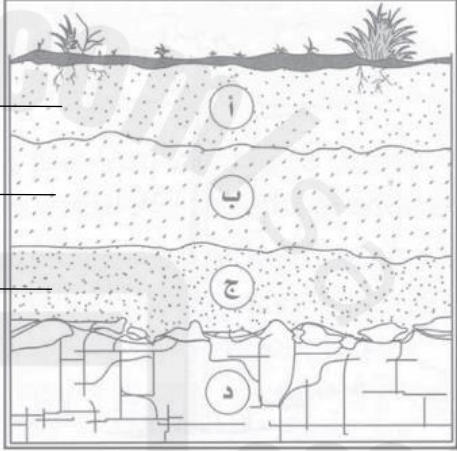

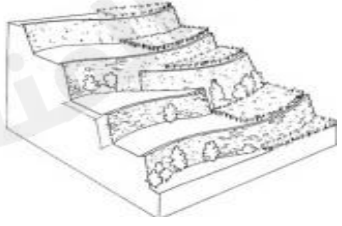
عرض بوربوينت حول درس ما فصول السنة

5



أدرس الشكل وأجيب:

<p>ما أسم الإقليم في الصورة؟</p>	
<p>١- من الشبكة الغذائية أمامك أكتب سلسلة غذائية؟</p> <p>٢- من هو الحيوان الذي لا يتنافس مع الحيوانات الأخرى على الفأر؟</p> <p>٢- أي الحيوانات مفترس؟ وإيها فريسة؟</p>	
<p>١- ما أسم الحيوان في الصورة؟</p> <p>٢ - إلى أي منطقة ينتمي هذا الحيوان في الصورة؟</p>	
<p>١- سمي الشكل؟</p> <p>٢- أكمل الفراغ: تبدأ السلاسل الغذائية في المحيط ب.....</p> <p>٣- فسري: تناقص عدد المخلوقات الحية في قمة الشكل؟</p>	
<p>١- ما لطاقة التي تعتمد عليها في إنتاج الكهرباء؟</p>	

أدرس الشكل وأجيب:


<p>١- أي أنواع النفايات يتم طرحها أكثر؟</p> <p>٢- عددي القواعد الثلاث لحماية الموارد الطبيعية؟</p>	
<p>١- سمي المناطق في الشكل؟</p> <p>٢- ما لمادة الموجودة بشكل أساسي في النطاق أ؟</p>	
<p>١- ماذا يمثل المخطط؟</p> <p>٢- كيف يحافظ على الماء بوصفه موردا طبيعيا؟</p>	
<p>١- أي طرق حفظ التربة في الصورة؟</p>	

أدرس الشكل وأجيب:

<p>١- إذا كانت الساعة السابعة مساءً في الرياض فكم تكون الساعة في مراكش؟</p>	<p>مناطق التوقيت المعياري</p>  <p>لاحظي الرسم وأجيب</p>
<p>١- ما طور القمر في الصورة (٥)؟ ٢- ما لسبب في ظهور فوهات على سطح القمر؟</p>	
<p>١- ما لظاهرة التي تظهر في الصورة؟ ٢- ما سبب هذه الظاهرة؟</p>	
<p>١- ما لظاهرة التي تظهر في الصورة؟ ٢- ما سبب هذه الظاهرة؟</p>	
<p>١- ما نوع المد في الصورة؟ ٢- كم مرة يحدث؟</p>	

١- ما لقوتان اللتان تعملان معا على بقاء الأرض في مدارها حول الشمس؟

٢- أي القوتين تعمل على سحب الأرض نحو الشمس؟



١- سمي كل مجرة في الرسم:

٢- في أي مجرة يوجد النظام الشمسي؟

٣- في أي مجرة يكثر الغبار والغاز؟

١



٢



٣



١- كيف يتغير ذيل المذنب عند اقترابه من الشمس؟

