

شكراً لتحميلك هذا الملف من موقع المناهج السعودية



اختبار قصير جمع الكسور

[موقع المناهج](#) ← [المناهج السعودية](#) ← [الصف السادس](#) ← [رياضيات](#) ← [الفصل الثاني](#) ← [الملف](#)

التواصل الاجتماعي بحسب الصف السادس



روابط مواد الصف السادس على تلغرام

[الرياضيات](#)

[اللغة الانجليزية](#)

[اللغة العربية](#)

[التربية الاسلامية](#)

المزيد من الملفات بحسب الصف السادس والمادة رياضيات في الفصل الثاني

نموذج اختبار نهائي	1
مشاركة اختبار نهائي	2
أسئلة اختبار تحريية لنهائي الدور الأول	3
نموذج إحابة اختبار نهائي الدور الأول	4
اختبار نهائي الدور الأول قابل للتعديل	5



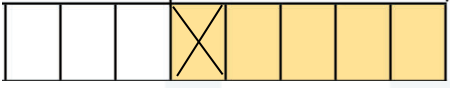
الصف: ٦ /

الاسم:

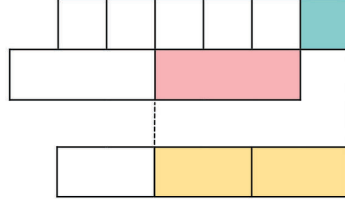


8

السؤال (١): اكتب العبارة الرياضية المناسبة لكل نموذج ، ثم أوجد الناتج في أبسط صورة :



٢



١

السؤال (٢): أجب عما يلي :



١ بكم يزيد $\frac{3}{4}$ كوب ماء على $\frac{1}{4}$ كوب ماء ؟

١

٢ ما قيمة ه+ و إذا كانت ه = $\frac{1}{3}$ ، و = $\frac{3}{5}$ ؟

٢



فصل : العمليات على الكسور الاعتيادية
@moth_vip



الدرجة



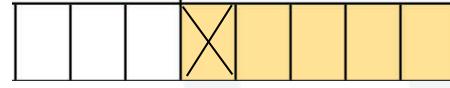
الصف: ٦ /

الاسم:

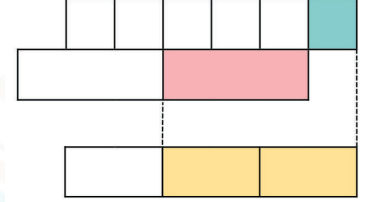


8

السؤال (١): اكتب العبارة الرياضية المناسبة لكل نموذج ، ثم أوجد الناتج في أبسط صورة :



٢



١

السؤال (٢): أجب عما يلي :



١ بكم يزيد $\frac{3}{4}$ كوب ماء على $\frac{1}{4}$ كوب ماء ؟

١

٢ ما قيمة ه+ و إذا كانت ه = $\frac{1}{3}$ ، و = $\frac{3}{5}$ ؟

٢



فصل : العمليات على الكسور الاعتيادية
@moth_vip



الدرجة