

تم تحميل هذا الملف من موقع المناهج السعودية



* للحصول على أوراق عمل لجميع الصفوف وجميع المواد اضغط هنا

<https://www.almanahj.com/sa>

[6/sa/com.almanahj//:https](https://www.almanahj.com/sa/6)

* للحصول على أوراق عمل لجميع مواد الصف السادس اضغط هنا

* للحصول على جميع أوراق الصف السادس في مادة رياضيات ولجميع الفصول, اضغط هنا

<https://www.almanahj.com/sa/6math>

* للحصول على أوراق عمل لجميع مواد الصف السادس في مادة رياضيات الخاصة بـ الفصل الأول اضغط هنا

<https://www.almanahj.com/sa/6math1>

* لتحميل كتب جميع المواد في جميع الفصول للـ الصف السادس اضغط هنا

<https://www.almanahj.com/sa/grade6>

[sacourse/me.t//:https](https://www.almanahj.com/sa/course)

للحصول على جميع روابط الصفوف على تلغرام وفيسبوك من قنوات وصفحات: اضغط هنا



عزيزتي الطالبة:
الاستعداد الجيد
والمبكر لأداء
الاختبارات يزيد من
فرص النجاح والتفوق
ياذن الله
مها العبود



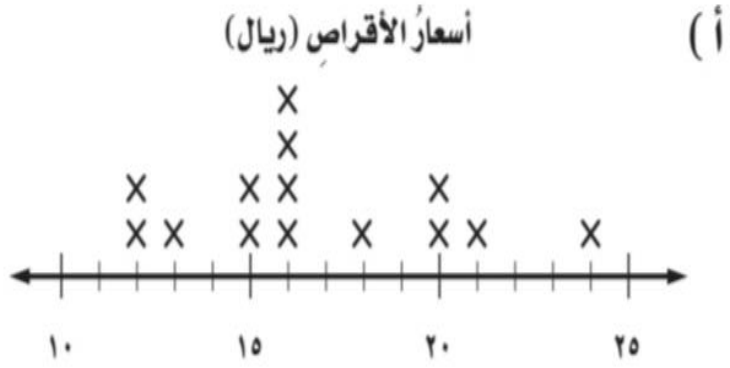
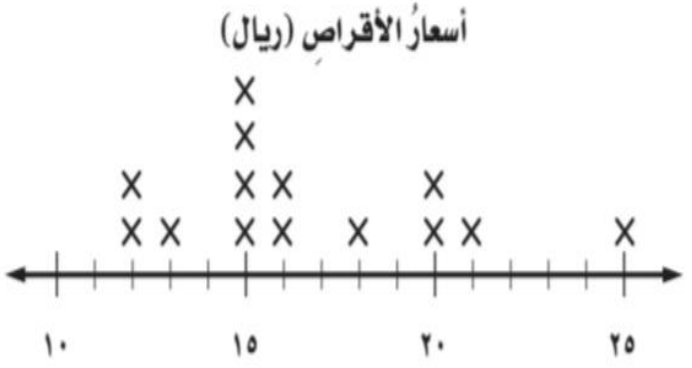
اليوم : الخميس

التاريخ : ٢١ / ٢ / ١٤٤٢

مراجعة سادس الفصل الثاني
الاحصاء والتمثيلات البيانات

١٥	٢١	١٦	١٤	١٨	١٦	٢٤
١٥	١٢	٢٠	٢٠	١٥	١٢	١٥

يبيّن الجدول المتجاور أسعار أنواع مختلفة من الأقراص (الريال)
 التعليمية بالريال. ما التمثيل بالنقاط الذي يمثل هذا الجدول؟




.....

.....

.....

.....

٢٦ يبيِّن الجدولُ بالأعمدةِ أدناه عددَ اللوحاتِ الفنيةِ التي رسمَها فيصلٌ في السنواتِ ١٤٣٥ - ١٤٣٨ هـ.



ما المتوسطُ الحسابيُّ لعددِ اللوحاتِ التي رسمَها فيصلٌ لكلِّ سنةٍ؟

(ج) ١١

(ا) ٩

(د) ١٤

(ب) ١٠

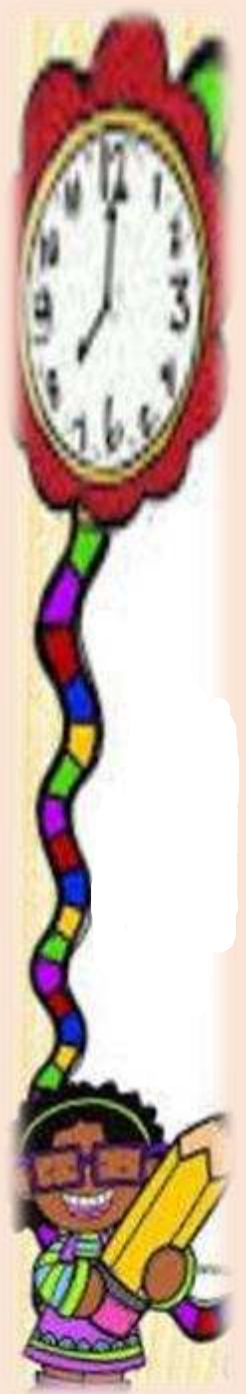
التعريف المهمة

• **الوسيط** : هو العدد الأوسط للبيانات المرتبه من الأصغر إلى الأكبر

• **المنوال** : هو القيمة أو القيم الأكثر تكرارا

• **المدى** : هو أكبر قيمة مطروحة مع الصغر قيمه

• **المتوسط الحسابي** : مجموع من البيانات مقسومه على عددها



أوجد المتوسط الحسابي والوسيط والمنوال والمدى لـ

٤

أسعار كتب الأطفال (بالريال)

٣



Blank area for writing the solution, featuring four horizontal dashed lines.

أوجد الوسيطَ والمنوالَ والمدى لكلِّ مجموعةٍ من البيانات الآتية:

أعمارُ موظِّفينَ: ٢٣، ٢١، ٢٧، ٣٦، ٤٤

Blank area for writing the solution, featuring four horizontal dashed lines.

تعريفات مهمة

- التمثيل بالنقاط: يوضح تكرار البيانات على خط الاعداد وذلك بوضع إشارة X

Click to add text

- التمثيل بالخطوط: يستعمل لتوضيح تغير مجموعة من البيانات مع مرور الزمن

- التمثيل بالاعمده:



تضيع وقتها بين كتبها وامتحاناتها ..
لمن تتعثر وتقاوم حتى تحقق أحلامها
ما أعظم أجرك .. سيفرج همك ..

لكل طالبة

ستفخرين بنجاحك



ثقي بنفسك وابدئي مافي وسعدك وربك لن يخيب أملك