

تم تحميل هذا الملف من موقع المناهج السعودية



*للحصول على أوراق عمل لجميع الصفوف وجميع المواد اضغط هنا

<https://www.almanahj.com/sa>

[6/sa/com.almanahj//:https](https://www.almanahj.com/sa/6)

* للحصول على أوراق عمل لجميع مواد الصف السادس اضغط هنا

* للحصول على جميع أوراق الصف السادس في مادة رياضيات ولجميع الفصول, اضغط هنا

[https://almanahj.com/sa/6](https://www.almanahj.com/sa/6)

* للحصول على أوراق عمل لجميع مواد الصف السادس في مادة رياضيات الخاصة بـ اضغط هنا

<https://www.almanahj.com/sa/63>


* لتحميل كتب جميع المواد في جميع الفصول للصف السادس اضغط هنا

<https://www.almanahj.com/sa/grade6>

[sacourse/me.t//:https](https://www.almanahj.com/sa/course)

للحصول على جميع روابط الصفوف على تلغرام وفيسبوك من قنوات وصفحات: اضغط هنا


الفصل العاشر
القياس : المحيط والمساحة
والحجم



(٦-١٠)
مساحة سطح المنشور



(٤-١٠)
خطة حل المسألة




(٢-١٠)
مساحة متوازي الاضلاع



التعبئة

كان عاماً استثنائياً على العالم لنختبر فيه امكانياتنا وقدراتنا
على تحدي الصعوبات التي واجهتنا
وبالتعاون مع بعضنا البعض استطعنا ان نجتاز و نبدع
بالتعامل مع المواقع الالكترونية.. تعلمنا الكثير والمفيد بعام
واحد.. (الخير يكمن بالشر 🦠)



(٥-١٠)
حجم المنشور الرباعي




(٣-١٠)
معمل القياس




(١-١٠)
معمل القياس



(٦-١٠)
معمل الهندسة



(٣-١٠)
مساحة المثلث



(١-١٠)
محيط الدائرة

ليلي زولي