

تم تحميل هذا الملف من موقع المناهج السعودية

الملف اختبار فصل الإحصاء والتمثيلات البيانية

[موقع المناهج](#) ⇨ [المناهج السعودية](#) ⇨ [الصف السادس](#) ⇨ [رياضيات](#) ⇨ [الفصل الأول](#)

الملف اختبار فصل الإحصاء والتمثيلات البيانية

[موقع المناهج](#) ⇨ [المناهج السعودية](#) ⇨ [الصف السادس](#) ⇨ [رياضيات](#) ⇨ [الفصل الأول](#)

المزيد من الملفات بحسب الصف السادس والمادة رياضيات في الفصل الأول

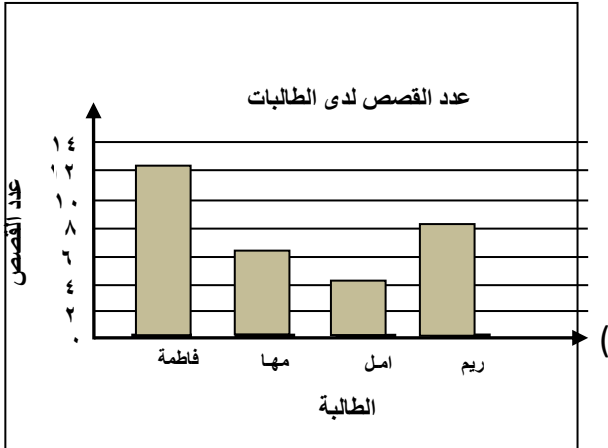
كتاب الطالب	1
دليل المعلم	2
تحميل كتاب الطالب	3
دليل التقويم	4
اختبار تحصيلي رياضيات	5

اسم الطالبة: / الصف السادس /

س١) بالرجوع للبيانات الموضحة أدناه اختاري الاجابة الصحيحة بالتظليل على الحرف الدال عليها
عدد الدقائق التي قضتها عائشة في قراءة القران خلال أسبوع: ٦ / ١٣ / ٢ / ٤ / ٥ / ١٠ / ٢

المتوسط الحسابي للبيانات =			
٩ (د)	٦ (ج)	١٠ (ب)	٤٢ (أ)
الوسيط هو:			
٩ (د)	٥ (ج)	٦ (ب)	٢ (أ)
المنوال للبيانات هو:			
لا يوجد (د)	٩ (ج)	٢ (ب)	١٠ (أ)
المدى للبيانات:			
٨ (د)	١٠ (ج)	٢ (ب)	١١ (أ)

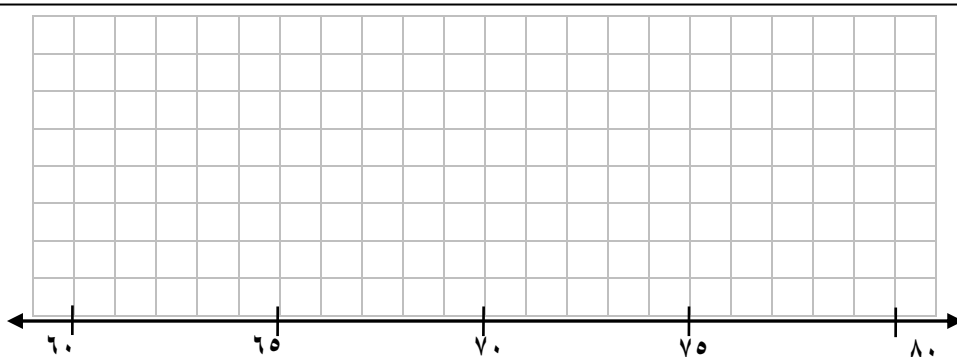
س٢) ضع علامة (✓) أمام الإجابة الصحيحة و علامة (x) أمام الإجابة الخاطئة فيما يلي:



قبل وضع الإشارة حلي السؤال أولاً
أ) من خلال التمثيل بالأعمدة في الشكل المجاور نلاحظ أن عدد القصص التي لدى فاطمة مثلي (ضعف) عدد القصص التي لدى مها. ()

ب) من خلال التمثيل بالأعمدة في الشكل المجاور نجد أن المتوسط الحسابي لعدد القصص لدى الطالبات يساوي ٧. ()

س٣) الجدول التالي يوضح أعداد المتقدمين لعشر وظائف حكومية في إحدى المحافظات مثلي هذه البيانات بالنقاط




عدد المتقدمين للوظائف الحكومية		
٦٦	٦٥	٦٦
٦٥	٦٥	٧٥
٧٨	٦٥	٦٤

توفير سلمى

س ٤ / أ / مثلي البيانات في الجدول أدناه بالخطوط

التوفير الكلي



الاسبوع

توفير سلمى	
التوفير الكلي (بالريالات)	الاسبوع
٥٠	١
٥٤	٢
٧٥	٣
٩٥	٤
١٠٠	٥

ب / اكتبى جملة تصفي فيها توفير سلمى ؟

س ٥ / الجدول الاتي يوضح هوايات طالبات الصف السادس وعددهن ١٨ طالبة.
كم الفرق بين عدد الطالبات الاتي يفضلن هواية الرسم عن هواية القراءة؟

القراءة الشعر. الرسم. القراءة. الرسم. الرسم. الرسم. القاء الشعر. السباحة. السباحة.
الرسم. القراءة. القاء الشعر. الرسم. الرسم. الرسم. السباحة. السباحة.
الرسم. القراءة. القاء الشعر. الرسم.

الهواية	الإشارات	التكرار

انتهت الأسئلة تمنياتي لكن بالتوفيق معلمتك: دلال الجدعاني