

تم تحميل هذا الملف من موقع المناهج السعودية



# موقع المناهج المنهاج السعودي

\* للحصول على أوراق عمل لجميع الصفوف وجميع المواد اضغط هنا

<https://www.almanahj.com/sa>

\* للحصول على أوراق عمل لجميع مواد الصف السادس اضغط هنا

<https://almanahj.com/sa/6>

\* للحصول على جميع أوراق الصف السادس في مادة اجتماعيات ولجميع الفصول, اضغط هنا

<https://almanahj.com/sa/6social>

\* للحصول على أوراق عمل لجميع مواد الصف السادس في مادة اجتماعيات الخاصة بـ الفصل الثاني اضغط هنا

<https://www.almanahj.com/sa/6social2>

\* لتحميل كتب جميع المواد في جميع الفصول للـ الصف السادس اضغط هنا

<https://www.almanahj.com/sa/grade6>

للحصول على جميع روابط الصفوف على تلغرام وفيسبوك من قنوات وصفحات: اضغط هنا

<https://t.me/sacourse>



اسم الطالب : ..... سادس : .....  
السكان في المملكة العربية السعودية

15

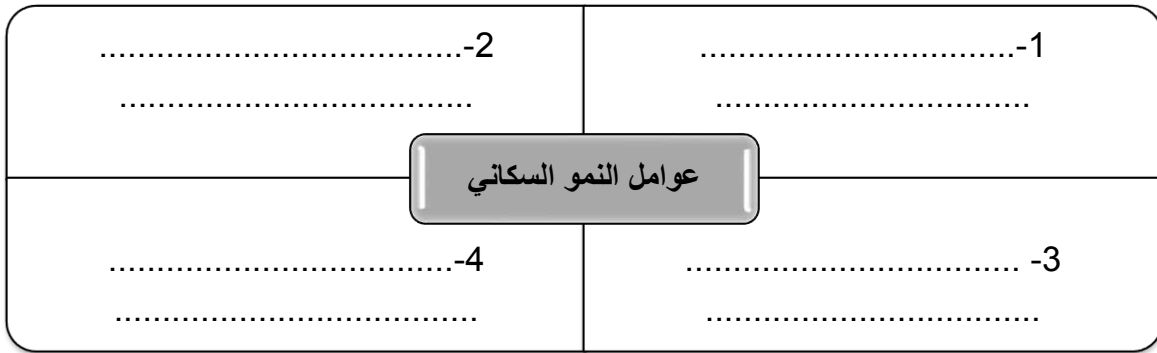
س1 : أكمل الفراغات التالية :

1. آخر تعداد للسكان في وطني كان عام .....
2. يبلغ عدد السكان في وطني .....
3. أكثر مناطق وطني سكاناً منطقة .....

س2/ ما سبب التأخر في تعداد السكان ؟

1. ....

س3 / أكمل الشكل التالي :



س4/ اختر الاجابة الصحيحة لما يلي :

1. أقل مناطق وطني سكاناً منطقة ( عسير - الجوف - الرياض )
2. من العوامل الطبيعية المؤثرة في توزيع السكان ( المناخ - الأنشطة - الهجرة )
3. تصنيف السكان حسب النوع ذكور وإناث هو تركيب ( سكاني - جغرافي - نوعي )
4. اذا كان عمر الانسان ما بين 15 سنة و50 سنة فهو من فئة ( الأطفال - البالغون - الشيوخ )

س5/ اذكر العوامل المؤثرة في التركيب النوعي والعمراني لسكان وطني .

- ❖ .....
- ❖ .....



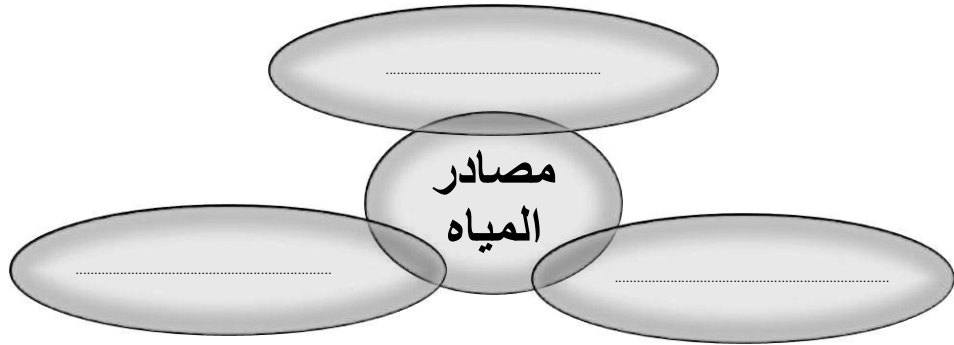
المملكة العربية السعودية

وزارة التربية والتعليم  
مدرسة مسلمة بن عبد

اسم الطالب : ..... سادس : .....

### مصادر المياه والنبات الطبيعي

س1 / أكمل الشكل التالي :



س2 / عرف النبات الطبيعي .

س3 / أجب بوضع علامة ( √ ) او علامة ( x ) لما يلي :

1. ترشيد المياه واجب اسلامي ووطني ( )
2. وطني يبذل جهود كبيرة لتوفير المياه بتحلية مياه البحر ( )
3. يختلف نوع النبات في وطني حسب البيئة التي ينمو فيها ( )

س4 / عدد العوامل المؤثرة في نمو النبات .

..... ❖

..... ❖

..... ❖

س5 / اختر الاجابة الصحيحة مما يلي :

(1) من نباتات البيئة الجبلية { التمام - الطلح - الرمث }



المملكة العربية السعودية

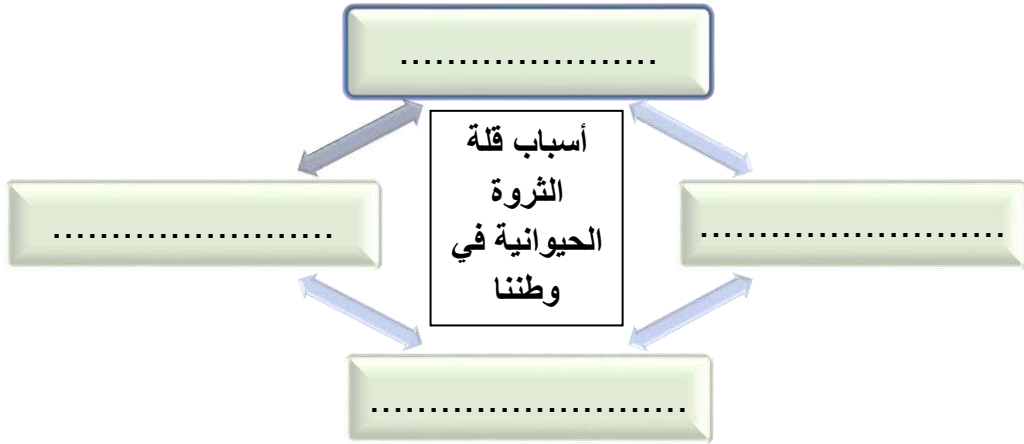
وزارة التربية والتعليم  
مدرسة مسلمة بن عبدا

اسم الطالب : ..... سادس : .....

(2) من نباتات بنية الرمال [ الأرملى - السمر - المراء ]

الثروة الحيوانية والنفط والمعادن

س1/ أكمل الشكل التالي :



س2/ اختر الاجابة الصحيحة مما يلي :

- 1) أكثر حيوانات الثروة الحيوانية في وطننا ( الضان - الابقار - الإبل )
- 2) أهم الموارد في وطننا ( الحيوانات - النفط - السياحة )
- 3) توجد المعادن في الجهات ( الشرقية - الجنوبية - الغربية )

س3 : أذكر ما يلي :

أربعاً من المعادن الموجودة في وطننا	أربعاً من مراحل استخراج النفط
1) .....	1) .....
2) .....	2) .....
3) .....	3) .....



اسم الطالب : ..... سادس : .....

النشاط السكاني

(4)

(4)

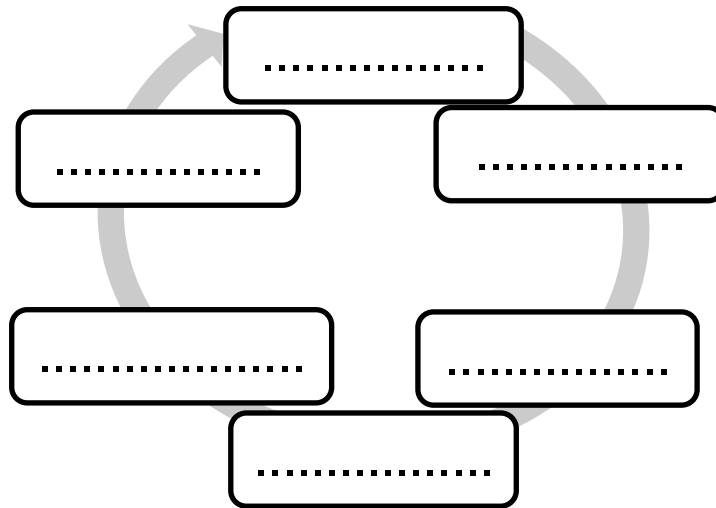
س1 : اختر الاجابة الصحيحة مما يلي :

1. قبل اكتشاف النفط كانت تحتل الصدارة بين الانشطة ( الرعي - الزراعة - الصناعة )
2. من أهم صادرات وطني ( النفط - السيارات - الأدوية )

س2 : أجب بوضع علامة ( √ ) أو علامة ( x ) لما يلي .

- الصناعة تحويل المادة الخام إلى سلعة ( )
- من أهم ما تستورده المملكة التمور ( )

س3 / أكمل الشكل التالي عن مقومات الصناعة .



س4 : اسمي ما يلي :

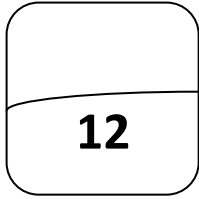
- ❖ الانتقال بحثا عن الماء والكأ يسمى { .....
- ❖ البيع والشراء داخل وطننا يسمى { .....

س5 : أذكر فائدتين من فوائد الصناعة .





### التمية الاجتماعية



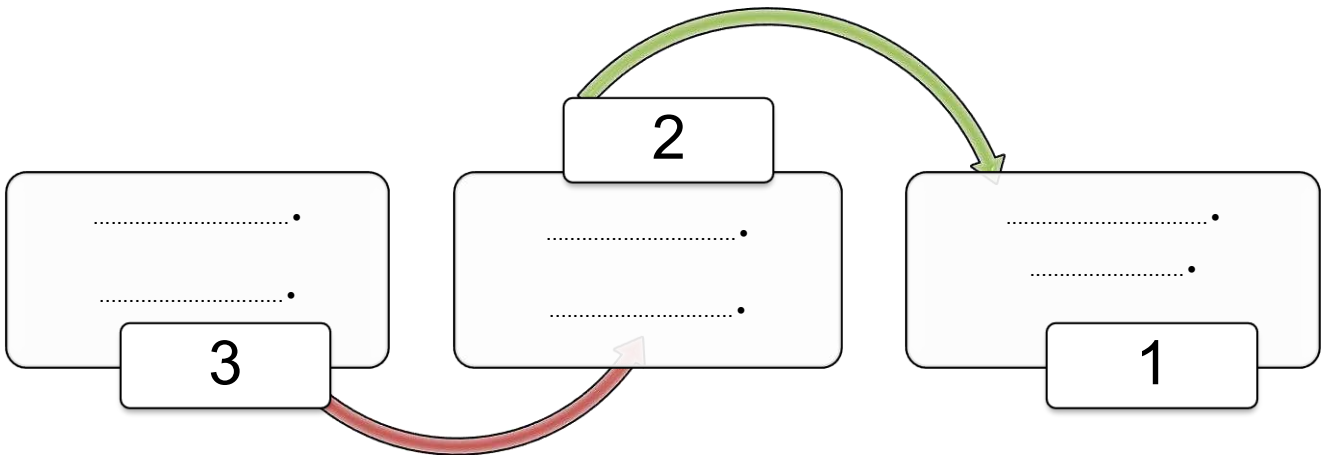
س1 : أكمل الفراغات التالية :

- (1) كان التعليم يتم بطرق قديمة تسمى : .....
- (2) كانت حلقات التعليم تقام في : .....
- وفيهما يدرس .....

س2 : اختار الاجابة الصحيحة مما يلي :

- ❖ أنشئت وزارة التعليم العالي عام ( 1390 هـ - 1392 هـ - 1395 هـ )
- ❖ أول جامعة في المملكة هي جامعة الملك ( سعود - خالد - عبدا الله )
- ❖ أقرب جامعة لمحل إقامتي هي جامعة ( نجران - الامام - القصيم )

س3 : ما الخدمات الاجتماعية التي تقدمها وزارة الشؤون الاجتماعية ؟



س4 : تقدم وزارة الصحة الخدمات الصحية مجاناً للمواطنين من خلال :



المملكة العربية السعودية

وزارة التربية والتعليم  
مدرسة مسلمة بن عبد

اسم الطالب : ..... سادس : .....

(1)

(2)

(3) التنمية الاقتصادية

س1 : اكمل الشكل التالي عن انجازات وزارة الزراعة .

1	.....
2	.....
3	.....

س2 :أكمل الفراغات التالية :

1. يرتبط الانتاج الحيواني بشكل عام بـ .....
2. أهم المدن الصناعية في المملكة مدينة ..... ومدينة .....

س3 : أرسم دائرة حول الكلمة أو العبارة الشاذة مما يلي :

- أ ( الجليل ، ينبع، عرعر) .
- ب (التنمية الصناعية، الضمان الاجتماعي، التنمية الزراعية).
- ج (بناء السدود، رعاية المعاقين، رعاية المسنين).
- د ( مستشفى الملك خالد للعيون ، جمعيات البر الخيرية ، مدينة الملك فهد الطبية ) .





المملكة العربية السعودية

وزارة التربية والتعليم  
مدرسة مسلمة بن عبد

اسم الطالب : ..... سادس : .....

س٢: أصنف الصناعات الآتية حسب المجموعة التي تنتمي إليها في الجدول :  
« طحن الحبوب، الأسمدة، الآلات، البتروكيماويات،  
الألبان، المنسوجات الصوفية»

صناعات معدنية	صناعات كيماوية	صناعات حيوانية	صناعات زراعية

حقوق المواطن

س1 : أكمل الجدول التالي :

11

المهمة	الجهاز
1 ..... 2 .....	الدفاع المدني
1 ..... 2 .....	حرس الحدود

س2 : ما الخدمات التعليمية التي تقدمها الدولة للمواطنين :

..... (1)



المملكة العربية السعودية

وزارة التربية والتعليم  
مدرسة مسلمة بن عباد

اسم الطالب : ..... سادس : .....

(2)

(3)

(4)

س3: أجب بوضع علامة (√) أو علامة (x) لما يلي .

- حكومة وطني ووفرة الرعاية الاجتماعية الشاملة لكل المحتاجين ( )
- حكومة وطني اعطت المواطن حق الصحة في المدن فقط ( )
- ديننا الاسلامي الحنيف يحثنا على التراحم والتكافل الاجتماعي ( )

س1: ما الخطأ في الصور التالية ؟



الصورة (1) .....

الصورة (2) .....

الصورة (3) .....

الصورة (4) .....

س2: كيف نحافظ على أمن الوطن ؟



المملكة العربية السعودية

وزارة التربية والتعليم  
مدرسة مسلمة بن عبد

اسم الطالب : ..... سادس : .....

(1

(2

(3

(4

س3 : اختار الاجابة الصحيحة مما يلي :

❖ من الممتلكات الخاصة ( السيارة - المسجد - المدرسة )

❖ من الممتلكات العامة ( السيارة - البيت - الحديقة )