

تم تحميل هذا الملف من موقع المناهج السعودية



أوراق عمل ختامية

موقع المناهج ← المناهج السعودية ← الصف السادس ← علوم ← الفصل الثاني ← أوراق عمل ← الملف

تاريخ إضافة الملف على موقع المناهج: 12:49:44 2025-02-06

ملفات اكتب للمعلم اكتب للطالب | اختبارات الكترونية | اختبارات | حلول | عروض بوربوينت | أوراق عمل
منهج انجليزي | ملخصات وتقارير | مذكرات وبنوك | الامتحان النهائي للمدرس

المزيد من مادة
علوم:

التواصل الاجتماعي بحسب الصف السادس



صفحة المناهج
السعودية على
فيسبوك

الرياضيات

اللغة الانجليزية

اللغة العربية

التربية الاسلامية

المواد على تلغرام

المزيد من الملفات بحسب الصف السادس والمادة علوم في الفصل الثاني

جديد أسئلة تأمل الشكل وأجب

1

أسئلة تعاليل محلولة

2

اختبارات نهائي الدور الأول مرفقة بالإجابات

3

مذكرة واجبات وأنشطة للفصل الدراسي الثاني محلولة

4

تقويم مادة العلوم في الرياض

5

أوراق عمل

اختاري الإجابة الصحيحة فيما يلي :

١- مخلوقات حية تحصل على غذائها عن طريق قتل مخلوقات حية أخرى هي					
أ	اكلات الاعشاب	ب	المفترسات	ج	المحللات
د	الحيوانات الكانسة				
٢- تتشابه التندرا والتايجا والصحراء ب.....					
أ	لها فصل واحد	ب	مناخها قاسي	ج	مناخها حار
د	مناخها بارد				
٣- تشكل قاعدة الهرم الغذائي.					
أ	المحللات	ب	المفترسات	ج	المستهلكات
د	المنتجات				
٤- الطاقة التي يمكن الحصول عليها من ينابيع المياه الساخنة هي.....					
أ	الطاقة الشمسية	ب	الطاقة الكهرومائية	ج	الطاقة الحرارية الجوفية
د	طاقة الرياح				
٥- من الحيوانات القارئة					
أ	الاسد	ب	الراكون	ج	الحصان
د	العصفور				
٦- الترشيد مصطلح يعني حماية موارد اليابسة والماء ويكون الحفاظ عليها عن طريق					
أ	إعادة الاستخدام	ب	إعادة التدوير	ج	تقليل الاستخدام
د	جميع ما ذكر				
٧- أي الموارد التالية غير متجدد					
أ	الوقود الاحفوري	ب	الماء	ج	الهواء
د	الشمس				
٨- المنطقة الحيوية التي تكثر فيها الأشجار وتتساقط أوراقها في فصل الخريف هي					
أ	التندرا	ب	التايجا	ج	الأرضي العشبية
د	الغابات المتساقطة الأوراق				
٩- أي المخلوقات التالية تمثل مستهلك أولي					
أ	الغزال	ب	الأسد	ج	النمر
د	الثعلب				
١٠- نموذج يمثل مسار انتقال الطاقة في المواد الغذائية من مخلوق حي إلى مخلوق حي آخر					
أ	هرم الطاقة	ب	الشبكة الغذائية	ج	السلسلة الغذائية
د	لاشي مما ذكر				

ضعي الكلمات التالية في مكانها الصحيح :

التربة


المذنب

الكون

المناخ

التلوث

- ١- (.....) متوسط حالة الطقس في منطقة معينة خلال فترة زمنية طويلة.
 - ٢- (.....) خليط من فتات الصخور وأجزاء نباتات ومخلوقات ميتة.
 - ٣- (.....) إضافة مواد ضارة الى التربة او الماء او الهواء.
 - ٤- (.....) جميع الاجرام والكواكب والنجوم والمجرات في الفضاء الشاسع.
- أكملي الفراغات التالية بالعبارات المناسبة ؟




دورة الأرض.....
تستغرق
ينتج عنها

دورة الأرض.....
تستغرق
ينتج عنها

ضعي علامة صح أو خطأ أمام العبارات التالية :

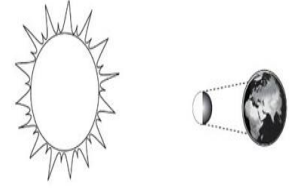
١. الغراب والديدان والعقارب مستهلكات تسمى بالحيوانات الكانسة.	
٢. يسمى النظام البيئي الذي يتكون عند التقاء مياه النهر مع البحر بمصب النهر.	
٣. تعد الأشرطة المتبادلة من طرق حفظ التربة.	
٤. الترشيد وإعادة التدوير من طرق المحافظة على موارد البيئة.	
٥. النموذج الذي يظهر سلاسل غذائية متداخلة يسمى الشبكة الغذائية	
٦. الأرضي العشبية هي مناطق يكون مستوى الماء فيها قريباً من سطح التربة في معظم الأوقات	
٧. عملية تحويل الكتلة الحيوية إلى طاقة تنتج عن المياا الجارية	
٨. الخلية الشمسية أداة تحول أشعة الشمس إلى طاقة كهربائية	
٩. الفرائس هي مخلوقات تصطاد مخلوقات حية أخرى وتقتلها لتحصل على الغذاء	

١٠. البكتريا والديدان والفطريات من المخلوقات المحللة .

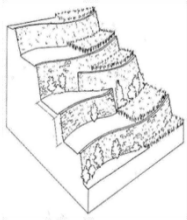


(.....)
 أ (.....)
 ب (.....)
 ج

أكمل الفراغات التالية :



يمثل الشكل المجاور:



الشكل يمثل احدى طرق

حفظ التربة



الشكل يوضح طور من

اطوار القمر








الشكل يوضح إحدى معالم

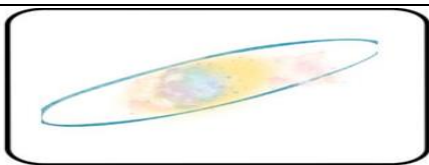
سطح القمر

رتبي السلسلة الغذائية التالية بالشكل الصحيح :


(منتج - مستهلك أول - مستهلك ثاني - مستهلك ثالث - محلل)

				
(.....)	(.....)	(.....)	(.....)	(.....)


قارني بين المجرات من حيث ما يلي (شكلها ومميزاتها)



المجرة الإهليجية



المجرة الغير منتظمة



المجرة اللولبية

1- نطاق التربة الذي يحوي معظم المواد العضوية يسمى.....						
نطاق أ	ب	نطاق ب	ج	نطاق ج	د	نطاق د
2- المدة التي يستغرقها القمر ليكمل جميع أطواره هي.....						
سنة	ب	شهر	ج	يوم	د	يومان
3- ليس من معالم سطح القمر.....						
الجبال	ب	الوادية	ج	الفوهات	د	المحيطات
4- المصدر الرئيسي لمادة الدبال في التربة.....						
الفتات الصخري	ب	الماء	ج	بقايا مخلوقات ميتة	د	الطين
5- ما نوع مجرة درب التبانة؟						
مجرة بدائية	ب	مجرة غير منتظمة	ج	مجرة اهليجية	د	مجرة لولبية

ضعي علامة صح أو خطأ أمام العبارات التالية :

1. تسبب جاذبية القمر والارض حدوث المد والجزر.
2. الطاقة الكهرومائية من مصادر الطاقة الغير متجددة.
3. يفصل بين الكواكب الداخلية والخارجية في النظام الشمسي غلاف جوي.
4. اللون الأصفر يدل على النجوم الأكثر سخونة.
5. تربة الغابات ذات طبقة رقيقة تحوي القليل من الدبال.
6. عطارد هو احد الكواكب الخارجية.

قارني بين الكواكب الداخلية والخارجية من حيث مايلي :

الكواكب الخارجية	الكواكب الداخلية	
		تركيبها
		سرعة الدوران
		وجود الحلقات
		مداراتها

صنفي المخلوقات التالية الحية إلى (مستهلكات - منتجات - محللات)

الفطر - الغزال - الصقر - العشب - الديدان - الأسد

ما الأنظمة البيئية ذات المياه العذبة.....

فسري لماذا تربة الأرض العشبية صالحة للزراعة؟.....

فسري لماذا معظم المناظير الفلكية الكبيرة مناظير عاكسة؟.....

.....فسري سبب حدوث المد والجزر؟

.....فسري سبب حدوث أطوار القمر؟

