


شكراً لتحميلك هذا الملف من موقع المناهج السعودية



## مراجعة خفيفة وشاملة للدروس

[موقع المناهج](#) ← [المناهج السعودية](#) ← [الصف الأول المتوسط](#) ← [رياضيات](#) ← [الفصل الثاني](#) ← [الملف](#)

## التواصل الاجتماعي بحسب الصف الأول المتوسط



## روابط مواد الصف الأول المتوسط على تلغرام

[الرياضيات](#)

[اللغة الانجليزية](#)

[اللغة العربية](#)

[التربية الاسلامية](#)

## المزيد من الملفات بحسب الصف الأول المتوسط والمادة رياضيات في الفصل الثاني

<a href="#">اختبار نهائي الدور الأول</a>	1
<a href="#">مراجعة خفيفة وشاملة للدروس</a>	2
<a href="#">نسخة اختبار نهائي</a>	3
<a href="#">مراجعة الباب الخامس تطبيقات النسبة المئوية</a>	4
<a href="#">اختبار الوحدة الثانية</a>	5

# مراجعة خفيفة ولذبة 2023

## مراجعة الثرم الثاني: رياضيات - أول متوسط

الاسم:

اختر الإجابة الصحيحة:

اكتب نسبة ٢١ بوصة إلى ٣ أقدام على شكل كسر في أبسط صورة.

- (أ)  $\frac{1}{7}$  (ب)  $\frac{7}{12}$  (ج)  $\frac{21}{36}$  (د)  $\frac{5}{7}$

ما معدّل الوحدة عندما تعيش ١٩٢ دجاجة في ٩٦ مترًا مربعًا؟

- (أ) ٠,٥ دجاجة لكل متر مربع (ب) دجاجة لكل متر مربع  
(ج) ١٢ دجاجة لكل متر مربع (د) ٢٥ دجاجة لكل متر مربع

سباق مشي: أكمل الطلاب نصف مسافة السباق عندما قطعوا ٢ كلم، كم تبلغ المسافة الكلية للسباق؟

- (أ) ١ كلم. (ب) ٢ كلم. (ج)  $2\frac{1}{2}$  كلم. (د) ٤ كلم.

حلّ التناسب  $\frac{59}{س} = \frac{118}{13}$

- (أ) ١,٥ (ب) ٦,٥ (ج) ٢٦ (د) ٥٣٥,٥

بناء: بناء ارتفاعه ١٢٠ مترًا، صُنِعَ له نموذج باستعمال المقياس ١ سم = ٦ أمتار، فما ارتفاع النموذج؟

- (أ) ٢٠ سم. (ب) ٦٠ سم. (ج) ٢٠ م. (د) ٦٠ م.

اكتب الكسر العشري ٠,٣٩٩ في صورة نسبة مئوية:

- (أ) ٣٩٩% (ب) ٣٩,٩% (ج) ٣,٩٩% (د) ٠,٠٠٣٩٩%

٩,٢ جرائم = ■ ملجرام:

(أ) ٠,٠٠٩٢ (ب) ٩٢ (ج) ٩٢٠ (د) ٩٢٠٠

أوجد ٣٨٪ من ٢٥٠

(أ) ٠,١٥٢ (ب) ٩٥ (ج) ٦٨٥ (د) ٩٥٠

ما النسبة المئوية لـ ٨ من ٨٠؟

(أ) ٠,١٪ (ب) ١٪ (ج) ١٠٪ (د) ٧٢٪

تم تحميل هذا الملف من  
موقع المناهج السعودية

قدّر كلاً مما يلي:

٢١٪ من ٢٥٠

(أ) ١٠٠ (ب) ١٥٠ (ج) ٥٠ (د) ١٢٥

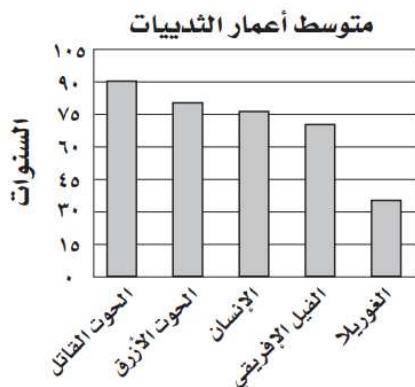
أدوات كهربائية: السعر العادي لمكنسة كهربائية ٦١٥ ريالاً. إذا اشتراها عبد العزيز حين خُفّض سعرها بنسبة ٢٦٪، فقدّر كم ريالاً وفرّ عبد العزيز؟

(أ) ٢٦ ريالاً (ب) ١٥٠ ريالاً (ج) ١٧٥ ريالاً (د) ٥٨٩ ريالاً

أوجد السعر الجديد

معطف قيمته ٢٠٠ ريال، ونسبة التخفيض ٢٥٪.

(أ) ٥٠ (ب) ١٥٠ (ج) ١٧٥ (د) ٢٥٠



ثدييات: استعمل التمثيل بالأعمدة المجاور الذي يبيّن متوسط أعمار أطول الثدييات عمراً؛ لحلّ السؤالين

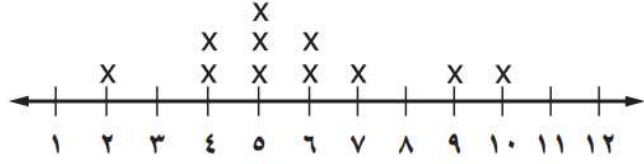
أي هذه الثدييات أطول عمراً؟

(أ) الغوريلا (ب) الإنسان

(ج) الحوت القاتل (د) الحوت الأزرق

استعمل التمثيل بالنقاط أدناه لحل الأسئلة :

عدد الكتب التي قرأها مجموعة من الطلاب



ما مدى البيانات؟

(د) ٣

(ج) ٥

(ب) ٨

(أ) ١٠

ما المنوال؟

(د) ٣

(ج) ٥

(ب) ٩

(أ) ١٠

أي مما يأتي تصف الفجوات للبيانات؟

(د) ١-١٠

(ج) ٤-٩

(ب) ٤-٧

(أ) ٢-٤

أي مما يأتي تظهر التجمع للبيانات؟

(د) ١-١٠

(ج) ٤-٩

(ب) ٤-٧

(أ) ١-٤