

تم تحميل هذا الملف من موقع المناهج السعودية

almanahj.com/sa

موقع المناهج السعودية

*للحصول على أوراق عمل لجميع الصفوف وجميع المواد اضغط هنا

<https://www.almanahj.com/sa>

* للحصول على أوراق عمل لجميع مواد الصف الأول المتوسط اضغط هنا

<https://almanahj.com/sa/7>

* للحصول على جميع أوراق الصف الأول المتوسط في مادة رياضيات ولجميع الفصول, اضغط هنا

<https://almanahj.com/sa/7>

* للحصول على أوراق عمل لجميع مواد الصف الأول المتوسط في مادة رياضيات الخاصة بـ اضغط هنا

<https://www.almanahj.com/sa/73>

* لتحميل كتب جميع المواد في جميع الفصول للصف الأول المتوسط اضغط هنا

<https://www.almanahj.com/sa/grade7>

للحصول على جميع روابط الصفوف على تلغرام وفيسبوك من قنوات وصفحات: اضغط هنا <https://me.t://https>

(ورقة عمل تفاعلية)

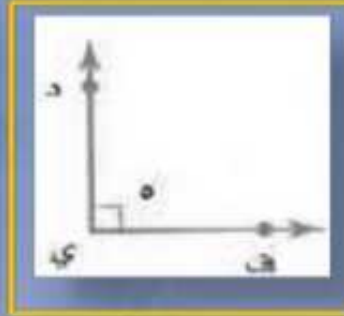

المادة : الرياضيات

عنوان الدرس : العلاقات بين الزوايا

الصف : الأول المتوسط ()

اسم الطالب /

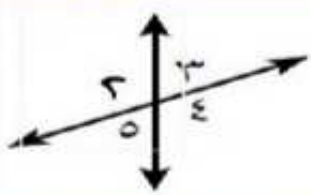
١ / صل كل زاوية بأسمها:



زاوية حادة

زاوية مستقيمة

زاوية قائمة



٢ / من الشكل المجاور اختر الإجابة الصحيحة:

◆ الزاويتان ٣ و ٤

أ / متقابلتين بالرأس

ب / متجاورتين

ج / غير ذلك

◆ الزاويتان ٣ و ٥

أ / متقابلتين بالرأس

ب / متجاورتين

ج / غير ذلك