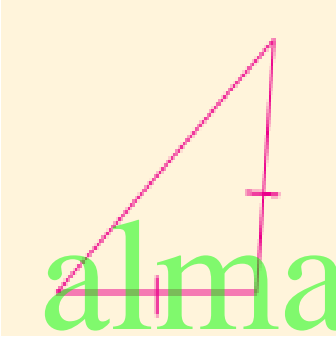


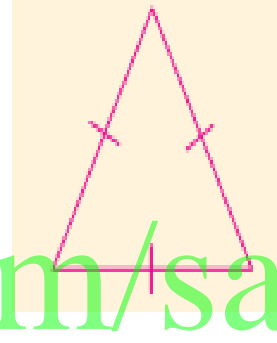
ورقة عمل المثلثات

ضعي رقم حالة كل مثلث أمام رسمته فيما يلي :

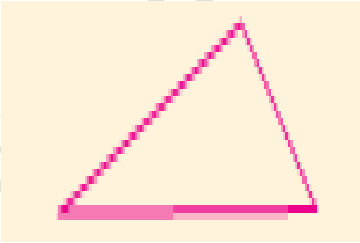
- (1) مثلث مختلف الأضلاع وزواياه حادة .
- (2) مثلث متطابق الضلعين ومنفرج الزاوية .
- (3) مثلث متطابق الأضلاع وزواياه حادة .
- (4) مثلث قائم الزاوية ومختلف الأضلاع .



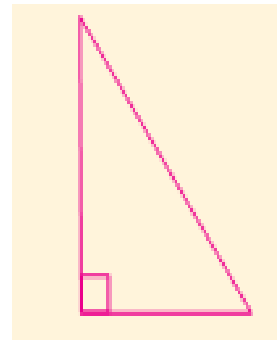
()



()



()



()