

تم تحميل هذا الملف من موقع المناهج السعودية



\*للحصول على أوراق عمل لجميع الصفوف وجميع المواد اضغط هنا

<https://www.almanahj.com/sa>

\* للحصول على أوراق عمل لجميع مواد الصف الأول المتوسط اضغط هنا

<https://almanahj.com/sa/7>

\* للحصول على جميع أوراق الصف الأول المتوسط في مادة رياضيات ولجميع الفصول, اضغط هنا

<https://almanahj.com/sa/7math>

\* للحصول على أوراق عمل لجميع مواد الصف الأول المتوسط في مادة رياضيات الخاصة بـ الفصل الثاني اضغط هنا

<https://www.almanahj.com/sa/7math2>

\* لتحميل كتب جميع المواد في جميع الفصول للـ الصف الأول المتوسط اضغط هنا


<https://www.almanahj.com/sa/grade7>

للحصول على جميع روابط الصفوف على تلغرام وفيسبوك من قنوات وصفحات: اضغط هنا <https://me.t://https://www.almanahj.com/sa/grade7>

الفاقد التعليمي للفصل ٦ الاحصاء والاحتمالات للصف الأول متوسط

الاسم :

الصف: ١ /



مدرسة : في السؤالين ٢ و ٣ استعمل التمثيل المجاور الذي يبين نتيجة مسح إحصائي يتعلق بمدة الدراسة المفضلة لدى الطلاب.

٢ ما المدة المفضلة لأكثر عدد من الطلاب؟

- (أ) ١ (ب) ٢  
(ج) ٣ (د) ٥

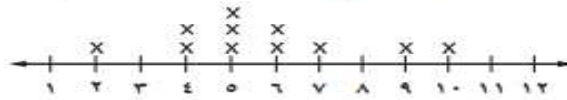
٣ كم طالبًا شارك في المسح الإحصائي؟

- (أ) ٥٥ (ب) ١٠٥ (ج) ١٦٢ (د) ١٨٤



استعمل التمثيل بالنقاط أدناه لحل الأسئلة ٣-٧ :

عدد الكتب التي قرأها مجموعة من الطلاب



٣ ما مدى البيانات؟

- (أ) ١٠ (ب) ٨ (ج) ٥ (د) ٣

٤ ما المنوال؟

- (أ) ١٠ (ب) ٩ (ج) ٥ (د) ٣

٥ أي مما يأتي تصف الفجوات للبيانات؟

- (أ) ٤-٢ (ب) ٧-٤ (ج) ٩-٤ (د) ١٠-١

٦ أي مما يأتي تظهر التجمع للبيانات؟

- (أ) ٤-١ (ب) ٧-٤ (ج) ٩-٤ (د) ١٠-١

٧ كم طالبًا قرأ أكثر من ٤ كتب؟

- (أ) ٣ (ب) ٥ (ج) ٨ (د) ١٠

أنشطة مدرسية : إذا اختارت عائشة عشوائياً أحد الأنشطة التالية: الفني، الثقافي، العلمي فإن احتمال اختيارها للنشاط العلمي هو :

- (أ)  $\frac{1}{3}$  (ب)  $\frac{1}{2}$  (ج)  $\frac{1}{4}$  (د)  $\frac{2}{3}$

(٢)



درجات: يظهر الشكل المجاور درجة الحرارة الدنيا الفهرنهايتية في إحدى المدن. في أي الأشهر كانت درجة الحرارة أقل من ٤٠ ف؟

- (أ) ربيع أول- ذي القعدة (ب) رجب- رمضان  
(ج) المحرم، صفر، ذي الحجة (د) شوال، ذي القعدة

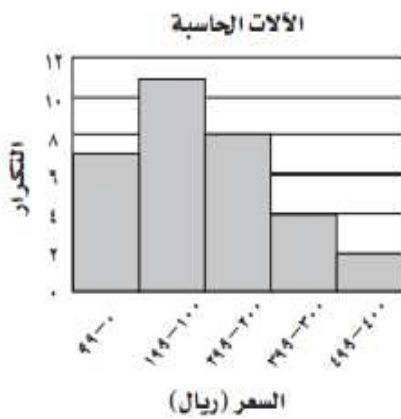
استعمل مبدأ العد الأساسي لإيجاد عدد النواتج الممكنة في كل من السؤالين ١٢، ١٣

١٢ رمي ثلاث قطع نقود، ومكعب أرقام عليه ستة أرقام مختلفة.

- (أ) ٤٨ (ب) ٢٤ (ج) ١٢ (د) ٤

١٣ اختيار القهوة أو الشاي، كل منهما بالسكر، أو بالعسل، أو بالحليب، ويُقدّم كلٌّ منهما في كأس، أو في كوب بلاستيكي.

- (أ) ٢٤ (ب) ١٢ (ج) ٧ (د) ٦



تسوّق: استعمل المدرج التكراري المجاور الذي يوضّح أسعار

الألات الحاسبة بالريال؛ للإجابة عن السؤال ١٤.

١٤ ما الفئة ذات التكرار الأكبر؟

- (أ) ٤٠٠-٤٩٩ ريالاً (ب) ١٠٠-١٩٩ ريالاً  
(ج) ٠-٩٩ ريالاً (د) ١١ ريالاً

