

تم تحميل هذا الملف من موقع المناهج السعودية



موقع المناهج المنهاج السعودي

* للحصول على أوراق عمل لجميع الصفوف وجميع المواد اضغط هنا

<https://www.almanahj.com/sa>

* للحصول على أوراق عمل لجميع مواد الصف الأول المتوسط اضغط هنا

<https://almanahj.com/sa/7>

* للحصول على جميع أوراق الصف الأول المتوسط في مادة رياضيات ولجميع الفصول, اضغط هنا

<https://almanahj.com/sa/7math>

* للحصول على أوراق عمل لجميع مواد الصف الأول المتوسط في مادة رياضيات الخاصة بـ الفصل الثاني اضغط هنا

<https://www.almanahj.com/sa/7math2>

* لتحميل كتب جميع المواد في جميع الفصول للـ الصف الأول المتوسط اضغط هنا

<https://www.almanahj.com/sa/grade7>

للحصول على جميع روابط الصفوف على تلغرام وفيسبوك من قنوات وصفحات: اضغط هنا

<https://t.me/sacourse>



المملكة العربية السعودية
الرياضيات

وزارة التربية والتعليم
الإدارة العامة للتربية والتعليم بالقصيم
14 35 / 7 / 26 هـ

مكتب التربية والتعليم.....

308

المادة :-
الصف :- اول متوسط
التاريخ :-

الفترة :- الأولى

الزمن: ساعتين ونصف

14 35 / 14 34 هـ

التوقيع

المعلم المراجع

التوقيع

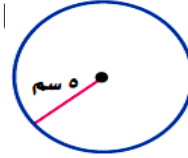
المعلم المصحح :

اسم الطالب: رقم اللجنة: رقم الجلوس:

1	يقال أن الزاويتان متتامتان إذا كان مجموع قياسهما يساوي	~ 90 %	~ 180 %	~ 360 %	~ 60 %
2	مسألة : الزاويتان لا 1 ، لا 3				
~ 1	متجاورتان	~ 2	~ 4	~ 6	~ 8
3	باستخدام مبدأ العد الأساسي : عدد النواتج الممكنة عند رمي مكعب ارقام وقطعة نقود	~ 2	~ 4	~ 6	~ 8
4	النسبة المئوية لـ 9 ريال من 90 ريال تساوي :	~ 10 %	~ 20 %	~ 30 %	~ 40 %
5	القيمة الأكثر تكراراً بين مجموعة من القيم تسمى	~ 1	~ 2	~ 3	~ 4
~ 1	المعدل الحسابي	~ 2	~ 3	~ 4	~ 5
6	محيط (علم) شكل المجاور يساوي * 3. ()				
~ 1	20 م	~ 2	~ 3	~ 4	~ 5
7	مسألة : مساحة مثلث قائم الزاوية				

ضح عدد الساعات التي يقضيها الطلاب في مشاهدة التلفاز كل أسبوع

ب ~ ا
لايجاد:



ا ~ 87.5

ب ~ 78.5

ج ~ 70

د ~ 65

~1

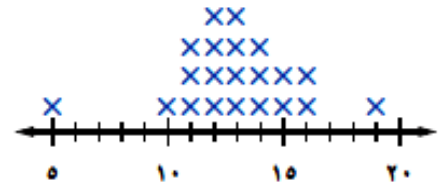
(التجمع) :

~2 القيم

المتطرفة :

~3 المدى

عدد ساعات مشاهدة التلفاز



ج ~ قَدَّر :

47 % من 70

السؤال

28

ا ~ اجيب من خلال الشكل المقابل :



سمّ الزاوية المجاورة بأربع طرق

..... ② ①

..... ④ ③

..... ①


28

ب ~ استعمل الجدول والدائره التاليه لتمثيل البيانات على شكل قطاعات دائرية

زوار حديقة الحيوانات

النسبة المئوية	الزوار
60%	أطفال
20%	نساء
10%	رجال
	المجموع

زاوية القطاع



ج في مقصف مدرسة ،

3 علب عصير عنب ، 8 علبة عصير برتقال ، 9 علب عصير تفاح
أوجد الاحتمالات التالية :
ح (عنب) -

ح (برتقال أو تفاح) =

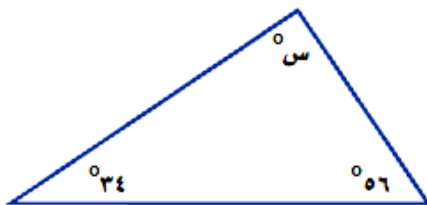
2.5	العلام	د~ ضع علامة (ض) أمام العبارة الصحيحة و (ض) أمام العبارة الخاطئة مع
		1 ~ حجم الاسطوانة يعطى بالقانون (ط ن ق ع)
		2 ~ التمثيل بالخطوط تفيد بالتنبؤ باحداث مستقبلية لانه يبين العلاقات عبر الزمن
		3 ~ اذا تشابه شكلان فان اضلاعهما المتناظرة متناسبة وزواياهما المتناظرة متطابقة
		4 ~ الشكل المركب هو شكل مكوّن من مثلثات واشكال رباعية
		5 ~ الشكل الثلاثي الابعاد هو شكل له طول وعرض وعمق (او ارتفاع)

السؤال الثالث

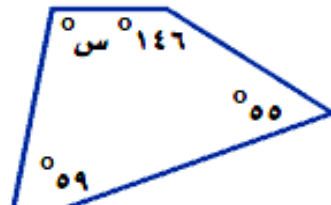
38

ا~ اوجد قيمة ... في ... الأشكال التالية :

~2



~1



ب~ اوجد فضاء العينة باستعمال الجدول لتجربة رمي قطعة نقود مرتين

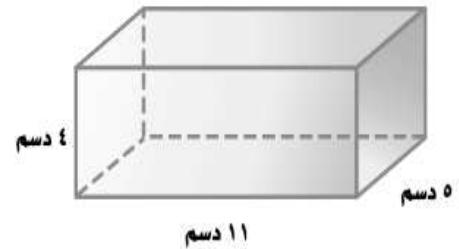
ج~ أوجد قياس كل قائمة في المضاد السابع المنتظم

السؤال الرابع

ا~ أوجد السعر الجديد :

اطاعة سعده الأصل 250 ، بالزيادة نسبة 20% *

ب~ أوجد حجم المنشور التالي :



ج~ استعمل التمثيل بالأعمدة لعرض البيانات

بالجدول التالي

عدد الميداليات لكل لاعب		
اللاعب	الميداليات	
سعد	١٤	
صالح	١٢	
علي	١١	
فهد	١١	
حمد	٨	