

تم تحميل هذا الملف من موقع المناهج السعودية



الملف مقارنة الأعداد الصحيحة وترتيبها

[موقع المناهج](#) ⇌ [المناهج السعودية](#) ⇌ [الصف الأول المتوسط](#) ⇌ [رياضيات](#) ⇌ [الفصل الأول](#)

الملف مقارنة الأعداد الصحيحة وترتيبها

[موقع المناهج](#) ⇌ [المناهج السعودية](#) ⇌ [الصف الأول المتوسط](#) ⇌ [رياضيات](#) ⇌ [الفصل الأول](#)

المزيد من الملفات بحسب الصف الأول المتوسط والمادة رياضيات في الفصل الأول

كتاب الطالب	1
دليل المعلم	2
تحميل كتاب الطالب	3
دليل التقويم	4
ورقة عمل الخطوات الأربعة لحل المشكلة	5



مقارنة الأعداد الصحيحة وترتيبها

- ترتيب الأعداد الصحيحة
- مقارنة الأعداد الصحيحة

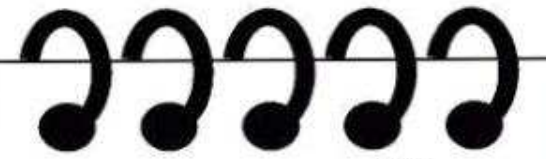
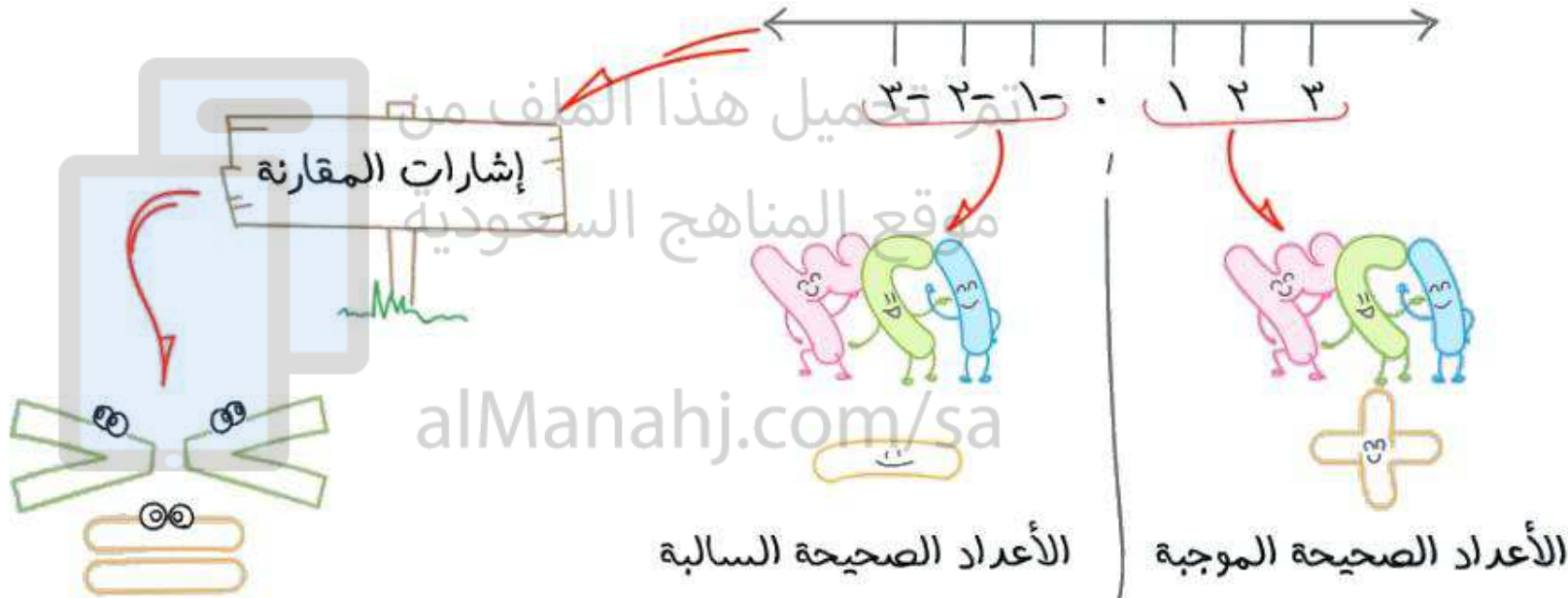


أهداف الدرس

رابط الدرس الرقمي



المعرفة السابقة



سنتعلم اليوم:

مقارنة الأعداد الصحيحة

وترتيبها



iPhone 12

5.4" OLED

5G



iPhone 12 Max

6.1" OLED

5G



iPhone 12 Pro

6.1" OLED

5G



iPhone 12 Pro Max

6.7" OLED

5G



مهارة

علامات المقارنة



أكبر من




يساوي



أصغر من

تم تحميل هذا الملف من
موقع المشاهير السعودية

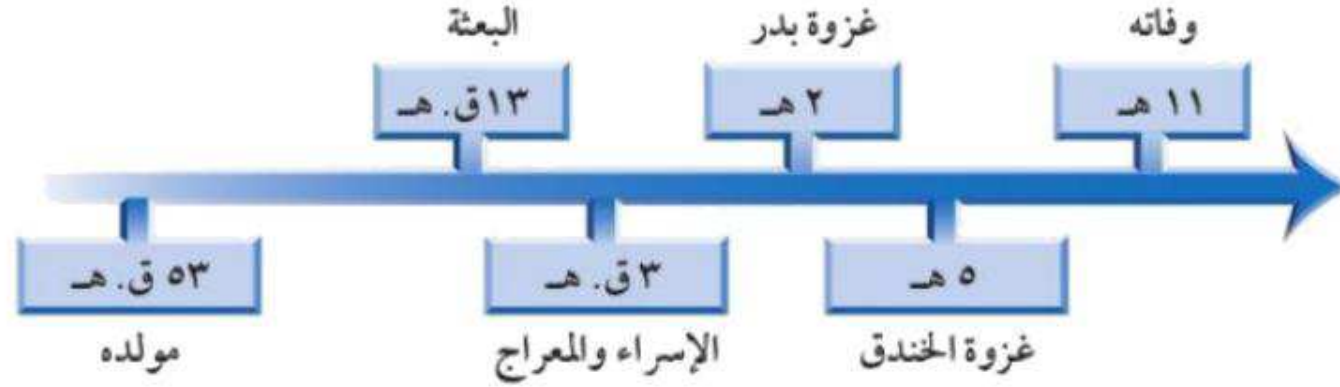
alManar.com/sa



مَهَيِّدٌ

اللهم صل وسلم على
نبينا محمد

تاريخ: يبين الخط الزمني التالي بعض أحداث سيرة النبي ﷺ.

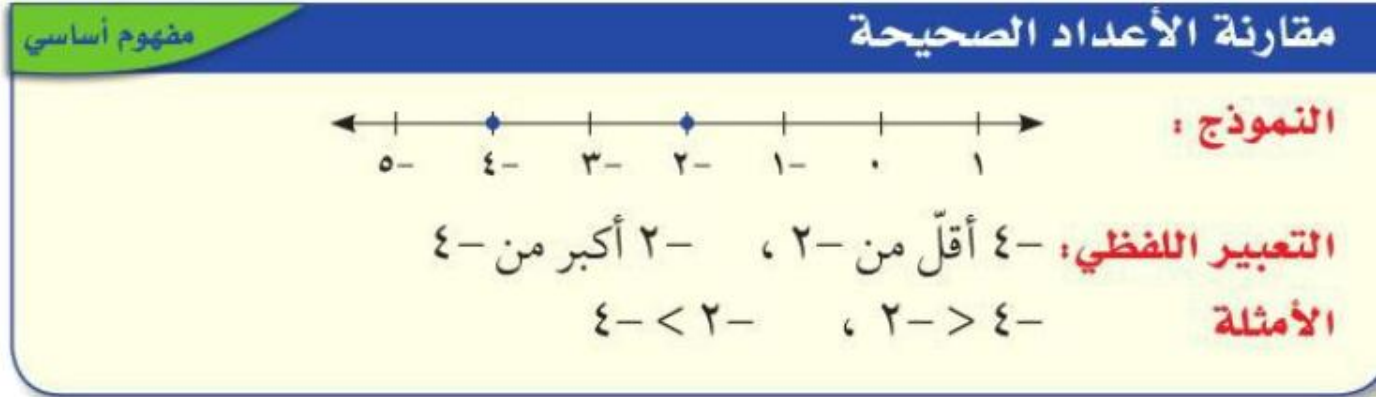


تم تحميل هذا الملف من
موقع المناهج السعودية
كانت الهجرة الأولى للحبشة في السنة ٨ قبل الهجرة، فهل كانت قبل
الإسراء والمعراج أم بعده؟

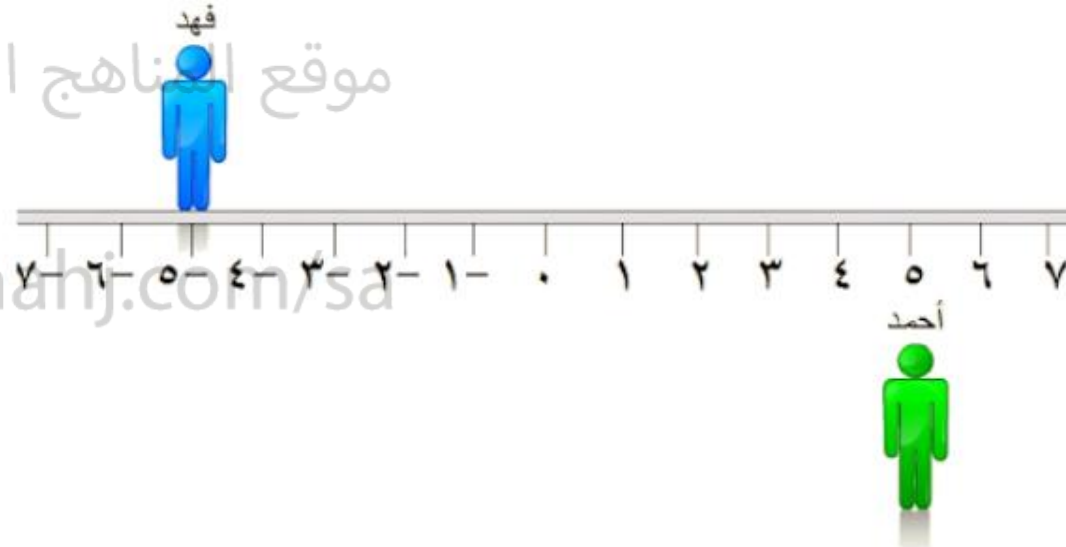
إذا علمت أن غزوة أحد كانت في السنة الثالثة من الهجرة، فما الحدثان
الليذان تقع غزوة أحد بينهما؟

alManahj.com/sa

عندما يتم تمثيل عددين بيانيًا على خط الأعداد، فإن العدد الذي يقع إلى اليسار يكون دائمًا أقل من العدد الواقع إلى اليمين، فالعدد الأيمن دائمًا أكبر من العدد الأيسر.



تم تحميل هذا الملف من
موقع المناهج السعودية

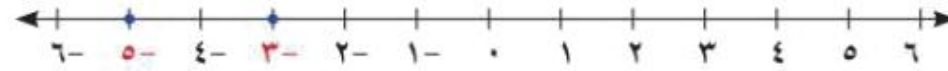


alManahj.com/sa



ضع إشارة < أو > في \bullet لتصبح $5 - \bullet$ $3 - \bullet$ جملة صحيحة.



مثّل كلّاً من العددين الصحيحين بيانياً على خط الأعداد:



بما أنّ $5 -$ يقع إلى يسار $3 -$ ، فإنّ $5 - > 3 -$ تم تحميل هذا الملف من

موقع المناهج السعودية

alManahj.com/sa



تقوية ضع إشارة < أو > في • ليصبح كل مما يأتي جملة صحيحة:

أ- ٨- • ٤-

٨- ٢١- • ١٢-

٢- ٢- • ٨

٩- ١٥- • ٣٣-

٣- • ١٠-

١٧- ١٢- • ١٢|

تم تحميل هذا الملف من
موقع المناهج السعودية

alManahj.com/sa

مثال من اختبار

أمامك قائمة تمثل درجات حرارة سُجِّلَتْ في ٤ عواصم لدول عربية في أحد أيام فصل الشتاء. أيّ ممّا يأتي يمثّل ترتيب درجات الحرارة من الأعلى إلى الأدنى؟

العاصمة	درجة الحرارة
الرياض	١٩
عمان	٦-
المنامة	٢٢
بيروت	١٢-

(أ) ٦-، ٢٢، ١٢-، ١٩

(ب) ٢٢، ١٢-، ١٩، ٦-

(ج) ٢٢، ١٩، ٦-، ١٢-

(د) ١٢-، ٦-، ١٩، ٢٢

إرشادات للاختبارات

حذف البدائل غير الصحيحة:

إذا لم تكن متأكدًا من الإجابة الصحيحة، فاحذف البدائل التي تعرف أنها غير صحيحة. فيمكنك حذف البديلين ب، ج؛ لأنهما يبدآن بعددين سالبين.

اقرأ:


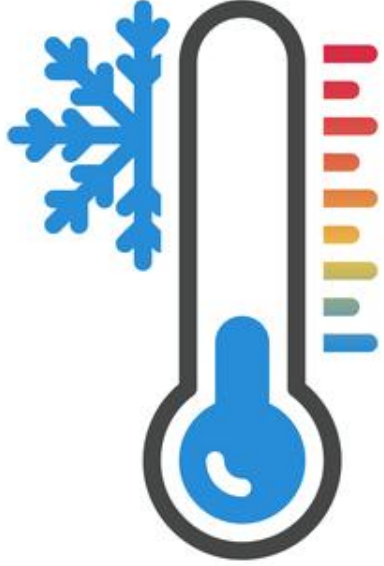
لترتيب الأعداد الأربعة مثلها بيانًا على خط الأعداد:

حل:

ارمز إلى الرياض بالرمز ر، وإلى عمان ع، والمنامة م، وبيروت ب:



رتّب الأعداد من الأعلى إلى الأدنى بقراءتها على خط الأعداد من اليمين إلى اليسار: ٢٢، ١٩، ٦-، ١٢-، إذن الإجابة الصحيحة هي د.



تم تحميل هذا الملف من
موقع المناهج السعودية

alManahj.com/sa

تقوية
رتب الأعداد الصحيحة في كل مجموعة من الأصغر إلى الأكبر:

٤ {٤، ٠، ٢-، ٩، ١٣-}

١٤ {١٠، ٢٣-، ١٥-، ٨، ١٥، ١٢-}

تم تحميل هذا الملف من
موقع المناهج السعودية

alManahj.com/sa

طقس: اخترع مؤشر برودة الهواء

عام ١٩٣٩ م. مستعملًا الجدول المجاور،

في أيّ الحالتين يشعر الفرد بالبرودة أكثر:

عند درجة حرارة ١٠°س بسرعة

١٥ ميلًا / ساعة، أم عند درجة حرارة ٥°س

بسرعة ١٠ أميال / ساعة؟

تم تحميل هذا الملف من
موقع المناهج السعودية

alManahj.com/sa

برودة الهواء					
درجة الحرارة (سيلييزية)					سرعة الرياح ميل / ساعة
٥-	٠	٥	١٠	١٥	٥
١٦-	١١-	٥-	١	٧	١٠
٢٢-	١٦-	١٠-	٤-	٣	١٥
٢٦-	١٩-	١٣-	٧-	٠	٢٠
٢٩-	٢٣-	١٥-	٩-	٢-	

حسن عددي: إذا كان العدد صفر هو أكبر عدد صحيح في مجموعة مكونة من خمسة أعداد صحيحة، فماذا تستنتج عن الأعداد الأربعة الأخرى؟



alManahj.com/sa

ملخص مفهوم



مقارنة الأعداد الصحيحة وترتيبها



تم تحميل هذا الملف من
موقع المناهج السعودية

alManahj.com/sa





قيم نفسك

اختر الإجابة الصحيحة



تمثل القوائم التالية الأرباح، والخسائر الإسبوعية بالآلاف لمحل تجاري. أيها مرتب من الأصغر إلى الأكبر

تم تحميل هذا الملف من

موقع المناهج السعودية

alManahj.com/sa

٥،٢،١٠،١-،٣-



٥،٣-،٢-،١-،١٠



٣-،١-،١٠،٢،٥



٥،٢،١٠،٣-،١-

